

مدرسة غرة جوان	تقييم مكتسبات التلاميذ في نهاية الثلاثي الثاني رياضيات	القسم: الأولى
-------------------	---	---------------

السند 1: خَرَجَ الْأَطْفَالُ إِلَى الْحَدِيقَةِ :

قَطَفَتْ سَلْوَى 4 زَهْرَاتٍ حُمْرَاءَ وَ 5 زَهْرَاتٍ صَفْرَاءَ .

التعليمة 1: أَحْسِبْ عِدَّةَ الْأَزْهَارِ الْحُمْرَاءِ وَالصَّفْرَاءِ مَعًا :

$$= +$$

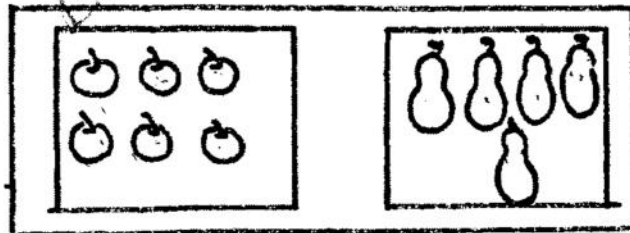
رَامِي يُلَاحِظُ 3 دَاجِيَاتٍ وَ 5 فِرَاجٍ وَدِيكَيْنِ .

التعليمة 2: أَحْسِبْ عِدَّةَ الدَّاجِيَةِ وَالْفِرَاجِ وَالدِّيَكَةِ مَعًا :

$$= + +$$

التعليمة 3: أُرْتَبِ أَعْدَادَ الْعَمَلَةِ تَنَازُلِيًّا :


وَهَذِهِ أَحْسَامُ يَقِطِفُ ثَمَارًا مِنَ الْأَشْجَارِ وَتَضَعُهَا فِي سَلَّةٍ



التعليمة 4: أَعْبُرْ عَنِ اتِّحَادِ الْمَجْمُوعَتَيْنِ بِعَمَلِيَّةٍ جَمْعٍ :

$$= +$$








السَّندُ 2 : أَحَسَّ الْأَطْفَالُ الثَّلَاثَةُ بِالْجُوعِ فَحَادُوا إِلَى الدَّارِ  
فَوَجَدُوا عَلَى الْمَطْبُوءَةِ 6 كَعْكَاتٍ فِي إِنَاءٍ .....



التَّعْلِيمَةُ 5 : أَقَارِنُ بَيْنَ عَدَدِ الْأَطْفَالِ وَعَدَدِ الْكَعْكَاتِ :

.....

السَّندُ 3 : أَخْرَجَ الْأَطْفَالُ مَا يَحْتَاجُونَ مِنْ نُقُودٍ :

حُسَّامُ	سَلْحَوَى	رَامِي
 		    
9 مي	10 مي	مي

التَّعْلِيمَةُ 6 : أَكْمِلْ تَمَثِيلَ نُقُودِ حُسَّامِ :  
التَّعْلِيمَةُ 7 : أَكْمِلْ نُقُودَ سَلْحَوَى بِأَقْلَ عَدَدٍ مِنَ الْقَطْعِ النَّفْدِيَّةِ :  
التَّعْلِيمَةُ 8 : أَحْسِبْ نُقُودَ رَامِي :

السَّنَدُ 4 : قَصَدَ الْأَطْفَالُ مَغَازِرَ قَرِيبَةٍ مِنْ مَنْزِلِهِمْ :

شَرَى رَامِي قِطْعَةً خُلُوى بِ 8 مِي وَشَرَى حُسَامٌ  
عِلْكَةً بِ 7 مِي وَشَرَتْ مَرْيَمُ عُلْبَةً بَسْكَوِيَّتٍ

بِ 10 مِي

التَّعْلِيمَةُ 9 : أَرْتَبِ الْمَبَالِغَ الْمَالِيَّةَ تَصَاعُدِيًّا.

.....

السَّنَدُ 5 : فَتَحَتْ مَرْيَمُ عُلْبَةَ الْبَسْكَوِيَّتِ فَوَجَدَتْ قِطْعَ

الْبَسْكَوِيَّتِ عَلَى شَكْلِ حَيَوَانَاتٍ : 4 بَطَّاتٍ 5 فَرَاشَاتٍ

وَقِطْعَةٍ وَاحِدَةٍ

التَّعْلِيمَةُ 10 : أَمْضِ (x) أَمَاكُمُ السُّؤَالِ النَّاسِبِ لِلْوَضْعَةِ

. كَمْ ثَمَنُ عُلْبَةِ الْبَسْكَوِيَّتِ ؟ ☐

. كَمْ عَدَدُ قِطْعِ الْبَسْكَوِيَّتِ فِي الْعُلْبَةِ ؟ ☐

. كَمْ فَرَاشَةٌ فِي الْحَدِيقَةِ ؟ ☐

التَّعْلِيمَةُ 11 : أُجِيبْ عَنِ السُّؤَالِ بِ :

جُمْلَةً :

عَمَلِيَّةً :