

# الصف الأول الثانوى

## الفصل الدراسى الأول

الباب الأول:

الأساس الكيميائى للحياة

الباب الثانى:

الخلية: التركيب و الوظيفة

إعداد

د/ أحمد مصطفى

01013883112

## التركيب الكيميائي لأجسام الكائنات الحية

تركيب جسم الكائنات الحية و منها الإنسان:

يتركب جسم الانسان من مجموعة من **الأجهزة**  
كل جهاز يتكون من مجموعة من **الأعضاء**  
كل عضو من مجموعة من **الأنسجة**  
كل نسيج يتكون من **خلايا**  
كل خلية تتكون من **عضيات**  
كل عضى يتكون من **جزيئات**  
كل جزيء يتكون من **ذرات**.

تصنيف الجزيئات: التى تدخل فى تركيب الكائنات الحية

جزيئات غير عضوية	جزيئات عضوية (الجزيئات البيولوجية الكبيرة)	
لا يشترط أن تحتوى على ذرات الكربون	<ul style="list-style-type: none"> <li>- جزيئات كبيرة الحجم.</li> <li>- تحتوى على ذرات <b>الكربون و الهيدروجين</b> بشكل أساسى.</li> <li>- تسمى الجزيئات البيولوجية الكبيرة (معظمها يسمى البوليمرات).</li> <li>- ضرورية لحياة الكائن الحى.</li> <li>- تتكون من جزيئات أصغر منها تسمى (مونيمرات) عن طريق عملية <b>البلمرة</b>.</li> </ul>	وصفها
الماء و الأملاح	- الكربوهيدرات و الليبيدات و البروتينات و الأحماض النووية	أمثلة

## البوليمرات: المركبات البيولوجية الكبيرة

تعريفها:

هى جزيئات بيولوجية كبيرة تتكون من عدة جزيئات أصغر (مونيمرات) تسمى السكريات الأحادية.

المونيمرات	<ul style="list-style-type: none"> <li>- جزيئات صغيرة الحجم.</li> <li>- تتحد مع بعضها فى عملية البلمرة لتكوين جزيئات كبيرة الحجم تسمى البوليمرات.</li> </ul>
عملية البلمرة	- هى عملية تكوين الجزيئات الكبيرة (البوليمرات) من الجزيئات الصغيرة (المونيمرات).
البوليمرات	- جزيئات كبيرة الحجم تتكون من اتحاد جزيئات أصغر تسمى المونيمرات فى عملية البلمرة.
تصنيف البوليمرات	<ul style="list-style-type: none"> <li>- يمكن تقسيمها حسب <b>تركيبها الجزيئى</b> و <b>وظيفتها</b> إلى أربع مجموعات:</li> <li>(الكربوهيدرات - الليبيدات - البروتينات - الأحماض النووية).</li> </ul>

## الكربوهيدرات

أهلاً

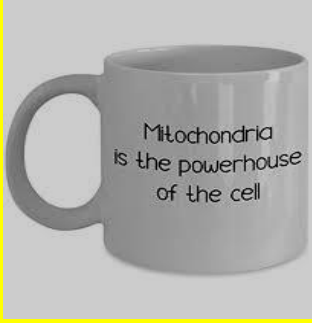
## خصائص الكربوهيدرات

تشمل	النشويات و السكريات و الألياف
الذرات الداخلة في تركيبها	تتكون من ذرات الكربون و الهيدروجين و الأكسجين بنسبة <b>1 : 2 : 1</b>
الصيغة الكيميائية العامة	<b>(CH<sub>2</sub>O)<sub>n</sub></b>
المونيمرات	السكريات الأحادية
أهميتها	<p>١ - <b>الحصول على الطاقة:</b> من المصادر الأساسية و السريعة للحصول على الطاقة.</p> <p>٢ - <b>تخزين الطاقة:</b> تستخدمها الكائنات الحية لتخزين الطاقة لحين الحاجة إليها:</p> <p>- تخزن الكربوهيدرات في النبات على صورة <b>نشأ</b>.</p> <p>- تخزن في الإنسان و الحيوان على صورة <b>جليكوجين</b> في خلايا الكبد و العضلات.</p> <p>٣ <b>بناء الخلايا:</b> تعتبر مكون أساسي لتركيب بعض أجزاء الخلية:</p> <p>- تدخل في تركيب <b>الأغشية الخلوية و البروتوبلازم</b>.</p> <p>- يدخل <b>السليولوز</b> في تركيب الجدار الخلوي للخلية النباتية.</p>
تصنيفها	يتم تصنيف الكربوهيدرات على أساس <b>التركيب الجزيئي</b> لها إلى: <b>سكريات بسيطة و معقدة</b> .
السكريات البسيطة	السكريات المعقدة
تذوب في الماء	لا تذوب في الماء
وزنها الجزيئي منخفض	وزنها الجزيئي عالي
لها طعم حلو	ليس لها طعم حلو
تنقسم إلى سكريات أحادية و سكريات ثنائية	
<b>السكريات الأحادية</b>	<b>السكريات الثنائية</b>
أبسط أنواع السكريات (علل) لأنها من جزيء واحد فقط يحتوى على ذرات كربون (من 3 الى 6) ترتبط بطريقة معينة مع ذرات الأكسجين و الهيدروجين. <b>أمثلة:</b> <b>الجلوكوز</b> (سكر العنب) <b>الفركتوز</b> (سكر الفواكه) <b>الجالاكتوز</b> (يخلق في الغدد المنتجة للبن) <b>الريبوز</b> (سكر خماسي الكربون يدخل في تركيب RNA).	كل جزيء يتكون من اتحاد جزيئين معاً من السكريات الأحادية. <b>المالتوز</b> (سكر الشعير): جلوكوز + جلوكوز <b>السكروروز</b> (سكر القصب): جلوكوز + فركتوز. <b>اللاكتوز</b> (سكر اللبن): جلوكوز + جالاكتوز.

## الكشف عن الكربوهيدرات

نوع الكربوهيدرات	الكاشف المستخدم	التغير
السكريات الأحادية	كاشف بندكت (لونه أزرق)	- يتغير لونه من <b>اللون الأزرق</b> الى <b>اللون البرتقالي</b> . - يستخدم في الكشف عن السكر في البول و الدم.
النشأ	محلول اليود (لونه برتقالي)	يتغير لونه من <b>اللون البرتقالي</b> الى <b>اللون الأزرق</b> يستخدم في الكشف عن النشأ في الأطعمة المختلفة.

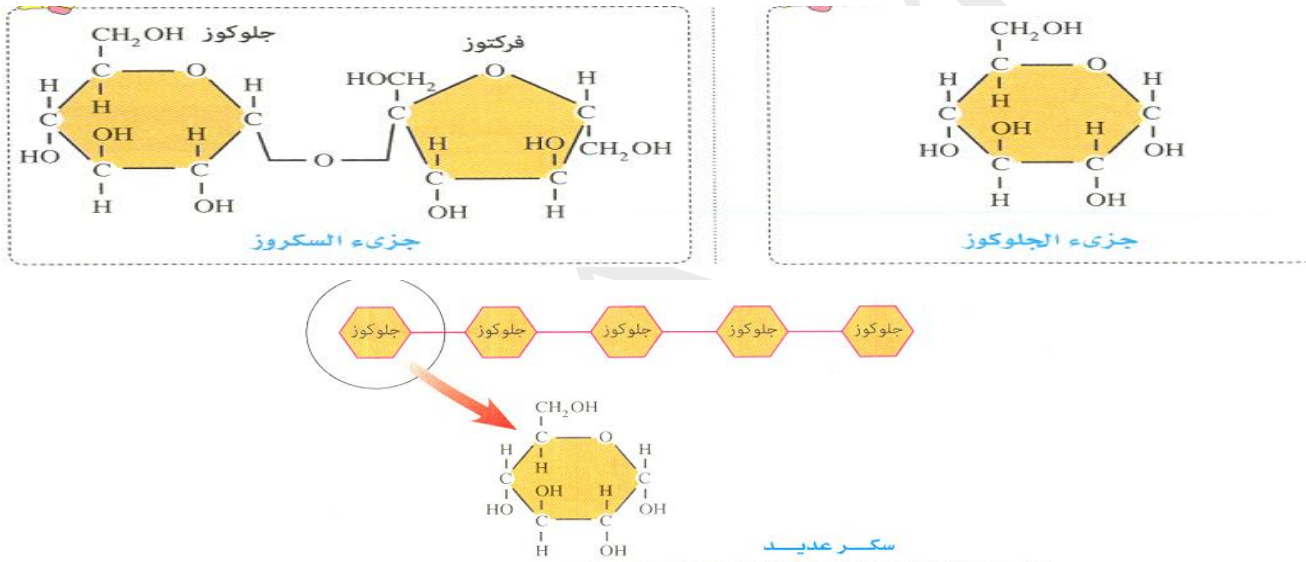
## • دور السكريات الأحادية في عمليات نقل الطاقة داخل خلايا الكائنات الحية:



- ١ تتم أكسدة سكر الجلوكوز في الخلية داخل عضيات الميتوكوندريا.
- ٢ - تنطلق الطاقة المخزنة في الروابط الكيميائية في جزيء الجلوكوز لتخزن في مركبات تسمى أدينوسين ثلاثي الفوسفات (ATP).
- ٣ - تنتقل جزيئات ATP من الميتوكوندريا إلى أماكن أخرى في الخلية ليتم استخدام الطاقة المخزنة فيها في جميع العمليات الحيوية المختلفة.

## يجب على مرضى السكر و السمنة الابتعاد عن تناول الأطعمة السكرية و النشوية

من الأطعمة الغنية بالنشا	المكرونات - القمح - الخبز.
من أمثلة الأطعمة الفقيرة بالنشا	فول الصويا - الجزر - الكرفس - بذور البازلاء.
من الأطعمة التي لا تحتوي على النشا	مسحوق الحليب - الطماطم - التفاح الأخضر - السكر.



## اختر الإجابة الصحيحة

- ١ من أمثلة الجزيئات البيولوجية الكبيرة التي تتكون منها خلايا الكائن الحي .....  
(الكربوهيدرات - الليبيدات - البروتينات - الأحماض النووية - جميع ما سبق)
- ٢ يتم تخزين المواد الكربوهيدراتية في النباتات على صورة .....  
(سليولوز - جليكوجين - نشا - جلوكوز)
- ٣ العملية التي تتحد فيها الجزيئات الصغيرة لتكوين جزيئات كبيرة تسمى .....  
(الهضم - الأكسدة - البلمرة - الأيض)
- ٤ كل مما يأتي من المونيمرات ماعدا .....  
(الجلوكوز - الأحماض الأمينية - الأحماض الدهنية - الجليكوجين)
- ٥ تشترك الليبيدات و الكربوهيدرات و البروتينات و الأحماض النووية ماعدا .....  
- ضرورية لاستمرار الحياة.  
- لا يشترط أن تحتوي على الكربون.  
- تتكون من وحدات صغيرة تسمى مونيمرات.  
- تسمى بوليمرات أو جزيئات بيولوجية كبيرة.
- ٦ كل مما يأتي من خصائص الجزيئات غير العضوية ماعدا .....  
- لا يشترط أن تحتوي على الكربون.  
- من أمثلتها الماء و الأملاح.  
- تدخل في بناء الكائنات الحية.  
- جزيئات كبيرة الحجم.

٧ - أي مما يلي ليس من المركبات البيولوجية العضوية؟ ..... (أي الجزيئات الآتية لا يحتوى على كربون)

(الليبيدات - الماء - الكربوهيدرات - الأحماض النووية)

٨ - السكريات المسنولة عن إنتاج ونقل الطاقة داخل الخلايا هي ..... (الأحادية - الثنائية - المعقدة - المشتقة)

٩ - الصيغة الكيميائية العامة للكربوهيدرات ..... ( $(C_2HO)_n$  -  $(CH_2O)_n$  -  $C_3H_6O_3$  -  $C_2H_5OH$ )

١٠ - إذا كان عدد ذرات الكربون في سكر الريبوز هو 5 ذرات فإن عدد ذرات الأكسجين في نفس الجزيء هو ..... (20 - 15 - 10 - 5)

١١ - عدد ذرات الأكسجين في السكر الذي يدخل في بناء نيوكليوتيدة DNA هو ..... (10 - 9 - 5 - 4)

١٢ - عدد ذرات الكربون في جزيء المالتوز ..... (12 - 10 - 8 - 6)

١٣ - يعتبر كل مما يأتي من أمثلة الكربوهيدرات ..... (النشويات - السكريات - الألياف - جميع ما سبق)

١٤ - كل مما يأتي من خصائص السكريات البسيطة ما عدا ..... (تذوب في الماء - ليس لها طعم - ذات وزن جزيئي صغير نسبياً)

١٥ - تخزن النباتات الكربوهيدرات في صورة ..... (نشأ - سليلوز - مالتوز - جليكوجين)

١٦ - كل مما يأتي لا يذوب في الماء ما عدا ..... (النشأ - السليلوز - السكروز - الجليكوجين)

١٧ - من أمثلة السكريات الثنائية ..... (الجلوكوز - الجالاكتوز - السكروز - الفركتوز)

١٨ - يتكون جزيء المالتوز من اتحاد ..... (جلوكوز + جلوكوز - جلوكوز + فركتوز - جلوكوز + جالاكتوز - فركتوز + سكروز)

١٩ - تمتص الكربوهيدرات من الأمعاء على شكل سكريات ..... (أحادية - ثنائية - بسيطة - معقدة - عديدة)

٢٠ - الطاقة المنطلقة من أكسدة الجلوكوز يتم تخزينها في جزيئات ..... (PGAL - ATP - ADT - AMP)

٢١ - تتم عملية أكسدة الجلوكوز للحصول على الطاقة داخل عضيات تسمى ..... (النواة - الريبوسومات - الميتوكوندريا - الليسوسومات)

٢٢ - أكسدة الجلوكوز للحصول على الطاقة تعتبر عملية ..... (هدم - بلمرة - اختزال - بناء)

٢٣ - للحد من الزيادة في الوزن ينصح بتقليل تناول ..... (النشويات - الفيتامينات - الأملاح المعدنية - البروتينات)

٢٤ - يتم تخزين الكربوهيدرات في كبد و عضلات الحيوان في صورة ..... (جليكوجين - سليلوز - نشأ - مالتوز)

٢٥ - الوحدات البنائية للمادة التي يتكون منها الجدار الخلوى هي ..... (المالتوز - الفركتوز - الجلوكوز - الجالاكتوز)

٢٦ - يمكن استخدام كاشف بندكت في الكشف عن ..... (السكر الثنائي - السكر العديد - السكر الأحادي - الليبيدات)

٢٧ - يتغير لون محلول اليود في وجود النشا ..... (من الأزرق الى البرتقالى - من البرتقالى الى الأحمر - من الأزرق الى الداكن - من البرتقالى الى الأزرق)

٢٨ - يمكن استخدام محلول اليود في الكشف عن ..... (السكر الأحادي - السكر الثنائي - السكر العديد - البروتينات)

٢٩ - يستخدم محلول اليود في الكشف عن ..... (الجلوكوز - السكروز - السليلوز - النشا)

٣٠ - يتغير لون كاشف بندكت عند وجود ..... في البول و الدم. (الجلوكوز - السكروز - اللاكتوز - النشا)

٣١ - يتغير لون كاشف بندكت في وجود السكر الأحادي ..... (الجلوكوز - السكروز - السكر العديد - الليبيدات)

٣٢ - كلما زادت كمية النشا في المحلول كلما أصبح ..... (من الأزرق الى البرتقالى - من البرتقالى الى الأحمر - من الأزرق الى الداكن - من البرتقالى الى الأزرق)

- لون محلول اليود المضاف إليه فاتحاً أكثر.  
- لون كاشف بندكت داكناً أكثر.

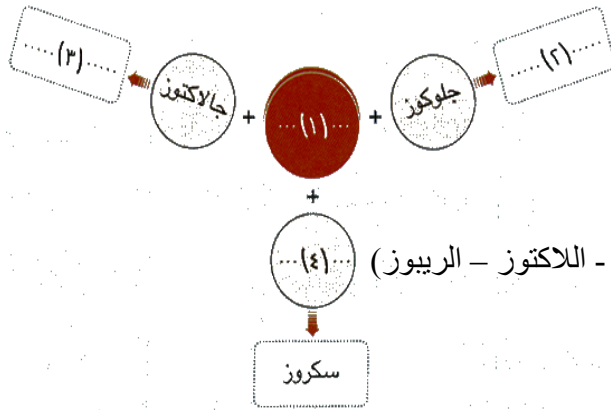
- لون محلول اليود المضاف إليه داكناً أكثر.  
- لون كاشف بندكت داكناً أكثر.

٣٣ - يعمل انزيم الأميليز على تحليل .....

- النشا إلى مالتوز  
- المالتوز إلى جلوكوز

- الجليكوجين إلى جلوكوز  
- السليلوز إلى جلوكوز

### تأمل الشكل التالي ثم أجب عن الأسئلة



٣٤ - السكر رقم 1 هو (الجلوكوز - الفركتوز - الجالاكتوز - الريبوز)

٣٥ - السكر رقم 2 هو (الجلوكوز - المالتوز - الجالاكتوز - الريبوز)

٣٦ - السكر رقم 3 هو (الجلوكوز - الفركتوز - اللاكتوز - الريبوز)

٣٧ - السكر رقم 4 هو (الجلوكوز - الفركتوز - الجالاكتوز - الريبوز)

٣٨ - السكر ..... الذى يخلق فى الغدد المنتجة للبن. (الجلوكوز - الجالاكتوز - اللاكتوز - الريبوز)

٣٩ - السكر رقم .... يطلق عليه سكر الشعير (1 - 2 - 3 - 4)

٤٠ - السكر رقم .... يطلق عليه سكر اللبن (1 - 2 - 3 - 4)

٤١ - السكر رقم .... يطلق عليه سكر الفواكه (1 - 2 - 3 - 4)

٤٢ - اتحاد العديد من جزيئات السكر رقم 1 ينتج كلاً مما يأتى ماعدا ..... (السليلوز - النشا - المالتوز - الجليكوجين)

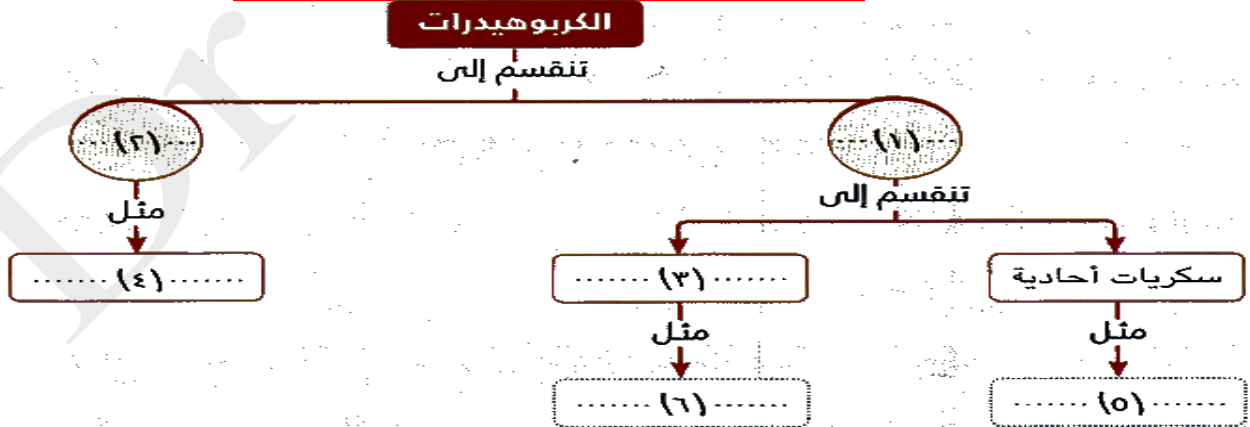
٤٣ - إذا تحلل الجدار الخلوى للفطريات و الطحالب و بعض أنواع من البكتريا إلى الوحدات البنائية لمكوناته ينتج السكر رقم

(1 - 2 - 3 - 4)

٤٤ - تشترك جميع المكونات الموجودة فى الشكل فى كل مما يأتى ماعدا .....

- تذوب فى الماء - عدد ذرات الكربون فيها يتجاوز 12 ذرة - لها طعم حلو - عدد ذرات الكربون فيها أقل من 12 ذرة

### تأمل الشكل التالي ثم أجب عن الأسئلة



(سكر أحادى - سكر بسيط - سكر ثنائى - سكر معقد)

(سكر أحادى - سكر بسيط - سكر ثنائى - سكر معقد)

(الجليكوجين - النشا - السليلوز - الجلوكوز)

(السكروز - المالتوز - الفركتوز - اللاكتوز)

(النشا - الجليكوجين - السليلوز - الجلوكوز)

٤٥ - رقم 1 تمثل .....

٤٦ - رقم 2 تمثل .....

٤٧ - كل الجزيئات الآتية يمكن أن تمثل الرقم 4 ماعدا .....

٤٨ - يمكن أن يستبدل الرقم 6 بكل مما يأتى ماعدا .....

٤٩ - ضع بدلا من رقم 4 جزء يدخل فى تركيب الجدار الخلوى.

- ٥٠ -ضع بدلا من رقم 4 جزىء يخزن فى الكبد و العضلات . (الجليكوجين - النشا - السليلوز - الجلوكوز)
- ٥١ -ضع بدلا من رقم 5 جزىء يدخل فى تركيب RNA . (الريبوز - الجلوكوز - الفركتوز - اللاكتوز)
- ٥٢ -ضع بدلا من رقم 6 جزىء يمثل سكر اللبن . (السليلوز - اللاكتوز - المالتوز - السكروز)
- ٥٣ -ضع بدلا من رقم 5 جزىء يخلق فى الغدد المنتجة للحليب . (الريبوز - الجلوكوز - الفركتوز - الجالاكتوز)
- ٥٤ -يتغير لون كاشف بندكت عند إضافته الى محلول من رقم ..... (1 - 2 - 5 - 6)
- ٥٥ -يتغير لون محلول اليود عند إضافته الى محلول من مادة من المواد التى تنتمى الى رقم ..... (1 - 2 - 4 - 6)
- ٥٦ -أكبر عدد من ذرات الكربون يمكن أن يوجد فى رقم 5 هو ..... (3 - 6 - 9 - 12)
- ٥٧ -أكبر عدد من ذرات الكربون يمكن أن يوجد فى رقم 6 هو ..... (3 - 6 - 9 - 12)
- ٥٨ -عدد ذرات الكربون فى رقم 4 ..... (بين 3 و 6 ذرات - أقل من 12 ذرة - 12 ذرة - أكبر من 12 ذرة)

**تعريفها:**

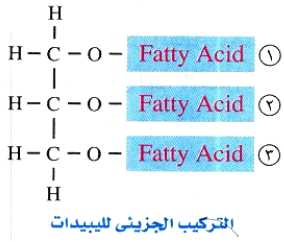
هى جزيئات بيولوجية كبيرة (بوليمرات) تتكون من عدة جزيئات أصغر (مونيمرات) تسمى الأحماض الدهنية و تتكون الليبيدات من مجموعة كبيرة من المركبات غير المتجانسة.

**خصائص الليبيدات**

تشمل	الزيوت و الدهون و الشموع و بعض من الهرمونات و المواد الأخرى.
الذرات الداخلة فى تركيبها	تتكون من ذرات الكربون و الهيدروجين و الأكسجين.
الذوبان	- لا تذوب فى المذيبات القطبية مثل الماء. - تذوب فى المذيبات غير القطبية مثل البنزين و رابع كلوريد الكربون. (لذلك يستخدم البنزين فى ازالة البقع الدهنية (علل))
المونيمرات	الأحماض الدهنية.
التركيب الجزيئى	تتكون الليبيدات من اتحاد 3 أحماض دهنية و جزيء واحد جليسرول. (الجليسرول: كحول به ثلاث مجموعات هيدروكسيل (OH))
أهميتها	<p><b>١ الحصول على الطاقة:</b></p> <p>- الطاقة المستمدة من الليبيدات أكبر من الطاقة المستمدة من نفس الكمية من الكربوهيدرات. - لا يبدأ الجسم فى استخلاص الطاقة من الليبيدات إلا فى غياب الكربوهيدرات.</p> <p><b>٢ بناء الخلايا:</b></p> <p>- تمثل الليبيدات حوالى 5% من المواد العضوية الداخلة فى تركيب الخلية الحية. - تلعب الليبيدات (الفوسفوليبيدات) دوراً فى تركيب الأغشية الخلوية (الأغشية البلازمية).</p> <p><b>٣ تعمل كهرمونات:</b></p> <p>بعض الليبيدات تعمل كهرمونات مثل (الاسترويدات).</p> <p><b>٤ تعمل كعازل حرارى:</b></p> <p>تكون الليبيدات (الدهون) طبقات عازلة أسفل الجلد فى الانسان و بعض الحيوانات (مثل الدب القطبى) (علل) بفضلها تستطيع الحيوانات أن تحافظ على درجة حرارتها فى الأماكن شديدة البرودة.</p> <p><b>٥ تعمل كغطاء واقى:</b></p> <p>تغطى الليبيدات (الشموع) أسطح العديد من النباتات و خاصة النباتات الصحراوية (علل) لتقليل فقد الماء فى عملية النتج.</p>
الكشف عنها	يستخدم <b>كاشف سودان 4</b> للكشف عن الدهون فى الأطعمة المختلفة مثل الزيت و اللبن و الزبدة و الفول السودانى (علل) لأنه قابل للذوبان فى الدهون و يتحول لونه فى وجودها إلى <b>اللون الأحمر</b> .
تصنيفها	تصنف تبعاً لتركيبها الكيميائى إلى ليبيدات بسيطة و ليبيدات معقدة و ليبيدات مشتقة.



## الليبيدات البسيطة



**تكوينها:-** تتكون الليبيدات البسيطة من تفاعل الأحماض الدهنية مع الكحولات.

**تقسيمها:-** تقسم الليبيدات البسيطة تبعاً لدرجة تشبع الأحماض الدهنية و نوع الكحولات إلى:

الزيوت و الدهون و الشموع.

الشموع	الدهون	الزيوت	
صلبة	صلبة	دهون سائلة	الحالة في درجات الحرارة العادية
أحماض دهنية ذات أوزان جزيئية عالية مع كحولات أحادية الهيدروكسيل.	أحماض دهنية مشبعة مع الجليسرول.	أحماض دهنية غير مشبعة مع الجليسرول.	تتكون من تفاعل
الشمع الذي يغطي أوراق النباتات و خاصة الصحراوية (علل) لتقليل فقد الماء في عملية النتج.	الدهون المخزنة تحت الجلد في بعض الحيوانات (علل) لتعمل كعازل حراري للحفاظ على درجة حرارتها في الأماكن شديدة البرودة.	الزيوت التي تغطي ريش الطيور المائية (علل) حتى لا ينفذ إليها الماء فتعوق حركتها.	أمثلة

## الليبيدات المعقدة

**تركيبها:-**

يدخل في تركيبها: الكربون C و الهيدروجين H و الأكسجين O بالإضافة الى كل من الفوسفور P و النيتروجين N .

**من أمثلتها: الفوسفوليبيدات:-**

**أهميتها:** الليبيدات توجد في أغشية الخلايا النباتية و الحيوانية.

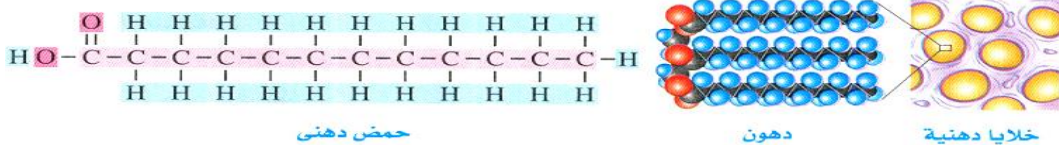
- تركيبها الجزيئي: تشبه جزيئات الدهون مع استبدال الحمض الدهني الثالث (الذي يرتبط بجزيء الجليسرول) بمجموعتي الفوسفات  $\text{PO}_4$  و الكولين.

- أي أن جزيء الفوسفوليبيد يتكون من (2 حمض دهني + جزيء جليسرول + مجموعة  $\text{PO}_4$  و مجموعة الكولين).

## الليبيدات المشتقة

- **تشق من:** التحلل المائي لليبيدات البسيطة و المعقدة.

**من أمثلتها: الكوليسترول و بعض الهرمونات (كما في الاستيرويدات).**



الخلايا الدهنية تتكون من الدهون التي تتكون من أحماض دهنية

## اختر الاجابة الصحيحة

٥٩ - تشترك الكربوهيدرات و أنواع الليبيدات فى كل مما يأتى ماعدا أنها .....

- من البوليمرات - من مصادر الطاقة - تتكون من كربون و هيدروجين و أكسجين فقط - تدخل فى بناء الخلايا

٦٠ - مونيمرات الليبيدات هى .....

- الأحماض الدهنية - الأحماض الأمينية - النيوكليوتيدات - السكر الأحادى

٦١ - كل مما يأتى من خصائص الليبيدات ماعدا .....

- تتكون من أحماض دهنية - تذوب فى المذيبات غير القطبية - مركبات متجانسة - مصدر للطاقة فى الجسم

٦٢ - آخر مادة من المواد الاتية يستخدمها الجسم كمصدر للطاقة .....

- الجليكوجين - الدهون - الفركتوز - الجلوكوز

٦٣ - كل مما يأتى صحيح بالنسبة للزيوت ماعدا .....

- سائلة فى درجة الحرارة العادية - يدخل فى تركيبها كحول ثلاثى الهيدروكسيل - تغطى ريش الطيور المائية - يدخل فى تركيبها أحماض دهنية مشبعة

٦٤ - توجد الدهون فى حالة صلبة فى درجة الحرارة العادية لأنها .....

- يدخل فى تركيبها أحماض دهنية مشبعة - يدخل فى تركيبها أحماض دهنية غير مشبعة - يدخل فى تركيبها الجليسرول - يدخل فى تركيبها أحماض دهنية ذات أوزان جزيئية عالية

٦٥ - تتكون الليبيدات من وحدات أصغر تسمى .....

- الأحماض الأمينية - الأحماض الدهنية - النيوكليوتيدات - السكريات الأحادية

٦٦ - المركبات البيولوجية الكبيرة التى تتكون من جزيئات أصغر تسمى الأحماض الدهنية هى .....

- الدهون - الأحماض الدهنية - الكربوهيدرات - البروتينات

٦٧ - تمثل نسبة الليبيدات ..... من المادة العضوية التى تدخل فى تركيب الخلية.

- 20 % - 15 % - 10 % - 5 %

٦٨ - إذا كان أكسدة مول من الجلوكوز يعطى 38 جزىء من ATP فإن أكسدة مول من الدهون فى نفس الظروف يعطى .

- 32 جزىء - 36 جزىء - 38 جزىء - 40 جزىء

٦٩ - كل مما يأتى من الليبيدات ماعدا .....

- الاليف - الكوليسترول - الاسترويدات - الزيوت

٧٠ - أى مما يلى ينتج من تفاعل الأحماض الدهنية مع الكحولات؟

- الليبيدات البسيطة - الليبيدات المعقدة - الليبيدات المشتقة - الهرمونات

٧١ - كل مما يأتى من وظائف الليبيدات فى الجسم ماعدا .....

- تتكون منها الهرمونات - تدخل فى بناء الخلايا - مصدر للطاقة - تنقل الصفات الوراثية

٧٢ - من المذيبات القطبية .....

- الماء - البنزين - رابع كلوريد الكربون - محاليل الأملاح

٧٣ - ..... من أمثلة الليبيدات التى تسهم فى العمليات الكيميائية الحيوية التى تحفظ الحياة و تعمل على استمراريتها.

- الكوليسترول - الشموع - الاسترويدات - الدهون

٧٤ - يتم إزالة البقع الدهنية من الملابس و الأقمشة باستخدام البنزين لأن الدهون .....

- تذوب فى الماء - تذوب فى البنزين - لا تذوب فى الماء - لا تذوب فى البنزين

٧٥ - جزيئات الليبيدات التى تحتوى على حمضين دهنيين فقط هى .....

- الفوسفوليبيدات - الزيوت - الشموع - الاسترويدات

٧٦ - يغطي ريش الطيور المائية بالزيوت حتى .....

- لا تفقد الماء من الخلايا - لا ينفذ الماء اليها فيعيق حركتها - يمنع تسرب الحرارة من الاوراق - يحفز التفاعلات الكيميائية

٧٧ - توجد طبقة من الدهون أسفل جلد الحيوانات حتى .....

- يمنع تسرب الحرارة من جسمها - يحفز التفاعلات الكيميائية - لا تفقد الماء من الخلايا - لا ينفذ الماء الى جسمها

٧٨ - الكاشف المستخدم للكشف عن الدهون فى الأطعمة هو .....

- بندكت - اليود - سودان 4 - بيوريت

٧٩ - يمكن لجزيئات الفوسفوليبيدات أن تتماسك إذا وجدت بينها جزيئات .....

- استرويدات - كوليسترول - دهون - شموع

٨٠ - من الليبيدات التى تدخل فى تركيب الغشاء البلازمى .....

- الفوسفوليبيدات و الاسترويدات - الفوسفوليبيدات و الكوليسترول - الكوليسترول و الزيوت - الزيوت و الدهون

٨١ - عند تحليل الليبيدات البسيطة و المعقدة ينتج كل مما يأتى ماعدا .....

- الكوليسترول - هرمون الاستروجين - هرمون التستوستيرون - الفوسفوليبيدات

٨٢ - تتتركب الفوسفوليبيدات من .....

- جليسرول + 3 أحماض دهنية - جليسرول + حمض دهنى + مجموعة فوسفات + مجموعة كولين

- جليسرول + أحماض دهنية غير مشبعة - جليسرول + 2 حمض دهنى + مجموعة فوسفات + مجموعة كولين

٨٣ - عند إضافة محلول سودان 4 إلى الأطعمة التى تحتوى على الدهون فإنه .....

- يتحول الى اللون الأحمر - يتحول الى اللون البرتقالى - يتحول الى اللون الأزرق - يتحول الى اللون البنفسجى

٨٤ - تمتاز الفوسفوليبيدات عن باقى أنواع الليبيدات باحتوائها على .....

- فوسفور و نيتروجين - كربون و هيدروجين - كربون و نيتروجين - أكسجين و نيتروجين

٨٥ - الليبيدات التى تغطى أوراق النباتات الصحراوية تتميز باحتوائها على كل مما يأتى ماعدا .....

- كحول أحادى الهيدروكسيل - أحماض دهنية عالية الوزن الجزيئى - فوسفات و كولين - ماء

٨٦ - توجد الزيوت .....

- على ريش الطيور المائية - تحت جلد الحيوان - على أوراق النباتات - فى تركيب بعض الهرمونات

٨٧ - قد يؤدى غياب الطبقة الشمعية من على أوراق النباتات الصحراوية الى موت النبات بسبب .....

- تعرضه للجفاف - ارتفاع درجة الحرارة - أكل حيوان الرعى - نقص الأملاح المعدنية

٨٨ - أى الجزيئات الاتية يحتوى على أقل عدد من الأحماض الدهنية:

- الليبيدات الموجودة أسفل جلد الدب القطبى - الليبيدات التى تغطى ريش الطيور المائية

- جزيئات الليبيدات فى الغشاء البلازمى - الليبيدات التى تغطى أوراق النباتات

٨٩ - قد تموت الحيوانات القطبية (مثل الدب القطبى) إذا غابت منها الطبقة الدهنية الموجودة أسفل الجلد بسبب .....

- إنخفاض درجة الحرارة - تعرضه للجفاف - تعرضه للافتراس - نقص الأملاح المعدنية

## تأمل الشكل الآتي ثم أجب عن الأسئلة الآتية



- ٩٠ - رقم 1 يمثل .....
- ٩١ - رقم 2 يمثل .....
- ٩٢ - أى من المركبات الآتية يتكون من أحماض دهنية وجليسرول .....
- ٩٣ - أى من المركبات الآتية يحتوى على مجموعة كولين .....
- ٩٤ - إذا كانت رقم 3 تحتوى على أحماض دهنية غير مشبعة، فإن رقم 3 تكون .....
- (ليبيدات بسيطة - ليبيدات مشتقة - زيوت - شموع)
- (ليبيدات مشتقة - فوسفوليبيدات - شموع - زيوت)
- (3 فقط - 5 فقط - 3 و 5 - 4 فقط - 3 و 4 - الشموع)
- (3 فقط - 5 فقط - 3 و 5 - 3 و 5 و 6)
- ٩٥ - يدخل الجليسرول فى تركيب .....
- ٩٦ - إذا كانت رقم 4 تحتوى على أحماض دهنية مشبعة، فإن رقم 4 تكون .....
- (دهون - كوليسترول - شموع - زيوت)
- ٩٧ - يدخل عنصرى الفوسفور و النيتروجين فى تركيب الجزيئات رقم .....
- ٩٨ - الرقم ..... يمثل مركب يدخل فى تركيب الغشاء البلازمى.
- ٩٩ - يمكن أن تنتج المركبات رقم 2 من خلال التحلل المائى للمركبات رقم ..... (1 و 3 - 1 و 4 - 1 و 5 - جميع ما سبق)
- ١٠٠ - العامل المشترك بين رقم 3 و 4 هو أن كلا منهما .....
- يحتوى على كحول أحادى الهيدروكسيل
- يحتوى على كحول ثلاثى الهيدروكسيل
- يحتوى على أحماض دهنية مشبعة
- يحتوى على أحماض دهنية غير مشبعة
- ١٠١ - الفرق الوحيد بين 3 و 4 هو .....
- نوع الكحول
- عدد مجموعات الهيدروكسيل
- نوع الحمض الدهنى
- عدد الأحماض الدهنية.

## تعريفها:

هى جزيئات بيولوجية كبيرة (بوليمرات) تتكون من عدة جزيئات أصغر (مونيمرات) تسمى الأحماض الأمينية.

## خصائص البروتينات

الذرات الداخلة فى تركيبها	تتكون من ذرات الكربون و الهيدروجين و الأكسجين و النيتروجين.
المونيمرات	الأحماض الأمينية.
الوزن الجزيئى	لها وزن جزيئى كبير و تتكون من وحدات بنائية تسمى الأحماض الأمينية.
أهميتها	<p>١- تسهم فى العمليات الكيميائية الحيوية التى تحفظ الحياة و تعمل على استمراريتها (علل) حيث: تدخل فى تركيب الانزيمات و الكثير من الهرمونات التى تحفز و تنظم العمليات الحيوية بالجسم.</p> <p>٢- تشكل البنية التركيبية لجميع الكائنات الحية (علل) حيث: تدخل فى تركيب و وظائف جميع الخلايا الحية فهى:</p> <ul style="list-style-type: none"> <li>- أحد المكونات الأساسية للأغشية الخلوية و الكروموسومات (الصبغيات).</li> <li>- تكون العضلات و الأربطة و الأوتار و الأعضاء و الغدد و الأظافر و الشعر.</li> <li>- تدخل فى تركيب الكثير من سوائل الجسم مثل الدم و الليمف.</li> </ul> <p>3- ضرورة لنمو الجسم.</p>
الكشف عنها	يستخدم كاشف البيوريت للكشف عن البروتينات فى الأطعمة المختلفة. يتحول لون كاشف البيوريت من اللون الأزرق إلى اللون البنفسجى فى حالة وجود البروتين فى الأطعمة.
تصنيفها	تصنف تبعاً للمواد التى تدخل فى بنائها إلى بروتينات بسيطة و بروتينات مرتبطة.
توجد فى	شبكة العنكبوت، حوافر و قرون الحيوانات.

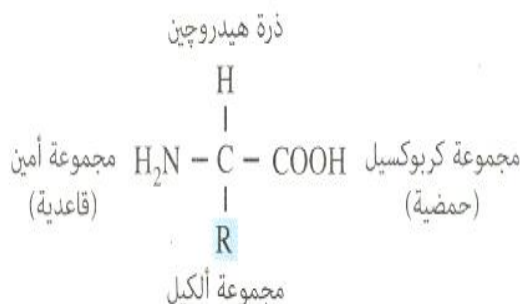
## الأحماض الأمينية

تعريفها: مركبات عضوية تتكون من ذرات الكربون و الهيدروجين و الأكسجين و النيتروجين و هى الوحدات البنائية (المونيمرات) للبروتينات.

عددها: 20 حمض أمينى.

من أمثلتها: الجلايسين (Gly) و الألانين (Ala) و الفالين (Val).

تركيب الحمض الأمينى: يتربك الحمض الأمينى من ذرة كربون تتصل ب:



1- مجموعتين وظيفيتين:

- مجموعة قاعدية: مجموعة الأمين (NH<sub>2</sub>).

- مجموعة حمضية: مجموعة الكربوكسيل (COOH).

## 3- مجموعة ألكيل (R) تختلف من حمض أميني لآخر.

- تختلف من حمض أميني لآخر لذلك فهي تحدد نوع الحمض الأميني.

(أى أن الأحماض الأمينية تختلف بعضها عن بعض في **نوع مجموعة الألكيل** المرتبطة بذرة الكربون).

**ملاحظة:**

عدد الأحماض الأمينية التي تحتوى على مجموعات ألكيل **19 حمض أميني** فقط و ذلك لأن الحمض الأميني **جلايسين** (أبسط الأحماض الأمينية) لا يحتوى على مجموعة ألكيل و إنما يوجد بدلاً منها ذرة هيدروجين أخرى

**ارتباط الأحماض الأمينية ببعضها:**

- ترتبط الأحماض الأمينية ببعضها **بروابط ببتيدية**.

**كيف تتكون البروتينات من الأحماض الأمينية؟**

- تتكون البروتينات من وحدات متكررة من الأحماض الأمينية التي ترتبط مع بعضها بروابط ببتيدية.

**تكوين الرابطة الببتيدية:**

تتكون الرابطة الببتيدية بين حمضين أمينيين **عن طريق** ارتباط مجموعة الكربوكسيل ( $\text{COOH}$ ) لأحد الأحماض الأمينية مع مجموعة الأمين ( $\text{NH}_2$ ) للحمض الأميني الآخر عن طريق نزع جزيء ماء (يتكون من مجموعة هيدروكسيل  $\text{OH}^-$  من مجموعة الكربوكسيل مع أيون هيدروجين  $\text{H}^+$  من مجموعة الأمين من الحمض الأميني المجاور له).

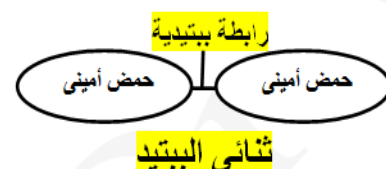
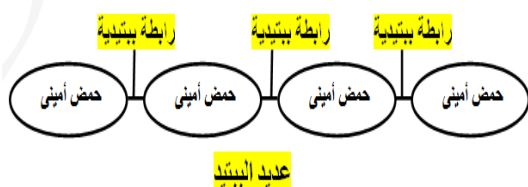
**ما الذى يحدث فى الحالات الآتية:**

1- عندما يرتبط حمضين أمينيين ببعضهما:

2- عندما ترتبط مجموعة من الأحماض الأمينية ببعضها:

يتكون **مركب ثنائى الببتيد**.

تتكون **سلسلة عديد الببتيد**.



- لا يشترط أن يتكون البروتين الناتج من ارتباط أحماض أمينية متشابهة مما يعطى احتمالات كثيرة جداً و متنوعة لتكوين البروتينات و هذه الاحتمالات تعتمد على أنواع و ترتيب و أعداد الأحماض الأمينية فى سلسلة عديد الببتيد .

تصنف البروتينات تبعاً للمواد التي تدخل في تركيبها الى : بروتينات بسيطة و بروتينات مرتبطة .

البروتينات المرتبطة	البروتينات البسيطة	
تتكون من أحماض أمينية مرتبطة بعناصر أخرى	تتكون من أحماض أمينية فقط.	التركيب
<p><b>الكروماتين من البروتينات النووية:</b></p> <p>حمض نووي — حمض أميني</p> <p>ترتبط فيه الأحماض الامينية مع الأحماض النووية.</p> <p><b>الكازين (بروتين اللبن) من البروتينات الفوسفورية:</b></p> <p>فوسفور — حمض أميني</p> <p>ترتبط فيه الأحماض الامينية مع الفسفور.</p> <p><b>الثيروكسين (بروتين الغدة الدرقية):</b></p> <p>يود — حمض أميني</p> <p>ترتبط فيه الأحماض الامينية مع اليود.</p> <p><b>هيموجلوبين الدم (بروتين خلايا الدم الحمراء):</b></p> <p>حديد — حمض أميني</p> <p>ترتبط فيه الأحماض الامينية مع الحديد.</p>	<p><b>بروتين الألبومين</b></p> <p>يوجد في:</p> <ul style="list-style-type: none"> <li>- أوراق و بذور بعض النباتات.</li> <li>- في بلازما الدم في الانسان.</li> </ul> <p><b>علل:</b> عند تحليل بروتين الألبومين ينتج أحماض أمينية فقط.</p> <p>لأنه من البروتينات البسيطة التي تتكون من أحماض أمينية فقط.</p>	الأمثلة

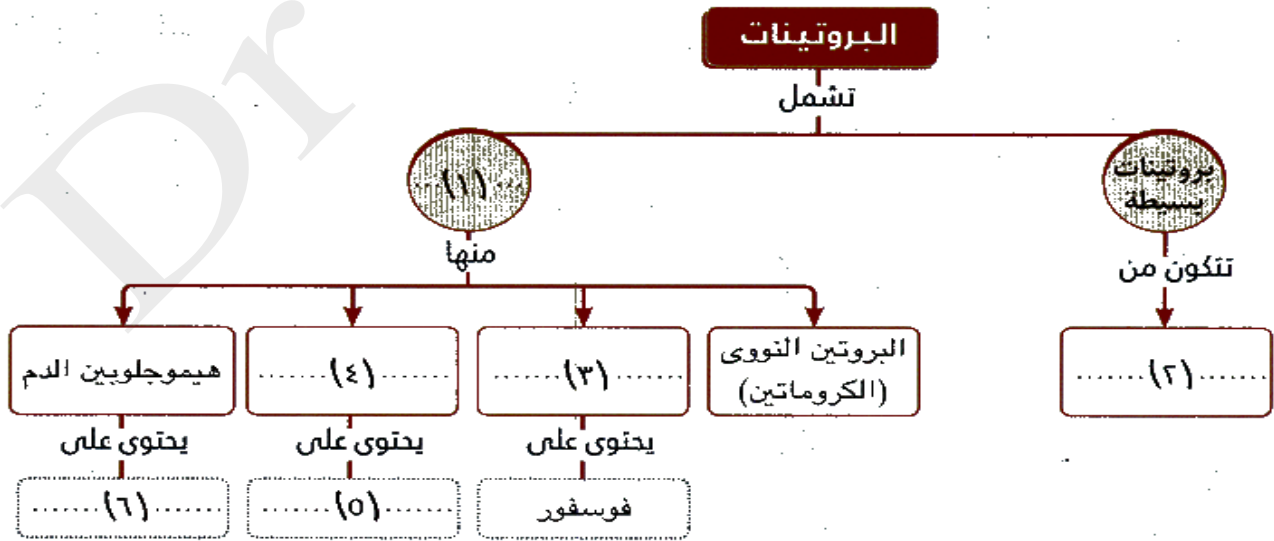
### اختر الاجابة الصحيحة

- ١٠٢ من أسباب أمراض الغدة الدرقية نقص عنصر ..... في الغذاء .
- ١٠٣ للحفاظ على نسبة الهيموجلوبين في الدم يجب توافر عنصر .... في الغذاء .
- ١٠٤ تناول اللبن يوفر للجسم عنصر .....
- ١٠٥ يعتبر اللبن من المواد البانية للجسم بسبب احتوائه على .....
- ١٠٦ تتكون البروتينات من وحدات تسمى .....
- ١٠٧ تتميز البروتينات عن الكربوهيدرات و الليبيدات باحتوائها على عنصر ..... بشكل أساسي
- (الكربون - الأكسجين - النيتروجين - الهيدروجين)
- ١٠٨ أى مما يلى ليس من وظائف البروتين:
- (مقاومة الأمراض - حفظ و نقل المعلومات الوراثية - التحكم فى معدل التفاعل - حركة المواد داخل و خارج الخلايا)
- ١٠٩ ترتبط الأحماض الأمينية بعضها ببعض فى سلاسل عديد الببتيد بروابط .....
- (أيونية - تساهمية - جليكوسيدية - ببتيدية)
- ١١٠ أى العبارات التالية صواب :
- (السكر البسيط يتكون من سكريات عديدة - البروتين يتكون من احماض أمينية - النيوكليوتيدات تتكون من أحماض أمينية)



- ١١١- المركب الذى يحتوى على رابطة ببتيديه واحدة يسمى ... (حمض أمينى - أحادى الببتيد - ثنائى الببتيد - عديد الببتيد)
- ١١٢- يمكن للحمض الأمينى أن يكون ..... من الروابط الببتيديه. (واحدة - اثنان - ثلاثة - أربعة)
- ١١٣- إذا كان الارتباط بين الأحماض الأمينية يتوقف على نوع الحمض الأمينى فإن ذلك يؤدى إلى : (صيغة أخرى: إذا كان كل حمض أمينى يرتبط بأنواع معينة من الأحماض الأمينية فإن ذلك يؤدى إلى)
- (عدم قيام البروتين بوظيفته - عدم تكوين سلسلة عديد الببتيد - عدم تكوين روابط ببتيديه - عدم تنوع البروتينات)
- ١١٤- تتعدد أنواع البروتينات فى أجسام الكائنات الحية بسبب اختلاف ..... الأحماض الأمينية فى سلسلة عديد الببتيد.
- (أعداد - أنواع - ترتيب - جميع ما سبق)
- ١١٥- المجموعة الحامضية التى تدخل فى تركيب الحمض الأمينى هى مجموعة .....
- (الكربوكسيل - الهيدروكسيل - الأمين - النترات)
- ١١٦- كل مما يأتى بروتينات ماعدا ..... (الانزيمات - الهرمونات - الدم - الدهون)
- ١١٧- المونيمر الذى يدخل فى بناء الانزيمات ..... (سكر أحادى - أحماض دهنية - أحماض أمينية - نيوكليوتيدات)
- ١١٨- المجموعة القاعدية التى تدخل فى تركيب الحمض الأمينى هى المجموعة ..... (الكربوكسيل - الهيدروكسي - الأمين - النترات)
- ١١٩- يتحول كاشف البيوريت فى وجود البروتين فى البول ..... (من البرتقالى إلى الأزرق - من الأزرق إلى البرتقالى - من الأزرق إلى البنفسجى - من البرتقالى إلى البنفسجى)
- ١٢٠- البروتين البسيط الذى يوجد فى أوراق و بذور النباتات هو ..... (الألبومين - الكازين - الكروماتين - الهيموجلوبين)
- ١٢١- أحد المكونات الأساسية للأغشية الخلوية و الكروموسومات ..... (الكربوهيدرات - البروتينات - الليبيدات - الانزيمات)
- ١٢٢- إذا كان الكبد يقوم بتصنيع بروتين الالبومين فى الجسم فيجب أن يتوافر فى الكبد كميات كبيرة من ..... (الأحماض الامينية و الحديد - الأحماض الامينية و اليود - الأحماض الامينية و الفوسفور - الأحماض الامينية فقط)

### تأمل الشكل الاتى ثم أجب عن الأسئلة الاتية



- ١٢٣- رقم 2 تمثل ..... (سكر أحادى - أحماض دهنية - أحماض أمينية - نيوكليوتيدات)
- ١٢٤- رقم 3 يمثل ..... (هيموجلوبين - كازين - ثيروكسين - كروماتين)
- ١٢٥- نوع الروابط الموجودة بين وحدات المركب رقم 2 روابط ..... (تساهمية - ببتيديه - أيونية - هيدروجينية)



(الحديد - اليود - الفوسفور - الماغنسيوم)

١٢٦ رقم 6 يمثل .....

(10 - 20 - 30 - 40)

١٢٧ عدد الأنواع المختلفة من رقم 2 فى بناء البروتين .....

١٢٨ تحتوى أوراق النبات و بلازما الدم فى الإنسان على بروتين ..... (الأليومين - الكازين - الكروماتين - الهيموجلوبين)

١٢٩ إذا كان رقم 4 يفرز من الغدة الدرقية فإن رقم 5 يكون ..... (DNA - الحديد - الفوسفور - اليود)

١٣٠ إذا كان رقم 4 يوجد فى النواة فإن رقم 5 يكون ..... (الحديد - الفوسفور - اليود - DNA)

١٣١ تتحد الوحدات رقم 2 فى ..... فى الخلايا لتكون البروتين.

(الشبكة الاندوبلازمية الملساء - الشبكة الاندوبلازمية الخشنة - الريبوسومات - الليسوسومات)

١٣٢ رقم 2 يوجد فى ..... (بلازما الدم و أوراق النبات - بذور النبات و بلازما الدم - أوراق و بذور النبات - جميع ما سبق)

### أكتب الإجابة المناسبة أمام كل عبارة مما يأتى

١٣٣ بروتين ينتج عن تحلله أحماض أمينية فقط.

١٣٤ بروتين مرتبط يتميز باحتوائه على عنصر الحديد.

١٣٥ بروتين مرتبط يتميز باحتوائه على عنصر اليود.

١٣٦ بروتينات مرتبطة ترتبط بالأحماض النووية فى النواة.

١٣٧ أنواع الروابط الكيميائية التى ترتبط بها الأحماض الأمينية فى سلسلة عديد الببتيد.

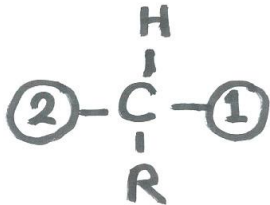
١٣٨ بروتين بسيط يوجد فى أوراق و بذور بعض النباتات و فى بلازما الدم فى الانسان.

١٣٩ من البروتينات الفوسفورية.

١٤٠ من البروتينات النووية.

١٤١ الكاشف المستخدم فى الكشف عن البروتينات فى الأطعمة المختلفة.

### الشكل الذى أمامك يمثل حمض أمينى أجب عن الأسئلة الآتية



١٤٢ - إذا كان التركيب 1 يفقد ذرة هيدروجين ( $H^+$ ) عند تكوين رابطة ببتيدية، فإنه يمثل .....

(مجموعة أمينية - مجموعة كربوكسيلية - مجموعة كبريتات - مجموعة كربونات)

١٤٣ - إذا كان التركيب 2 يفقد مجموعة هيدروكسيل ( $OH^-$ ) عند تكوين رابطة ببتيدية، فإنه يمثل .....

(مجموعة أمينية - مجموعة كربوكسيلية - مجموعة كبريتات - مجموعة كربونات)

١٤٤ - المجموعات الوظيفية للحمض الأمينى هى (1 و H - 2 و R - 1 و 2 - 1 و R)

١٤٥ - إذا كان الحمض الأمينى جلايسين أبسط الأحماض الأمينية لاحتوائه على ذرتين هيدروجين بدلاً من ذرة واحدة، ما التركيب

الذى يمكن أن تحل محله ذرة الهيدروجين الإضافية. (1 - 2 - R - H)

١٤٦ - ما عدد الأنواع المختلفة للأحماض الأمينية. (15 - 20 - 25 - 30)

١٤٧ - ما ناتج تحاد حمضين أمينيين معاً. (عديد ببتيد - ثلاثى الببتيد - ثنائى الببتيد - أحادى الببتيد)

١٤٨ - ما ناتج ارتباط أكثر من اثنين من الأحماض الأمينية (عديد النيوكليوتيد - ثنائى الببتيد - عديد ببتيد - أحادى الببتيد)

١٤٩ - إذا ارتبط 10 أحماض أمينية معاً فى سلسلة عديد ببتيد، يكون عدد الروابط الببتيدية فى السلسلة (8 - 9 - 10 - 11)

## أى العبارات الاتية صحيحة بالنسبة للأحماض الأمينية و أيها خاطئة مع تعديل الخطأ منها:

١٥٠ - فى الرابطة الببتيدية يفقد جزىء من الماء نتيجة تفاعل مجموعتين كربوكسيل من الحمضين الأمينيين.

١٥١ - فى الرابطة الببتيدية يفقد أحد الحمضين الأمينية ذرة هيدروجين من مجموعة الأمين و الحمض الأمينى الآخر يفقد مجموعة هيدروكسيل من الحمض الأمينى الآخر.

١٥٢ - تختلف الأحماض الأمينية عن بعضها باختلاف مجموعات الألكيل الموجودة بها.

١٥٣ - تعتبر مجموعة الألكيل (R) مجموعة وظيفية للحمض الأمينى.

١٥٤ - ذرات النيتروجين ليست أساسية فى تركيب الأحماض الأمينية.

١٥٥ - سلسلة عديد ببتيد يدخل فى تركيبها 10 أحماض أمينية، وجد أنها تحتوى على أربع مجموعات ألكيل من نوع واحد، لذلك يكون عدد الأحماض الأمينية المختلفة التى تدخل فى تركيب السلسلة يساوى 10 أحماض أمينية.

١٥٦ - دائماً تتكون الروابط الببتيدية بين نفس الأحماض الأمينية فى البروتينات المختلفة.

## تعريفها:

هى جزيئات بيولوجية كبيرة (بوليمرات) تتكون من عدة جزيئات أصغر (مونيمرات) تسمى النيوكليوتيدات.

## خصائص الأحماض الأمينية

الذرات الداخلة فى تركيبها	تتكون من ذرات الكربون و الهيدروجين و الأكسجين و النيتروجين و الفوسفور.
المونيمرات	النيوكليوتيدات
التركيب الجزيئى	- الوحدة البنائية للأحماض النووية تسمى <b>النيوكليوتيدات</b> . - ترتبط النيوكليوتيدات بعضها ببعض بواسطة <b>روابط تساهمية</b> لتكون عديد النيوكليوتيد أو الحمض النووى.

## النيوكليوتيدات

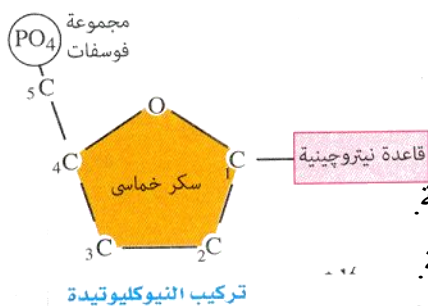
هى وحدة بناء الحمض النووى.

- كل نيوكليوتيد يتكون من ثلاث وحدات:

١ - **جزء سكر خماسى**: (يحتوى على 5 ذرات كربون)

٢ - **مجموعة فوسفات**: تتصل بذرة الكربون رقم (5) لجزء السكر برابطة تساهمية.

٣ - **قاعدة نيتروجينية**: تتصل بذرة الكربون رقم (1) لجزء السكر برابطة تساهمية.



## تصنيف الأحماض النووية

يوجد نوعان من الأحماض النووية وهما:

- الحمض النووى الريبوزى (RNA: Ribo Nucleic Acid).

- الحمض النووى الريبوزى منقوص الأكسجين (DNA: Deoxyribo Nucleic Acid).

- يختلف (DNA) عن (RNA) فى التركيب الجزيئى فى:

١ - نوع السكر الخماسى.

٢ - نوع القاعدة النيتروجينية المرتبطة بجزء السكر.

يوجد نوعان من السكر الخماسى:

سكر دى أكسى ريبوز (ينقصه ذرة أكسجين عن سكر الريبوز العادى) - سكر الريبوز

يوجد 5 قواعد نيتروجينية تدخل فى تركيب الأحماض النووية وهى:

الأدينين (A) و الجوانين (G) و السيتوزين (C) و الثايمين (T) و اليوراسيل (U).

## مقارنة بين الأحماض النووية

وجه المقارنة	الحمض النووي الريبوزي منقوص الأكسجين	الحمض النووي الريبوزي
نوع السكر الخماسي	سكر دي أكسي ريبوز	سكر الريبوز
القواعد النيتروجينية	الأدينين (A) - الجوانين (G) السييتوزين (C) - الثايمين (T)	الأدينين (A) - الجوانين (G) السييتوزين (C) - اليوراسيل (U)
عدد الأشرطة في الجزيء	شريطان	شريط واحد
مكان التواجد في الخلية	يوجد في النواة حيث يدخل في تركيب الصبغيات (الكروموسومات)	يتم نسخه داخل النواة من جزيئات DNA ثم ينتقل الى السيتوبلازم.
الأهمية	- يحمل المعلومات الوراثية التي تنتقل من جيل الى اخر عند تكاثر الخلايا و هذه المعلومات مسئول عن: 1- إظهار الصفات المميزة للكائن الحي. 2 - تنظيم جميع الأنشطة الحيوية للخليا.	يستخدم في بناء البروتينات التي تحتاجها الخلية و هذه البروتينات مسئولة عن: 1- إظهار الصفات الوراثية. 2- تنظيم الأنشطة الحيوية.
التركيب الجزيئي		

# اختر الإجابة الصحيحة

تأمل الشكل الآتي ثم أجب عن الأسئلة الآتية

## الأحماض النووية

تشمل



- ١٥٧ رقم 1 يمثل: (DNA - RNA - البروتينات - الليبيدات)
- ١٥٨ رقم 2 يمثل: (DNA - RNA - البروتينات - الليبيدات)
- ١٥٩ المونيمرات المكونة للتركيبين تسمى (سكر أحادي - أحماض دهنية - أحماض أمينية - نيوكليوتيدات)
- ١٦٠ نوع الروابط بين المونيمرات روابط (أيونية - ببتيدية - تساهمية - هيدروجينية)
- ١٦١ رقم ..... يعتبر أساس لتكوين رقم ..... (أكمل بالرقم المناسب مكان كل فراغ)
- ١٦٢ رقم ..... ينقل المعلومات الوراثية من جيل إلى آخر. (1- 2- 3- 4)
- ١٦٣ رقم ..... ينتج البروتينات التي تظهر الصفات الوراثية. (1- 2- 3- 4)
- ١٦٤ يمكن أن يسمى كل من المركبين 1 و 2 بـ ..... (عديد الببتيد - عديد النيوكليوتيد - عديد الريبوسوم - سكر معقد)
- ١٦٥ ينتقل رقم (2) من الاباء إلى الأبناء في عملية ..... (البناء الضوئي - التنفس - التكاثر - الأيض)
- ١٦٦ يتم تنظيم الأنشطة الحيوية مباشرة بواسطة ..... (رقم 1 - رقم 2 - البروتينات - الليبيدات)
- ١٦٧ يظهر رقم ..... دائماً عند تحليل أنوية الخلايا. (1- 2- 3- 4)
- ١٦٨ ينتقل رقم ..... من النواة إلى السيتوبلازم. (1- 2- 3- 4)
- ١٦٩ يتم إنتاج البروتينات التي تستخدم في اظهار الصفات الوراثية في ..... (النواة - السيتوبلازم)
- ١٧٠ القاعدة النيتروجينية التي تميز التركيب رقم 1 عن التركيب رقم 2 هي (G - C - U - T - A)
- ١٧١ القاعدة النيتروجينية التي تميز التركيب رقم 2 عن التركيب رقم 1 هي (G - C - U - T - A)
- ١٧٢ السكر الذي يدخل في تركيب رقم 2 ينتمي إلى السكريات ..... (يزيد عنه بذرة أكسجين - يقل عنه بذرة أكسجين - يزيد عنه بذرة هيدروجين - يقل عنه بذرة هيدروجين)
- ١٧٣ القاعدة النيتروجينية التي لا تدخل في تركيب رقم 2 هي (G - C - U - A)
- ١٧٤ القاعدة النيتروجينية التي لا تدخل في تركيب رقم 1 هي (G - C - T - A)
- ١٧٥ الصيغة البنائية للسكر الذي يدخل في تركيب رقم 2 هي ..... (C<sub>5</sub>H<sub>10</sub>O<sub>4</sub> - C<sub>5</sub>H<sub>10</sub>O<sub>5</sub> - C<sub>6</sub>H<sub>12</sub>O<sub>6</sub> - C<sub>6</sub>H<sub>12</sub>O<sub>5</sub>)
- ١٧٦ الصيغة البنائية للسكر الذي يدخل في تركيب رقم 1 هي ..... (C<sub>5</sub>H<sub>10</sub>O<sub>4</sub> - C<sub>5</sub>H<sub>10</sub>O<sub>5</sub> - C<sub>6</sub>H<sub>12</sub>O<sub>6</sub> - C<sub>6</sub>H<sub>12</sub>O<sub>5</sub>)

١٧٧ ضع خطأ تحت العناصر التي تدخل في تركيب كل من 1 و 2. (يمكن أكثر من اختيار)

( الكربون – الفوسفور – الحديد – النيتروجين – الهيدروجين – الأكسجين )

١٧٨ لا يمكن استخدام القواعد النيتروجينية للتفريق بين التركيبين 1 و 2 إذا كانت القاعدة الموجودة هي .....

(الجوانين – السيتوزين – الأدينين – جميع ما سبق)

١٧٩ الفرق بين نوع السكر في التركيب رقم 1 عن نوع السكر في التركيب رقم 2 يرجع الى .....

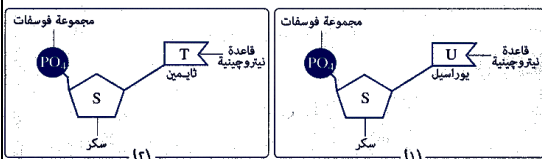
(عدد ذرات الأكسجين – عدد ذرات الهيدروجين – عدد ذرات الكربون – جميع ما سبق)

١٨٠ رقم 4 يمثل سكر .....

١٨١ قد يختلف التركيب 1 و التركيب 2 عن بعضهما في نوع ....

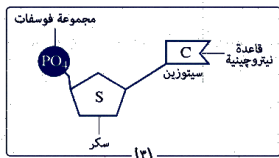
(السكر – القاعدة النيتروجينية – عدد الأشرطة – جميع ما سبق)

## تأمل الشكل الاتي ثم أجب عن الأسئلة الاتية



١٨٢ للتركيب رقم ..... يمثل نيوكليوتيدة DNA.

( 3- 2- 1 )



( 3- 2- 1 )

١٨٣ التركيب رقم ..... يمثل نيوكليوتيدة RNA.

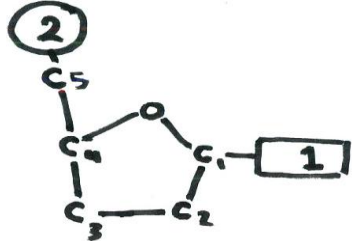
(ريبوز – لاكتوز – ديوكسي ريبوز – جلوكوز)

١٨٤ نوع السكر في رقم 1 .....

(ريبوز – لاكتوز – ديوكسي ريبوز – جلوكوز)

١٨٥ نوع السكر في رقم 2 .....

## التركيب الذي أمامك يمثل النيوكليوتيدة، اختر الاجابة الصحيحة (من 185 إلى 195)



١٨٦ تمثل النيوكليوتيدة مونيمات ل .....

(الكربوهيدرات – الأحماض النووية – البروتينات – الليبيدات)

١٨٧ تحتوي النيوكليوتيدة على مونيمر يتبع .....

(البروتينات – الكربوهيدرات – الأحماض النووية – الليبيدات)

(RNA – DNA)

١٨٨ إذا كان التركيب رقم 1 هو الأدينين فان النيوكليوتيدة تتبع .....

(RNA – DNA)

١٨٩ إذا كان التركيب رقم 1 هو الثايمين فان النيوكليوتيدة تتبع .....

(RNA – DNA)

١٩٠ إذا كان التركيب رقم 1 هو اليوراسيل فان النيوكليوتيدة تتبع .....

(تساهمية – أيونية – ببتيدية)

١٩١ نوع الروابط الكيميائية بين النيوكليوتيدات .....

(RNA – DNA)

١٩٢ إذا ارتبطت هذه النيوكليوتيدة مع نيوكليوتيدات أخرى في نفس الشريط فقط، فانها تتبع .....

(RNA – DNA)

١٩٣ إذا ارتبطت هذه النيوكليوتيدة مع نيوكليوتيدة شريط مقابل فانها تتبع .....

(تساهمية – أيونية – ببتيدية)

١٩٤ التركيب رقم 1 يتصل بذرة الكربون رقم 5 برابطة .....

(10 – 9 – 8 – 7)

١٩٥ عدد ذرات الهيدروجين في جزيء السكر في النيوكليوتيدة يساوى دائماً .....

١٩٦ يتشابه السكر المكون ل DNA مع السكر المكون ل RNA في عدد ذرات .....

(الكربون و الأكسجين – الكربون و الهيدروجين – الأكسجين و الهيدروجين – جميع ما سبق)

## التفاعلات الكيميائية في أجسام الكائنات الحية

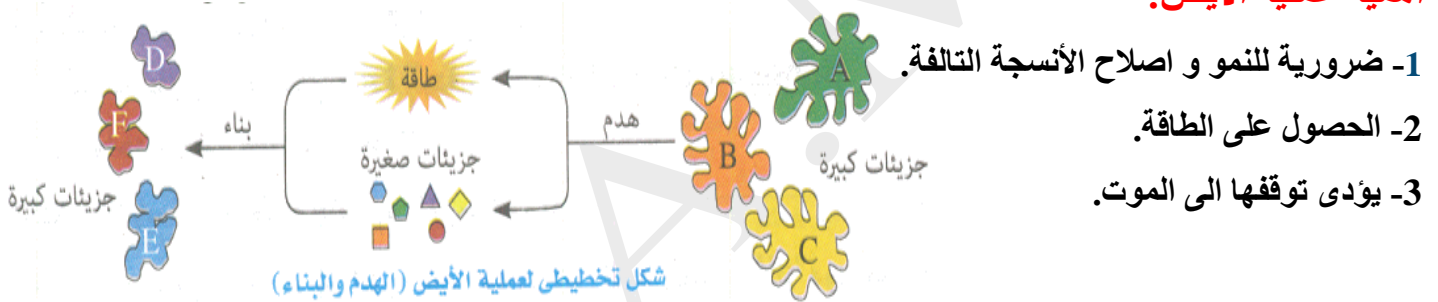
### تفاعلات الأيض (التمثيل الغذائي):

هى مجموعة من التفاعلات البيوكيميائية المستمرة التى تتم داخل خلايا الجسم.

### تنقسم تفاعلات الأيض الى عمليتين:

عملية الهدم	عملية البناء
<ul style="list-style-type: none"> <li>- عملية <u>تكسير</u> الروابط الكيميائية بين ذرات الجزيئات الكبيرة لاستخلاص الطاقة المخزنة بها.</li> <li>- منتجها للطاقة.</li> <li>- مثال:</li> <li>- تحرير الطاقة الناتجة من أكسدة الجلوكوز أثناء عملية التنفس الخلوى.</li> </ul>	<ul style="list-style-type: none"> <li>- عملية استخدام الجزيئات البسيطة لبناء مواد أكثر تعقيداً من خلال سلسلة من التفاعلات.</li> <li>- تستهلك الطاقة.</li> <li>- مثال:</li> <li>- بناء البروتينات من الأحماض الأمينية.</li> <li>- عملية البناء الضوئى.</li> </ul>

### أهمية عملية الأيض:



## الإنزيمات

هى عوامل مساعدة حيوية تتكون من جزيئات بروتينية تعمل على زيادة سرعة التفاعلات الكيميائية فى الخلية .

**دور الإنزيمات فى التفاعلات الكيميائية:** - تعمل الإنزيمات على خفض طاقة التنشيط اللازمة لبدء التفاعلات الكيميائية.

**طاقة التنشيط :** هى الحد الأدنى من الطاقة اللازمة لبدء التفاعل الكيميائى.

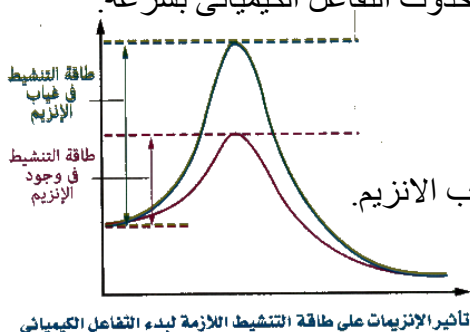
### تفسير دور الإنزيمات فى التفاعلات الكيميائية:

- لى تتم التفاعلات الكيميائية فى الجسم فانها تحتاج الى طاقة تنشيط عالية لتبدأ هذه التفاعلات.

- للحد من استهلاك هذه الطاقة يجب أن يكون هناك مادة محفزة (الإنزيم) لضمان حدوث التفاعل الكيميائى بسرعة.

**يمكن توضيح دور الإنزيمات فى خفض طاقة التنشيط بالرسم التالى.**

**لاحظ أن:**



فى وجود الإنزيم تكون طاقة التنشيط للتفاعل أقل من طاقة التنشيط للتفاعل فى غياب الإنزيم.



يتكون من اتحاد عدد كبير من الأحماض الأمينية.

تتحد الأحماض الأمينية لتكون سلسلة أو أكثر من عديد الببتيد التنتشكل البناء الفراغى المحدد للإنزيم.

**العوامل التى تؤثر على سرعة عمل الانزيمات:**

١. درجة الحرارة

٢. الأس أو الرقم الهيدروجينى (pH).

٣. تركيز الانزيم.

٤. تركيز المادة الهدف.

٥. وجود المثبطات.

**خواص الانزيمات :**

١ -تتشابه مع العوامل المساعدة الكيميائية الأخرى (علل) لأنها:

تشارك فى التفاعلات الكيميائية لتزيد من سرعتها دون أن تتأثر بها أو يتم استهلاكها.

٢ -تختلف (تمتاز) عن العوامل المساعدة الكيميائية الأخرى لانها ذات درجة عالية من التخصص (علل) لأن:

- كل إنزيم يؤثر على مادة متفاعلة واحدة تسمى **مادة الهدف**.

- كل انزيم يحفز نوع واحد أو عدد محدود من التفاعلات الكيميائية.

٣ -تخفض الإنزيمات من طاقة التنشيط اللازمة لبدء التفاعل الكيميائى.

٤ -تتأثر الانزيمات فى عملها بتركيز أيون الهيدروجين ( الأس الهيدروجينى pH) و درجة الحرارة.

### تأثير درجة الحرارة على نشاط الانزيم

- الانزيمات حساسة جداً لأى تغير فى درجة الحرارة (علل) و ذلك لأنها تتكون مواد بروتينية.

- يتحدد نشاط الإنزيم فى مدى ضيق من درجات الحرارة (علل) و ذلك لأنها مواد بروتينية تتأثر بالتغيرات فى درجة الحرارة.

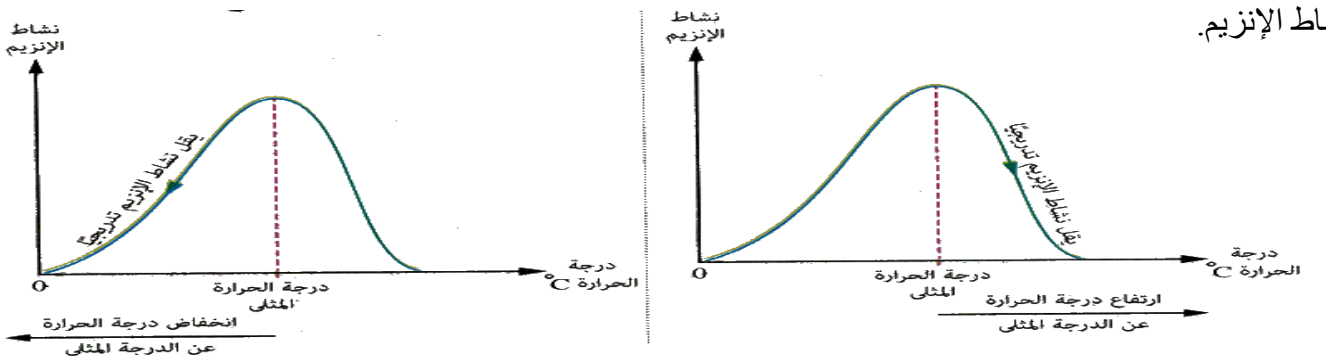
- لكل إنزيم درجة حرارة مثلى و درجة حرارة دنيا.

**درجة الحرارة المثلى:** هى درجة الحرارة التى يكون عندها الإنزيم أكثر نشاطاً.

**درجة الحرارة الدنيا:** هى درجة الحرارة التى يكون عندها الإنزيم أقل نشاطاً (يبدأ عندها نشاط الإنزيم).

**المدى الحرارى للإنزيم:** هو المدى بين درجة الحرارة التى يبدأ عندها نشاط الإنزيم و درجة الحرارة التى يتوقف عندها

نشاط الإنزيم.





## ماذا يحدث في حالة:

١ - إذا ارتفعت درجة الحرارة عن الدرجة المثلى للإنزيم:

- يقل نشاط الإنزيم تدريجياً حتى يتوقف تماماً.

- لا يعود الإنزيم لنشاطه مرة أخرى عند خفض درجة الحرارة (علل) و ذلك بسبب التغيرات التي تحدث في تركيب الإنزيم نتيجة لطبيعته البروتينية.

٢ - إذا انخفضت درجة الحرارة عن الدرجة المثلى للإنزيم:

- يقل نشاط الإنزيم تدريجياً الى ان يصل الى درجة يكون عندها نشاط الإنزيم أقل نشاط.

- ثم يتوقف النشاط تماماً عند درجة الصفر المئوية.

- يعود الإنزيم للنشاط مرة أخرى عند رفع درجة الحرارة (علل) و ذلك بسبب عدم تغير تركيبه.

**علل:** تسجل على بعض المنظفات الصناعية درجة الحرارة المناسبة لاستخدامها.

و ذلك لتوفير درجة الحرارة المثلى التي تعمل عندها الإنزيمات الموجودة في هذه المنظفات بأقصى نشاط.

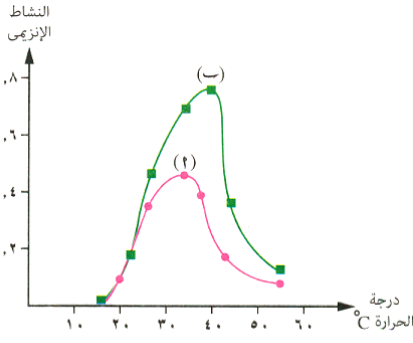
## مثال:

الشكل البياني المقابل يوضح العلاقة بين:

- نشاط اثنين من الإنزيمات و درجات الحرارة.

## المشاهدة:

يوضح الجدول التالي درجات الحرارة المختلفة لكل إنزيم:



العلاقة بين درجة الحرارة ونشاط الإنزيم

المدى الحرارى لنشاط الإنزيم	درجة الحرارة التي يتوقف عندها نشاط الإنزيم	درجة الحرارة التي يكون عندها أقصى نشاط للإنزيم	درجة الحرارة التي يبدأ عندها نشاط الإنزيم	
من 16° س الى 55° س	55° س	35° س	16° س	الإنزيم (أ)
	55° س	40° س	16° س	الإنزيم (ب)

## تأثير الأس الهيدروجيني (pH) على نشاط الإنزيم

الأس الهيدروجيني (pH): هو القياس الذي يحدد تركيز أيونات الهيدروجين ( $H^+$ ) في المحلول ليحدد ما

إذا كان المحلول حمضياً أو قلوياً أم متعادلاً.

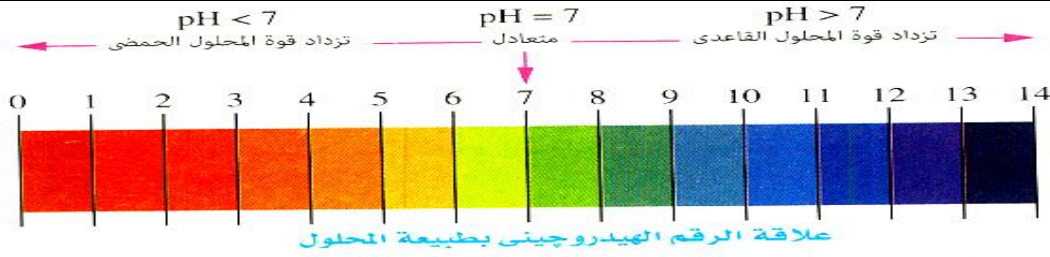
تتراوح قيم الأس الهيدروجيني بين (صفر و 14) اعتماداً على تركيز أيون الهيدروجين الموجب ( $H^+$ ) فيها.

تنقسم المحاليل تبعاً لقياس الأس الهيدروجيني الى 3 أنواع:

١ - المحاليل الحمضية:  $pH < 7.0$ .

٢ - المحاليل القلوية:  $pH > 7$ .

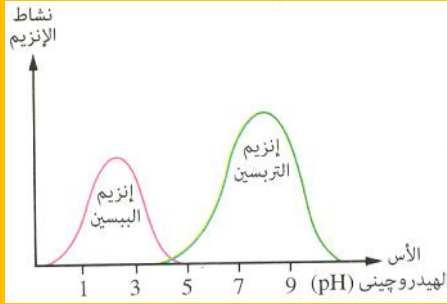
٣ - المحاليل المتعادلة: ( $pH=7$ )



### العلاقة بين الأس الهيدروجيني و نشاط الإنزيم:

- تتأثر الانزيمات بالأس الهيدروجيني (**علل**) لأنها عبارة عن مواد بروتينية تحتوى على:
- ١ - مجموعات كربوكسيل (COOH) حمضية.
- ٢ - مجموعات أمينية (NH<sub>2</sub>) قاعدية.
- لكل إنزيم رقم هيدروجيني أمثل يعمل عنده بأقصى فعالية.
- الرقم الهيدروجيني الأمثل للإنزيم:** هو الأس الهيدروجيني الذى يعمل عنده الإنزيم بأقصى فعالية.

### الرقم الهيدروجيني الأمثل للإنزيم: هو الأس الهيدروجيني الذى يعمل عنده الإنزيم بأقصى فعالية.



#### أمثلة:

- يتضح من الشكل المقابل أن:

**إنزيم الببسين:** يعمل فى درجة pH حمضية > 7 تساوى ( 1.5 : 2.5 ).

**إنزيم التربسين:** يعمل فى درجة pH قلوية < 7 تساوى ( 7.5 : 8 ).

**علل:** معظم الإنزيمات تعمل فى درجة pH تساوى 7.4:

لأن الأحماض الأمينية المكونة للإنزيمات تحتوى على:

- مجموعات كربوكسيلية حمضية (COOH) و مجموعات أمينية قاعدية (NH<sub>2</sub>).

**ما معنى درجة التعادل : pH=7.0 :** هى رقم الأس الهيدروجيني للماء عند درجة حرارة 25 درجة سلسيوس.

**ما معنى المحلول المنظم:** هو محلول يعمل على ثبات قيمة الاس الهيدروجيني للمحلول عند رقم محدد.

#### ماذا يحدث فى الحالات الاتية:

- **إذا قل الرقم الهيدروجيني لانزيم أو زاد:** يقل نشاط الإنزيم تدريجياً إلى أن يتوقف.

**ما هى وظيفة انزيم الأميليز و ما هى قيمة الاس الهيدروجيني الأمثل له:**

أنزيم الأميليز: يعما على تحليل النشا الى سكر ثنائى مالتوز.

قيمة الأس الهيدروجيني الأمثل له: pH = 7.5 (أى أنه يعمل فى وسط قلوى ضعيف)

## اختر الاجابة الصحيحة

تأمل الشكل الاتي ثم أجب عن الأسئلة



- ١٩٧ - رقم 1 يمثل عملية .....  
١٩٨ - رقم 2 يمثل عملية .....  
١٩٩ - توقف تفاعلات الأيض يؤدي الى حدوث .....  
٢٠٠ - من أمثلة العملية رقم 2 أيضاً عملية .....  
٢٠١ - رقم 3 يمكن أن يمثل بعملية .....  
٢٠٢ - تتحرر الطاقة أثناء حدوث العملية رقم .....  
٢٠٣ - تتم تفاعلات الأيض في الجسم بمساعدة .....  
٢٠٤ - العملية رقم 3 تحدث في .....  
٢٠٥ - تستهلك الطاقة أثناء حدوث التفاعلات رقم .....  
٢٠٦ - من العضيات التي يحدث بداخلها العملية رقم 2 .....  
٢٠٧ - يتم بناء البروتينات من اتحاد الأحماض الأمينية داخل عضيات .....  
٢٠٨ - يتم بناء الجليكوجين في خلايا الكبد و العضلات داخل عضيات .....  
٢٠٩ - يتم بناء النشا من اتحاد الجلوكوز داخل عضيات .....  
٢١٠ - الوحدة البنائية للانزيم هي .....  
٢١١ - يزيد الانزيم من سرعة التفاعل الكيميائي عن طريق ..... في التفاعل الكيميائي.  
٢١٢ - يتم بناء الليبيدات من اتحاد الأحماض الدهنية داخل عضيات .....

## اختر الاجابة الصحيحة

- ٢١٠ - الوحدة البنائية للانزيم هي .....  
٢١١ - يزيد الانزيم من سرعة التفاعل الكيميائي عن طريق ..... في التفاعل الكيميائي.  
٢١٢ - يتم بناء الليبيدات من اتحاد الأحماض الدهنية داخل عضيات .....

(الريبوسومات - البلاستيدة الخضراء - الشبكة الاندوبلازمية - جميع ما سبق)

٢١٣ تتكون الإنزيمات من مواد ..... (سكرية - نشوية - دهنية - بروتينية)

٢١٤ يتأثر نشاط الإنزيم بكل من درجة ال pH و ..... (الأس الهيدروجيني - درجة الحموضة - درجة الحرارة - درجة القلوية)

٢١٥ إذا كان الأس الهيدروجيني في وسط ما أقل من 7 فإن الوسط يكون... (حمضى - قلوئى - متعادل - لا توجد إجابة صحيحة)

٢١٦ أهمية تفاعلات الأيض ..... (نمو الجسم - تجديد الأنسجة التالفة - الحصول على الطاقة - جميع ما سبق)

٢١٧ - السبب الذى يجعل الانزيمات تتأثر بدرجات الحرارة أنها ..... -

- تحتوى على مجموعات كربوكسيل. - تحتوى على مجموعات هيدروكسيل.

- عبارة عن مواد بروتينية. - تتكون من ليبيدات.

٢١٨ - السبب الذى يجعل الانزيمات تتأثر بالتغير فى قيمة ال pH هو ..... -

- انها تحتوى على مجموعات كربوكسيل حمضية. - انها تحتوى على مجموعات أمينية قاعدية.

- انها مواد بروتينية. - جميع ما سبق.

٢١٩ - تبلغ قيمة pH للماء النقى فى درجة حرارة 25 °C ..... -

(2) - (5) - (7) - (8) -

٢٢٠ - يطلق اسم المحلول المنظم على المحلول الذى يستطيع أن يحافظ على ..... ثابتة.

- درجة الحرارة - نشاط الانزيم - مادة الهدف - قيمة ال pH.

٢٢١ - تحرر الطاقة المخزنة فى جزيئات الغذاء يسمى عملية ..... -

- هضم - هدم - إخراج - بناء

٢٢٢ - انزيم الاميليز يحفز تحلل ..... -

- البروتينات الى عديدات ببتيد فى المعدة. - البروتينات الى عديدات ببتيد فى الأمعاء.

- النشا الى سكر ثنائى مالتوز فى وسط قلوئى. - المالتوز الى 2 جزئى جلوكوز.

٢٢٣ - انزيم الببسين يعمل فى ..... -

- الأمعاء فى وسط قلوئى. - الأمعاء فى وسط حمضى. - المعدة فى وسط قلوئى - المعدة فى وسط حمضى.

٢٢٤ - تناول جرعات عالية من الأدوية مضادة الحموضة تؤثر على الهضم فى ..... -

- الفم لان الوسط فيه قلوئى - المعدة لأن الوسط فيها حمضى - الأمعاء لأن الوسط فيها قلوئى - الفم لأن الوسط فيه حمضى.

٢٢٥ - يتوقف نشاط الانزيم توقف مؤقت فى الحالات الاتية ماعدا ..... -

- ارتفاع درجة حرارة التفاعل ارتفاعاً كبيراً - تغير قيمة pH

- ارتفاع درجات الحرارة ارتفاع بسيط. - تحلل المادة الهدف الى نواتج.

٢٢٦ - وجود المثبطات فى التفاعل الكيميائى يؤثر على ..... -

- درجة حرارة التفاعل - pH التفاعل - سرعة عمل الإنزيم - طاقة التنشيط

٢٢٧ - كل مما يأتى ينطبق على الانزيم من حيث التركيب ..... -

- يتكون من عدد كبير من الأحماض الأمينية - يتكون من سلسلة أو أكثر من عديد الببتيد

- لكل إنزيم شكل فراغى محدد - جميع ما سبق

٢٢٨ - يتوقف نشاط الانزيم على كل مما يأتى ..... -

- وجود المثبطات - تركيز المادة الهدف - pH - تركيز الانزيم - جميع ما سبق

٢٢٩ - معظم الانزيمات تعمل فى درجة pH تساوى 7,4 بسبب:

- احتواء التفاعل على الماء
- احتواء الانزيم على مجموعات كربوكسيل حمضية و مجموعات أمينية قاعدية.
- احتواء مادة الهدف على مجموعات كربوكسيلية.
- ملائمة درجة حرارة التفاعل لقيمة الأس الهيدروجينى.

### ضع علامة صح أمام العبارة الصحيحة و علامة خطأ أمام العبارة الخاطئة مع تصحيح الخطأ:

- ٢٣٠ - تزيد الانزيمات من طاقة التنشيط اللازمة لبدء التفاعل.
- ٢٣١ - تتشابه الانزيمات مع العوامل الحفازة الكيميائية الأخرى فى تخصصها.
- ٢٣٢ - يتأثر نشاط الانزيم بدرجة الحرارة و قيمة الأس الهيدروجينى.
- ٢٣٣ - الانزيم الذى يحفز هضم البروتينات فى المعدة يمكن أن يحفز نفس العملية فى الأمعاء.
- ٢٣٤ - لا تتأثر سرعة التفاعلات الكيميائية فى الخلايا فى حالة ارتفاع درجة حرارة الجسم.
- ٢٣٥ - يمكن لنفس الانزيم أن يعمل فى وسطين مختلفين فى الأس الهيدروجينى.
- ٢٣٦ - المحاليل التى يكون قيمة الأس الهيدروجينى لها أقل من 7 تسمى محاليل متعادلة.
- ٢٣٧ - تختلف الانزيمات عن العوامل المساعدة الأخرى فى أنها تحفز عدد قليل من التفاعلات.
- ٢٣٨ - المثبطات عبارة عن مواد تعمل على زيادة سرعة عمل الإنزيم.
- ٢٣٩ - يمكن للعامل الحفاز أن يحفز عدد كبير من التفاعلات الكيميائية.
- ٢٤٠ - يمكن للانزيم أن يؤثر على أكثر من مادة متفاعلة (مادة الهدف).
- ٢٤١ - المحاليل التى يكون قيمة الأس الهيدروجينى لها أكبر من 7 تسمى محاليل حمضية.
- ٢٤٢ - يشترط أن يتكون الانزيم من سلسلة واحدة من عديد الببتيد.
- ٢٤٣ - التغير فى قيمة الأس الهيدروجينى يؤدي الى التوقف الفجائى لنشاط الانزيم.
- ٢٤٤ - قيمة pH للماء فى درجة حرارة خمسة و عشرين درجة مئوية تسمى درجة التعادل.
- ٢٤٥ - تقل كمية الانزيم فى نهاية التفاعل الكيميائى.
- ٢٤٦ - يتشكل التركيب الفراغى للانزيم بواسطة الأحماض الأمينية المكونة له.
- ٢٤٧ - تعمل الانزيمات فى مدى واسع من درجات الحرارة.
- ٢٤٨ - يعمل انزيم الببسين فى المعدة فى وسط حمضى عند pH تساوى 2 تقريباً.

### أكتب المصطلح العلمى الذى يدل على كل عبارة مما يأتى

- ٢٤٩ مواد بروتينية تعمل كعامل حفاز للتفاعلات الكيميائية فى الجسم. (.....)
- ٢٥٠ درجة الحرارة التى يكون عندها نشاط الإنزيم أكبر ما يمكن. (.....)
- ٢٥١ القياس الذى يحدد تركيز ايونات الهيدروجين فى المحلول. (.....)
- ٢٥٢ درجة الحرارة التى يكون عندها نشاط الإنزيم أقل ما يمكن. (.....)
- ٢٥٣ المدى بين درجة الحرارة التى يبدأ عندها نشاط الانزيم و درجة الحرارة التى يتوقف عندها نشاط الانزيم. (.....)
- ٢٥٤ قيمة الأس الهيدروجينى التى يكون عندها نشاط الإنزيم أكبر ما يمكن. (.....)
- ٢٥٥ قيمة الأس الهيدروجينى للماء عند درجة حرارة 25 درجة مئوية. (.....)



### 3- ما الذى يحدث فى الحالات الآتية

٢٥٦ - ارتفاع درجة الحرارة عن درجة الحرارة المثلى للإنزيم.

٢٥٧ - انخفاض درجة الحرارة عن درجة الحرارة المثلى للإنزيم.

٢٥٨ - قل الرقم الهيدروجينى للإنزيم أو زاد عن الرقم الهيدروجينى الأمثل.

### ما المقصود بكل مما يأتى

٢٥٩ - الانزيم:

٢٦٠ - طاقة التنشيط؟

٢٦١ - درجة الحرارة المثلى للإنزيم:

٢٦٢ - درجة الحرارة الدنيا للإنزيم:

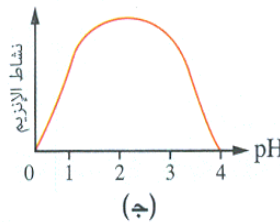
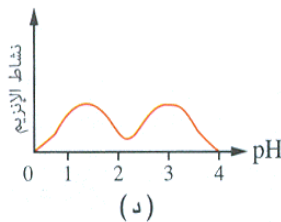
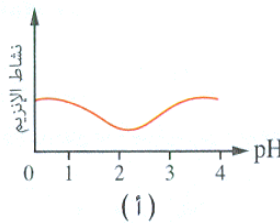
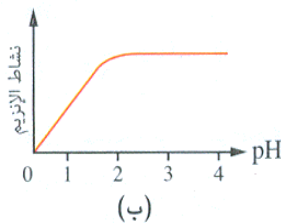
٢٦٣ - المدى الحرارى للإنزيم:

٢٦٤ - الرقم الهيدروجينى الأمثل للإنزيم:

٢٦٥ - درجة الأس الهيدروجينى المتعادلة:

### تأمل الأشكال الآتية ثم أجب عن الأسئلة على كل شكل منها

#### الشكل الأول



إذا علمت أن إنزيم الببسين يعمل في المعدة في وسط حمضي عند قيمة  $pH = 1,5 : 2,5$  أجب عن الأسئلة الآتية:

٢٦٦ - الشكل الذي يمثل عمل إنزيم الببسين هو: ( أ - ب - ج - د )

٢٦٧ - الشكل ب لا ينطبق مع خصائص الانزيمات بسبب:

- زيادة نشاط الانزيم مع زيادة قيمة  $pH$ .

- توقف نشاط الانزيم عند  $pH$  المثلى.

- استمرار نشاط الإنزيم مع زيادة قيمة  $pH$ .

- انخفاض نشاط الإنزيم مع زيادة قيمة  $pH$ .

٢٦٨ - الشكل د لا ينطبق مع خصائص الانزيمات بسبب:

- توقف نشاط الانزيم عند  $pH = 4$ .

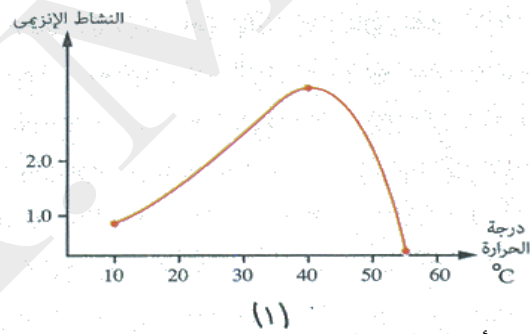
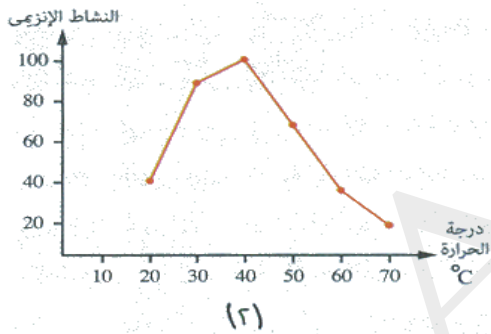
- توقف نشاط الانزيم عند  $pH$  المثلى.

- زيادة نشاط الانزيم مع زيادة قيمة  $pH$ .

- للانزيم قيمتان لل  $pH$  المثلى.

## الشكل الثاني

الشكل الآتي يوضح علاقات بيانية بين نشاط الإنزيمات و درجات الحرارة، أجب عما يأتي:



٢٦٩ - أكمل الجدول الآتى:

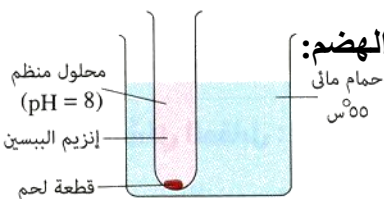
المدى الحرارى للإنزيم	درجة الحرارة المثلى للإنزيم	درجة الحرارة التى	
		يتوقف عندها نشاط الإنزيم	يبدأ عندها نشاط الإنزيم
			الانزيم 1
			الانزيم 2

٢٧٠ - ما الذى تتوقعه بالنسبة للإنزيم 1 إذا تم خفض درجة حرارة التفاعل الكيميائى عن 55 درجة و لماذا؟

## الشكل الثالث

إذا علمت أن إنزيم الببسين يقوم بهضم البروتينات في المعدة في وسط حمضي، إدرس الشكل

المقابل ثم أجب:



٢٧١ - يحتوى هذا الشكل على مجموعة من الأخطاء، ما التعديلات الواجب إجراؤها ليتم الهضم:

- بالنسبة لدرجة الحرارة: ( تصحيح )

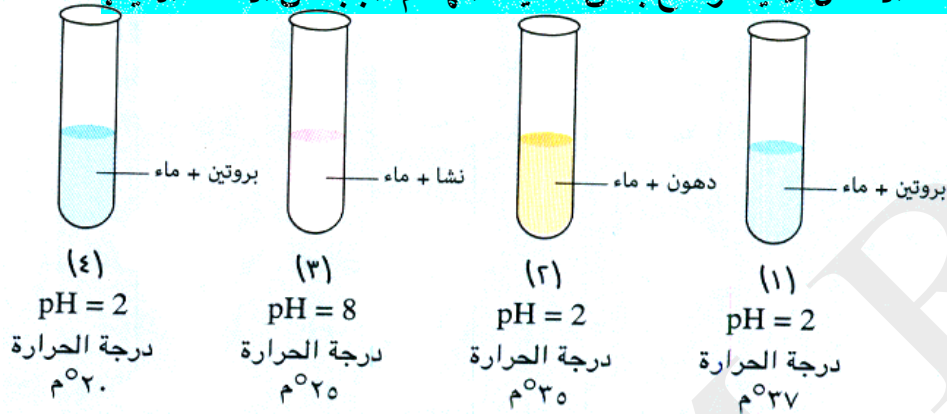
- بالنسبة للمحلول المنظم (قيمة ال  $pH$ ): ( تصحيح )

٢٧٢ - ما التغييرات التى يمكن إجراؤها فى الشكل لهضم قطعة اللحم بدون تغيير قيمة ال  $pH$  ؟



## الشكل الرابع

الأشكال الآتية توضح بعض عمليات الهضم، أجب عن الأسئلة الآتية:



٢٧٣ - يمكن إضافة إنزيم الببسين للأنبوبة رقم ..... ليتم هضم محتوياتها. ( 1 - 2 - 3 - 4 )

٢٧٤ - الأنبوبة رقم 1 تشابه ..... فى الجهاز الهضمى للإنسان.

- المعدة - الأمعاء الدقيقة - الفم - المرئ

٢٧٥ - إذا أضيف إنزيم الببسين الى الأنبوبة رقم 4 فإنه لا يهضم البروتين بها بسبب:

- عدم ملائمة الأس الهيدروجينى - عدم ملائمة درجة الحرارة - الببسين لا يهضم البروتين - جميع ما سبق

٢٧٦ - إذا تم ضبط درجة حرارة الأنبوبة رقم 3، فأى الانزيمات يتم إضافتها لى يتم هضم النشا:

- الببسين - التربسين - الأميليز - المالتيز

٢٧٧ - يمكن التأكد من احتواء الأنبوبة الأولى على البروتين عن طريق إضافة .....

- محلول اليود - كاشف البيوريت - محلول بندكت - محلول سودان-4

٢٧٨ - إذا أضيف محلول سودان-4 للأنبوبة رقم 2 فإنه يعطى لون .....

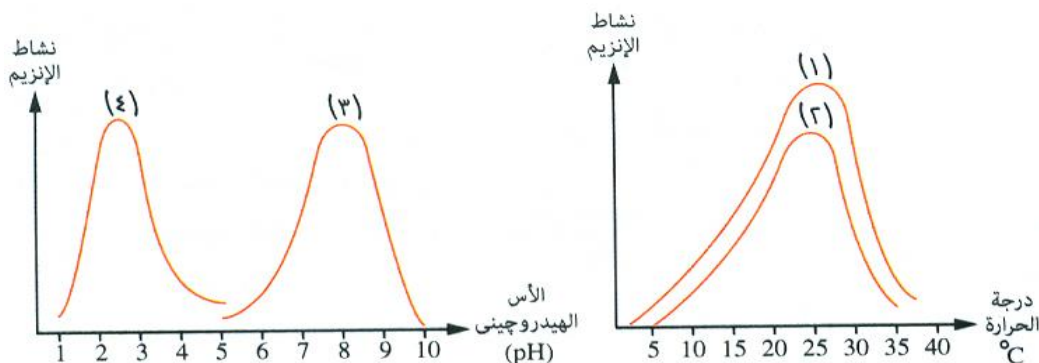
- أزرق داكن - أحمر - بنفسجى - برتقالى

٢٧٩ - يمكن استخدام محلول اليود مع الأنبوبة رقم ..... للتأكد من محتوياتها. ( 1 - 2 - 3 - 4 )

الشكلان الآتيان يوضحان علاقات بيانية بين نشاط الانزيمات و كل من درجة الحرارة و قيمة

الأس الهيدروجينى، أجب عن الأسئلة الآتية:

## الشكل الرابع





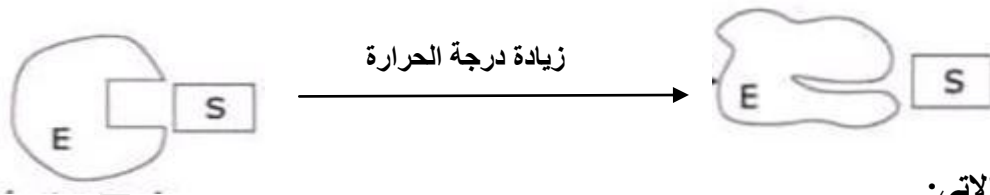
٢٨٠ - أكمل الجدول الآتى بما يناسب كل إنزيم:

الوسط الذى يعمل فيه الإنزيم	درجة الحرارة التى يتغير بعدها الشكل الطبيعى للإنزيم	المدى الحرارى للإنزيم	درجة الحرارة المثلى	pH المثلى	
					الانزيم 3
					الانزيم 4
					الانزيم 1
					الانزيم 2

٢٨١ - أكل الجدول الآتى:

العوامل التى تؤثر على سرعة الإنزيم	الخصائص العامة للإنزيمات
-1 .....	١ - .....
-٤ .....	٢ - .....
-3 .....	٣ - .....
-4 .....	4 - .....
-٥ .....	

**إدرس الشكل الآتى ثم أجب:**



٢٨٢ - يوضح الشكل الآتى:

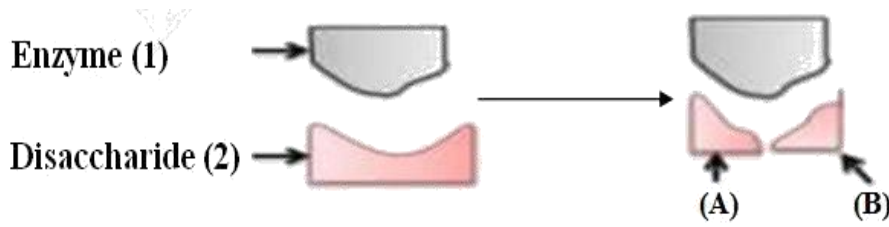
- زيادة المدى الحرارى للإنزيم.
- تغير التركيب الطبيعى للإنزيم و عدم استعادة الانزيم لنشاطه.
- تغير التركيب الطبيعى للإنزيم و استعادة الإنزيم لنشاطه عدم استعادة الانزيم لنشاطه.

٢٨٣ - البناء الفراغى للإنزيم يتحدد بواسطة:

- الأحماض الأمينية المكونة له.
- سلاسل عديد الببتيد المكونة له.

٢٨٤ - يطلق على المادة (S) أنها مادة:

- المثبط
- المحفز
- الهدف



**إدرس الشكل الاتي ثم أجب:**

**المادة 2 سكر ثنائي لذلك:**

- ٢٨٥ - لابد أن يكون أحد التركيبين A و B .....  
٢٨٦ - إذا كان 2 مaltose فإن كل من A و B يكون .....  
٢٨٧ - إذا كان B سكر يفرز من الغدد المنتجة للحليب فإن رقم 2 يكون .....

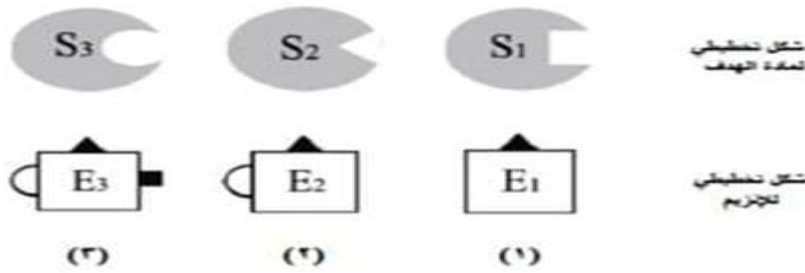
### **إختر الاجابة الصحيحة**

٢٨٨ - يتكون ATP نتيجة اتحاد ADP و الفوسفات في وجود طاقة و عليه فإن التسلسل الصحيح لاستخدام الطاقة المختزنة فيه هو .....

- جليكوجين - جلوكوز - ATP - طاقة.  
- جليكوجين - جلوكوز - ATP - طاقة.  
- طاقة - جلوكوز - ATP - طاقة.  
- جلوكوز - طاقة - ATP - طاقة.

- ٢٨٩ - يعتبر اللبن من مصادر الطاقة بسبب احتوائه على .....  
٢٩٠ - يعتبر اللبن من مصادر البناء بسبب احتوائه على .....  
٢٩١ - يوفر اللبن للجسم عنصر .....

### **الشكل الاتي يمثل 3 إنزيمات و 3 مواد تؤثر عليها الانزيمات، أجب عن الأسئلة**



**إختر الاجابة الصحيحة**

٢٩٢ - أي الانزيمات الثلاثة يعبر اعلى حصص :

- E1 - E2 - E3 -

٢٩٣ - يرجع السبب في اختلاف الانزيمات الثلاثة الى :

- اختلاف المونيمرات التي تدخل في تركيبها  
- اختلاف الشكل الفراغي لسلاسل عديد الببتيد  
- اختلاف البوليمرات التي تدخل في تركيبها  
- درجة الحرارة التي يعمل فيها كل إنزيم

٢٩٤ - لسم يطلق على المواد S1 و S2 و S3:

- المادة الهدف - المادة البادئة - المادة المثبطة - المادة المحفزة

٢٩٥ - للمادة التي تقلل سرعة عمل الإنزيم تسمى:

- المادة المثبطة - المادة الهدف - المادة البادئة - المادة المحفزة

A – B – C – D – A - C

س

٢٩٦ ما الذى تمثله الحروف الموجودة فى المستطيل

.....

٢٩٧ ما نوع الرابطة بين التراكيب التى تمثلها الحروف فى المستطيل

.....

٢٩٨ ما عدد هذه الروابط فى الشكل

.....

٢٩٩ ما نوع البروتينات التى يمثلها بروتين الهيموجلوبين

.....

٣٠٠ ما الذى يمثله التركيب س.

.....

٣٠١ إذا كانت المجموعة الحرة عند التركيب A فى طرف الجزيء هى الكربوكسيل فان التركيب C يرتبط مع س من خلال مجموعة .....

هى أصغر وحدة بنائية بجسم الكائن الحى يمكنها القيام بجميع الوظائف الحيوية .  
تنقسم الكائنات الحية إلى نوعين من الكائنات حسب عدد الخلايا:

نوع الكائنات	كائنات وحيدة الخلية	كائنات عديدة الخلايا
جسم الكائن	يتكون جسمها من خلية واحدة	يتكون جسمها من العديد من الخلايا
أمثلة	البكتيريا و الأميبا و البرامسيوم	معظم الكائنات الحية مثل الانسان و الحيتان

تتميز جميع الكائنات الحية بخصائص و صفات مشتركة مثل: التغذية و النقل و التنفس و الاخراج و ..... .

### تنوع الخلايا

تختلف الخلايا بعضها عن بعض فى: الشكل و الحجم و التركيب تبعاً للوظيفة التى تقوم بها هذه الخلايا.  
أمثلة لتنوع الخلايا:

- **الخلية البكتيرية:** أصغر الخلايا حجماً.
- **البيضة غير المخصبة للنعام:** أكبر الخلايا حجماً فى جميع الكائنات الحية.
- **الخلايا العصبية:** أطول الخلايا حيث قد يصل طولها لأكثر من متر (علل):  
حتى تتمكن من نقل الرسائل العصبية بين الحبل الشوكى (الموجود داخل العمود الفقرى) و بين أبعد أعضاء الجسم مثل أصابع القدمين.
- **الخلايا العضلية:** اسطوانية و طويلة و تتجمع مع بعضها لتكون ألياف عضلية تتميز بقدرتها على الانقباض و الارتخاء (الانقباض) (علل): حتى يستطيع الكائن الحى أن يتحرك.

الخلية النباتية



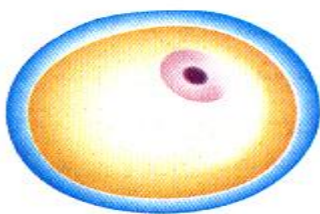
كريه الدم الحمراء



الخلية البكتيرية



خلية البيضة



الخلية العصبية



الخلية العضلية



مجموعة متنوعة من الخلايا مكبرة ٧٠٠ مرة من حجمها الأصلي

## دور العلماء فى اكتشاف الخلية و تركيبها

اسم العالم و جنسيته	دوره فى اكتشاف الخلية
روبرت هوك (انجليزى) عام 1665 م	يرجع اليه الفضل فى اكتشاف الخلية. - اخترع ميكروسكوب بسيط فحص به قطعة من الفلين. - وجد أن قطعة الفلين تتركب من فجوات صغيرة على شكل صفوف. - أطلق على كل فجوة اسم (خلية) (اسم مشتق من كلمة لاتينية Cellula بمعنى فجوة أو حجرة صغيرة).
فان ليفنهوك (هولندى) (عام 1674م)	- أول من شاهد عالم الكائنات المجهرية و الخلايا الحية (علل): - صنع مجهر بسيط باستخدام العدسات. - قوة تكبير المجهر 200 من حجمها الجسم الأصلى. - استخدم المجهر فى فحص مواد مختلفة مثل مياه البرك و الدم و غيرها.
شلايدن (ألمانى) 1838م	- استنتج ان جميع النباتات تتكون من خلايا. - بنى هذا الاستنتاج على ابحاثه الى جانب ابحاث علماء آخرين ممن سبقوه.
تيودور شوان (ألمانى) 1839	- استنتج أن أجسام كل الحيوانات تتكون من خلايا .
فيرشو (طبيب المانى) 1855	- أوضح أن: - الخلية تعتبر الوحدة الوظيفية الى جانب كونها الوحدة البنائية لجميع الكائنات الحية . - الخلايا الجديدة لا تنشأ إلا من خلايا أخرى كانت موجودة قبلها.

### مبادئ النظرية الخلوية

تعتبر النظرية الخلوية من أهم النظريات الأساسية فى علم الحياة الحديثة و هى تتكون من 3 مبادئ:

- ١ - تتكون جميع الكائنات الحية من خلايا قد تكون منفردة أو متجمعة .
- ٢ - الخلايا هى الوحدات الوظيفية الأساسية لجميع الكائنات الحية .
- ٣ - تنشأ جميع الخلايا من خلايا كانت موجودة من قبل .

- ارتبط اكتشاف الخلية باختراع المجهر (الميكروسكوب) (علل) لأنها يصعب رؤيتها بالعين المجردة.
- ارتبطت رؤية محتويات الخلية بتطور صناعة المجهر.
- أدى اختراع الميكروسكوب الالىكترونى الى دراسة تركيب الخلية (علل) بسبب قوة تكبيره العالية.
- أدى التقدم فى تطور الميكروسكوبات الى زيادة قدرة العلماء على الملاحظة و التحليل.

### - أنواع الميكروسكوبات (المجاهر):

الميكروسكوب الالىكترونى

الميكروسكوب الضوئى

الميكروسكوب الالىكترونى	الميكروسكوب الضوئى
بدأ استخدامه منذ عام 1950 م.	ظل الأداة الوحيدة لفحص الأشياء حتى 1950 م.
فكرة العمل	
يعتمد فى عمله على استخدام حزمة من الالكترونات ذات السرعات الفائقة.	يعتمد فى عمله على ضوء الشمس أو الضوء الصناعى
نوع العدسات المستخدمة	
عدسات كهرومغناطيسية تتحكم فى حزمة الالكترونات	- يستخدم فيه عدسات زجاجية ( عينية و شبيئية)
وظيفته	
١ - توضيح تراكيب خلوية لم تكن معروفة من قبل.	١ - تكبير الكثير من الكائنات الحية الدقيقة و الأشياء غير الحية.
٢ - معرفة تفاصيل أدق عن بعض التركيبات التى كانت معروفة من قبل.	٢ - فحص تركيب الأشياء كبيرة الحجم بعد تقطيعها الى شرائح رقيقة (علل) لتسمح بنفاذ الضوء خلالها .
خصائص الصورة	
يظهر صوراً عالية التكبير و عالية التباين (علل).	منخفضة التكبير
بسبب قصر الطول الموجى للشعاع الإلكترونى مقارنة بالشعاع الضوئى كما تستقبل الصورة على شاشة فلوريد أو لوحة تصوير بالغة الحساسية..	منخفضة التباين
قوة التكبير	
عالية جداً	منخفضة
يكبر الأشياء الى مليون مرة أكثر من حجمها الحقيقى .	يُكبر الأشياء حتى 1500 مرة ضعف حجمها الحقيقى.

## أنواع الميكروسكوب الإلكتروني

### 1- الميكروسكوب الإلكتروني الماسح:

يستخدم في دراسة سطح الخلية.

### 2- الميكروسكوب الإلكتروني النافذ:

يستخدم في دراسة التراكيب الداخلية للخلايا.

مثال:

يستخدم الميكروسكوب الإلكتروني النافذ في دراسة خلية الدم البيضاء (علل) وذلك لسهولة تمييز مكوناتها الداخلية.



## كيفية حساب قوة التكبير

لا يمكن زيادة قوة التكبير عن 1500 مرة (علل) لأن الصورة ستصبح غير واضحة.

- تتوقف قوة التكبير على قوة تكبير العدسة الشيئية و العدسة العينية، كما يلي:

$$\text{قوة تكبير} =$$

قوة تكبير العدسة العينية X قوة تكبير العدسة الشيئية.

## طرق الحصول على أوضح صورة

للعينات التي يتم فحصها بالمجهر الضوئي

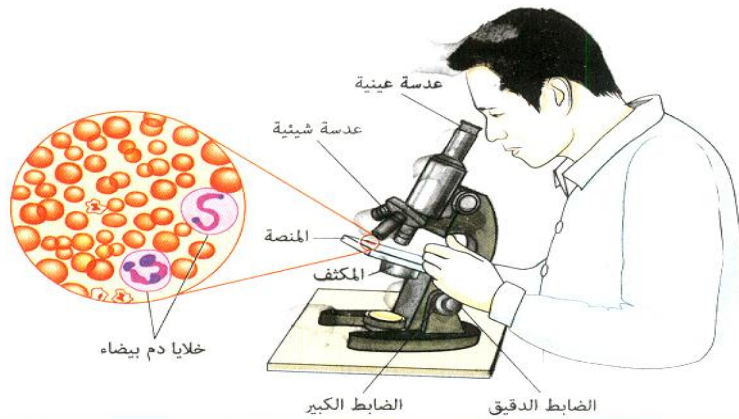
أفضل الطرق لفحص العينات بصورة أوضح هي زيادة التباين (الاختلاف) بين الأجزاء المختلفة للعينات وذلك عن طريق:

- 1- تغيير مستوى الإضاءة.
- 2- استخدام الأصباغ لصبغ أو تلوين أجزاء محددة من العينة لتصبح أكثر وضوحاً.

مثال: استخدام الصبغة في فحص كرات الدم البيضاء.

ملاحظة: لا يفضل استخدام الأصباغ عند فحص عينات

الكائنات الأولية (الأوليات) مثل الأميبا و البرامسيوم و فطر الخميرة (علل): وذلك لأن من عيوب استخدام الأصباغ انها تقتل العينات الحية.



خلايا الدم البيضاء كما تظهر بالميكروسكوب الضوئي المركب  
الصورة مكبرة ١٠٠٠ مرة من حجمها الأصلي



## إختر الإجابة الصحيحة

٣٠٢ يصعب رؤية الخلية بالعين المجردة بسبب .....

- صغر حجمها - كثرة محتوياتها - وجود الجدار الخلوى - جميع ما سبق

٣٠٣ ميكروسكوب ضوئى قوة تكبير العدسة العينية 50 و العدسة الشينية 20، تكون قوة تكبير الميكروسكوب .....

- 800 مرة - 900 مرة - 1000 مرة - 1100 مرة

٣٠٤ لا يمكن رؤية العينات كبيرة الحجم بالمجهر الضوئى إذا لم يتم تقطيعها الى شرائح دقيقة بسبب .....

- زيادة الطول الموجى للضوء - تشابه محتوياتها - عدم اختراق الضوء للعينة - صغر محتوياتها

٣٠٥ إذا كانت قوة تكبير العدسة العينية لميكروسكوب 50 و العدسة الشينية نصف قيمتها تكون الصورة .....

- غير واضحة - واضحة - واضحة جداً - دقيقة

٣٠٦ تعتمد قوة تكبير الميكروسكوب الالكترونى على وجود .....

- عدسات زجاجية - شاشة فلورية - عدسات كهرومغناطيسية - عدسات بلاستيكية

٣٠٧ يمكن للشعاع الضوئى أن يخترق جميع أجزاء العينة بنفس القوة، لذلك يودى تغيير مستوى الاضاءة الى زيادة

لتباين بين أجزاء العينة عند فحصها.

- العبارة الأولى صحيحة و الثانية خطأ. - العبارة الأولى خطأ و الثانية صواب.

- كلا العبارتين خطأ. - كلا العبارتين صواب.

٣٠٨ يتم زيادة التباين (الاختلاف) بين أجزاء العينة عند فحصها بالمجهر الضوئى عن طريق .....

- تغيير مستوى الإضاءة فقط - تقطيع العينة الكبيرة إلى أجزاء رقيقة - استخدام الأصباغ - جميع ما سبق

٣٠٩ تتميز الصورة التى نحصل عليها بالمجهر الإلكتروني بكل مما يأتى ماعدا .....

- عالية التكبير - أكبر مليون مرة من حجمها الطبيعى - عالية التباين - تستخدم معها الأصباغ

٣١٠ عند استخدام الأصباغ فانها تؤدى إلى .....

- قتل الخلايا الحية - زيادة تباين العينة - تلون بعض مكونات العينة - زيادة قوة التكبير

٣١١ يمكن بواسطة الميكروسكوب الضوئى رؤية كل مما يأتى ماعدا .....

- البرامسيوم - الأميبا - كرات الدم البيضاء - الجرانا

٣١٢ يرجع الفضل للميكروسكوب الالكترونى فى اكتشاف كل مما يأتى ماعدا .....

- النواة - النوية - الغشاء المزدوج فى البلاستيدة - الأنبيبات الدقيقة فى السنتروسوم

٣١٣ ميكروسكوب ضوئى عدسته العينية قوة تكبيرها 20 و يوجد اثنان من العدسات الشينية:

الأولى قوة تكبيرها 50 و الثانية قوة تكبيرها 100، أى عدسة شينية تستخدم لفحص قطاع فى ساق نبات، مع التعليل؟

.....

.....

.....

.....



٣١٤ - أكتب الرقم المناسب من العمود (B) أمام ما يناسبه من العمود (A).

B	A
١ - تستقبل الصورة عليها فى الميكروسكوب الإلكتروني.	الميكروسكوب الضوئى ( )
٢ - تواجه العينه التى يتم فحصها بالمجهر الضوئى.	الأصباغ ( )
٣ - يستخدم فى دراسة طبيعة الغشاء البلازمى للخلية.	الميكروسكوب الإلكتروني الماسح ( )
٤ - تتحكم فى حزمة الإلكترونات فى الميكروسكوب الإلكتروني.	العدسات الكهرومغناطيسية ( )
٥ - تستخدم لزيادة التباين عند فحص العينات بالمجهر الضوئى.	الشاشة الفلورية ( )
٦ - ينظر الشخص من خلالها عند فحص العينات بالمجهر الضوئى.	العدسة العينية ( )
٧ - يستخدم لتكبير الكائنات الحية الدقيقة و الأشياء غير الحية.	العدسة الشيئية ( )
٨ - يستخدم لدراسة تركيب السنتروسوم (الجسم المركزى).	الميكروسكوب الإلكتروني النافذ ( )

٣١٥ - أكتب الرقم المناسب من العمود (B) أمام ما يناسبه من العمود (A).

B	A
١ - من الكائنات عديدة الخلايا.	البكتريا ( )
٢ - أصغر الخلايا حجماً.	الحوت و الإنسان ( )
٣ - مسئولة عن حركة الكائنات الحية.	بيضة النعامة ( )
٤ - من الأوليات التى ينصح بعدم استخدام الأصباغ فى فحصها.	الخلية العصبية ( )
٥ - أكبر الخلايا حجماً فى جميع الكائنات الحية.	الخلية العضلية ( )
٦ - مسئولة عن نقل الرسائل بين الحبل الشوكى داخل العمود الفقرى و الأعضاء.	البرامسيوم ( )

٣١٦ - أكتب الرقم المناسب من العمود (B) أمام ما يناسبه من العمود (A).

B	A
١ - استنتج ان جميع النباتات تتكون من خلايا.	جروبرت هوك ( )
٢ - فحص مواد مختلفة مثل مياه البرك و الدم و غيرها و شاهد الكائنات المجهرية.	غان ليفنهوك ( )
٣ - فحص قطعة من الفلين و أطلق على المكعبات الموجودة فيها اسم خلايا.	شلايدن ( )
٤ - وضع استنتاجات استخدمت فى النظرية الخلوية.	تيودور شوان ( )
٥ - استنتج أن أجسام كل الحيوانات تتكون من خلايا.	-فيرشو ( )

انظر الشكل المقابل و أجب عن الأسئلة الآتية



٣١٧ - من العالم الذى اخترع الجهاز الذى أمامك .....

٣١٨ - ما هى قوة تكبيره. ....

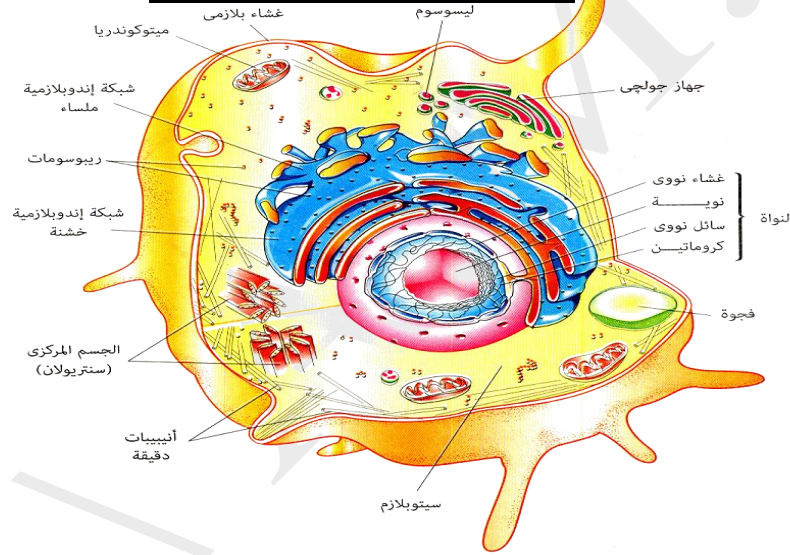
٣١٩ - فيم استخدمه العالم .....

٣٢٠ - تم رؤية ..... بهذا الجهاز لأول مرة.

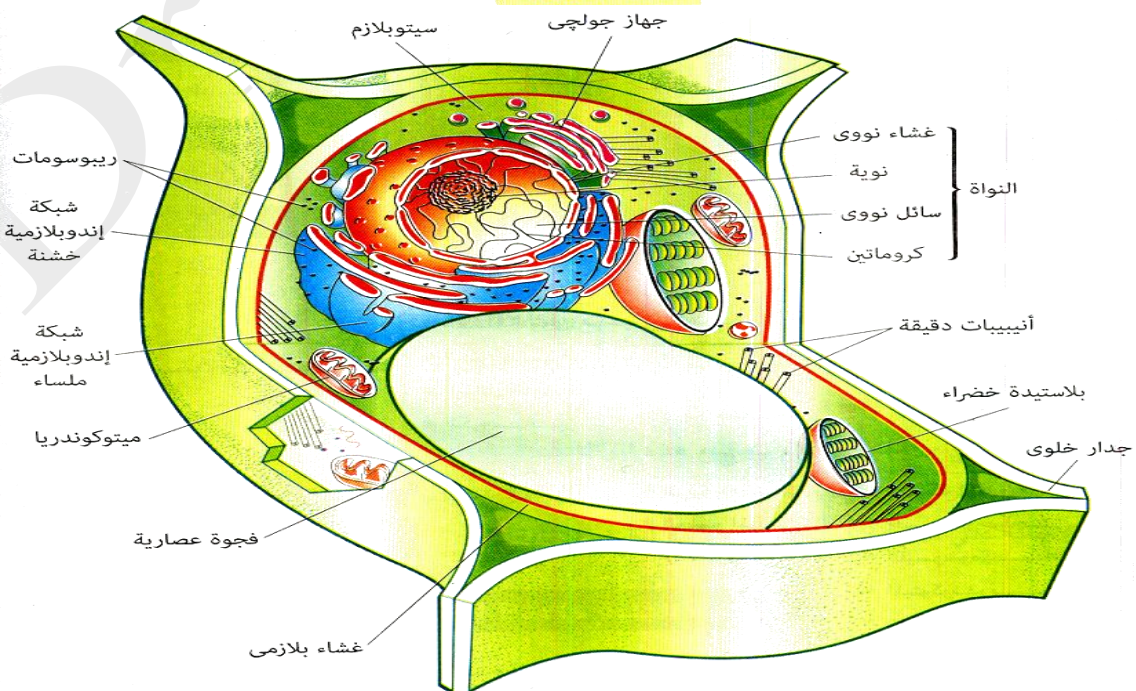
٣٢١ - تم استخدام ..... فى صناعة هذا الجهاز.

- هي وحدة البناء و الوظيفة فى جميع الكائنات الحية.
- تقوم الخلية بجميع الوظائف الحيوية (النمو و التكاثر و الاستجابة للمؤثرات و القيام بعمليات الأيض المختلفة).
- تتكون الخلية من بروتوبلازم محاط بغشاء خوى و جدار خلوى أو بغشاء خلوى فقط.
- يتميز البروتوبلازم إلى جزئين، هما النواة و السيتوبلازم.
- يحتوى السيتوبلازم على مجموعة من التراكيب تسمى عضيات الخلية.
- تنقسم العضيات إلى عضيات غشائية و عضيات غير غشائية.
- مجموعة من العضيات لكل منها دور يمكنها من القيام بوظائفها الحيوية.

### مكونات الخلية و وظائفها



### الخلية الحيوانية



## أولاً: الجدر و الأغشية الخلوية

### ١ للجدار الخلوى

#### وجوده:

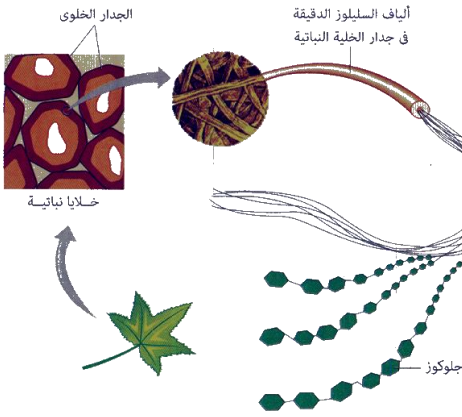
- يحيط بالخلايا النباتية و خلايا الطحالب و الفطريات و بعض أنواع من البكتيريا.  
- لا يحيط بالخلية الحيوانية.

#### وظيفته:

- ١ - حماية الخلية و تدعيمها و إكسابها شكل محدد.
- ٢ - يسمح بمرور الماء و المواد خلاله بسهولة (علل) لأنه مثقب.

#### تركيبه:

يتكون بصورة أساسية من ألياف السليلوز.



### 2- الغشاء البلازمى (غشاء الخلية)

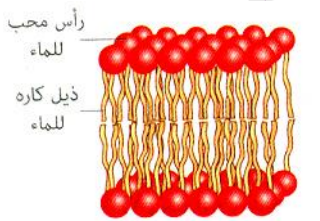
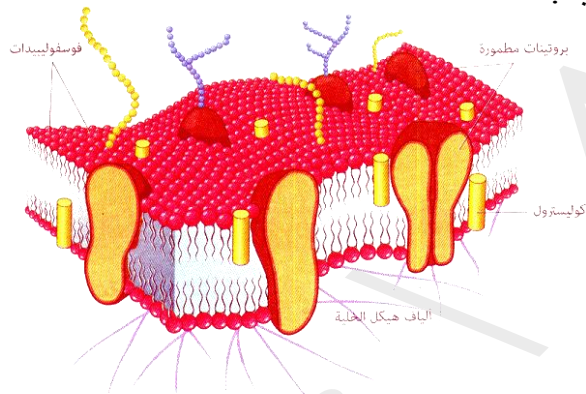
#### وجوده:

غشاء رقيق يحيط بالخلية و يفصل محتوياتها عن الوسط المحيط.

#### وظيفته:

- ١ - تنظيم مرور المواد من و إلى الخلية.
  - ٢ - منع انتشار البروتوبلازم خارج الخلية (علل)
- حيث يغلف الخلية و يفصل بين محتوياتها و الوسط المحيط بها.

#### تركيبه:



تركيب جزيء الفوسفوليبيدات

غشاء رقيق يتكون من طبقتين من جزيئات الفوسفوليبيدات

يربط بينها بجزيئات من مادة الكوليسترول

و توجد جزيئات من البروتين مغمورة بينها.

1- طبقتين من جزيئات الفوسفوليبيدات السائلة: تتكون كل منها من:

- رؤوس محبة للماء (قابلة للذوبان فى الماء): تقابل الوسط المائى خارج الخلية.

- ذيول كارهة للماء (غير قابلة للذوبان فى الماء): توجد داخل حشوة الغشاء.

2- جزيئات البروتين: توجد مغمورة بين جزيئات الفوسفوليبيدات و لها وظيفتان:

1- بعضها يعمل كمواقع تعرف الخلية على المواد المختلفة مثل الهرمونات و المواد الغذائية.

2- بعضها يعمل كوابات لمرور المواد من و إلى الخلية.

٣ - جزيئات من مادة الكوليسترول: تربط بين جزيئات الفوسفوليبيدات.

مما يعمل على بقاء الغشاء متماسكاً و سليماً.

## علل لما يأتي:

### • يبدو الغشاء البلازمي متماسكاً:

- لوجود جزيئات من الكوليسترول تربط بين طبقتي الفوسفوليبيدات.

### • يشبه الغشاء البلازمي طبقة من الزيت على الماء.

- لوجود طبقتين من الفوسفوليبيدات السائلة تتكون كل منها من:

- رؤوس محبة للماء (قابلية للذوبان في الماء): تقابل الوسط المائي خارج الخلية.

- ذيول كارهة للماء (غير قابلة للذوبان في الماء): توجد داخل حشوة الغشاء.

### • أهمية البروتينات الموجودة في الغشاء البلازمي:

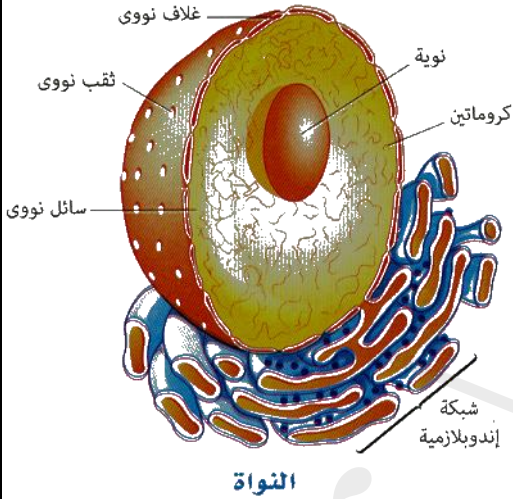
- بعضها يعمل كمواقع تعرف الخلية على المواد المختلفة مثل الهرمونات و المواد الغذائية.

2- بعضها يعمل كبوابات لمرور المواد من و إلى الخلية.

## ثانياً: البروتوبلازم

يتكون من البروتوبلازم و السيتوبلازم

### ١- النواة



**موقعها في الخلية:** تقع غالباً في وسط الخلية.

**وصفها:** - أوضح العضيات تميزاً تحت الميكروسكوب.

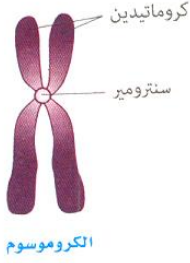
- تأخذ شكل كروي أو بيضاوي.

**تركيبها:** تحاط النوى بالغشاء النووي و تحتوى على النوية و السائل النووي و الكروماتين.

الغشاء النووي	غشاء مزدوج يحيط بالنواة. ١ - يفصل محتويات النواة عن محتويات السيتوبلازم. 2- يحتوى على ثقب دقيقة (علل) لتمر من خلالها المواد بين النواة و السيتوبلازم.
السائل النووي	سائل هلامي شفاف داخل انواة - يحتوى على النوية و و الكروماتين
النوية	- تلعب دوراً في تخليق المواد البروتينية مثل الانزيمات و الهرمونات. - عددها: تحتوى النواة على نوية واحدة و قد توجد أكثر من نوية في بعض الخلايا خاصة الخلايا التي تختص بتكوين و افراز المواد البروتينية مثل الانزيمات و الهرمونات (علل).
الكروماتين	-خيوط دقيقة متشابكة و ملتفة حول بعضها. -يتحول أثناء انقسام الخلية (في المرحلة الاستوائية للانقسام النووي) إلى كروموسومات.



## الكروموسومات (الصبغيات):



**تسميتها:** سميت بهذا الاسم (علل) لأنها تُصبغ بالأصباغ القاعدية

فتظهر ملونة مما يجعلها أكثر قابلية للرؤية أثناء عملية انقسام الخلية.

**تركيب الكروموسوم:** تظهر الكروموسومات أثناء المرحلة الاستوائية للانقسام الخلوي.

- يتركب كل كروموسوم من خيطين كل منهما يسمى **كروماتيد** و يتصلان معاً عند جزء مركزي يسمى **سنتروميير**.

- يتركب كل كروماتيد من **الحمض النووي DNA** ملف حول مجموعة من البروتينات تسمى **الهستونات**.

**وظيفة الحمض النووي DNA:** - يحمل المعلومات الوراثية التي:

١ - تضبط شكل الخلية و بنيتها.

٢ - تضبط و تنظم الأنشطة الحيوية للخلية.

٣ - تنتقل من خلالها الصفات الوراثية من جيل الى آخر عن طريق عملية التكاثر.

## 2- السيتوبلازم

**وجوده:** يملأ الحيز الموجود بين غشاء الخلية و النواة.

**تركيبه:** مادة شبه سائلة تتكون أساساً من الماء و بعض المواد العضوية و غير العضوية.

**مكوناته:** يتكون من هيكل الخلية و عضيات الخلية.

**هيكل الخلية:** شبكة من الخيوط و الأنابيب الدقيقة وظيفتها:

1- تكسب الخلية دعامة تساعد في الحفاظ على شكلها و قوامها.

2- تعمل كمسارات لنقل المواد المختلفة من موضع لآخر داخل الخلية.

**عضيات الخلية:** هي مجموعة من التراكيب المتنوعة تنقسم الى:

1- **عضيات غير غشائية:** تكون غير محاطة بغشاء مثل: الريبوسومات و الجسم المركزي.

٢ - **عضيات غشائية:** تكون محاطة بغشاء مثل: الشبكة الاندوبلازمية و أجسام جولجي و الميتوكوندريا و الليسوسومات و

البلاستيدات و الفجوات.

## أولاً: العضيات غير الغشائية

### ٢ - الريبوسومات

**وصفها:** عضيات مستديرة غير غشائية.

**وظيفتها:** تقوم بتصنيع البروتين في الخلية.

**وجودها:** تنتشر في السيتوبلازم أو على سطح الشبكة الاندوبلازمية.

المنتشرة فى السيتوبلازم	الموجودة على السطح الخارجى للشبكة الاندوبلازمية
عددها قليل توجد فى صورة مفردة أو فى تجمعات.	أكثر عدداً من المنتشرة فى السيتوبلازم.
تنتج البروتين و تطلقه مباشرة الى السيتوبلازم تستخدمه الخلية فى العمليات الحيوية مثل النمو و التجديد و غيرها.	تنتج بروتينات (مثل الانزيمات) تنقلها الشبكة الاندوبلازمية الداخلية إلى خارج الخلية بعد ادخال بعض التعديلات عليها فى جسم جولجى.

## 2- الجسم المركزى (السنتروسوم)

### وجوده:-

- يوجد فى الخلايا الحيوانية (ما عدا الخلايا العصبية) و بعض خلايا الفطريات بالقرب من النواة.
- لا يوجد فى الخلايا النباتية و الطحالب و معظم الفطريات و يقوم بدوره فى هذه الخلايا منطقة من السيتوبلازم تؤدى نفس وظيفته.

### الموقع:- عبارة عن جسمين دقيقين.

يعرفان ب السنتروليون (كل منهما يسمى السنتريلول) يقعان بالقرب من النواة.

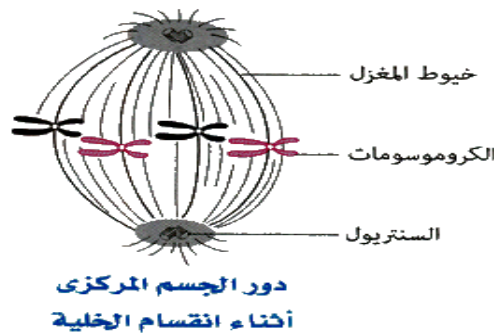
**تركيبه:-** يتكون كل سنتريلول من تسع مجموعات من الانبيبات الدقيقة مرتبة فى ثلاثيات فى شكل أسطوانى.

### وظيفته:-

#### 1- يلعب دوراً هاماً أثناء انقسام الخلية.

(حيث تمتد خيوط المغزل بين السنتروليون الموجودين عند كل قطب من قطبى الخلية فتقوم بسحب الكروموسومات نحو قطبى الخلية مما يساعد فى انقسام الخلية.

#### 2- يلعب دوراً هاماً فى تكوين الأسواط و الأهداب .



### ما الفرق بين السنتروسوم و السنتروميير

**السنتروسوم:** هو الجسم المركزى الذى يتكون من 2 سنتريلول و يقع بالقرب من النواة.

**السنتروميير:** هو موضع اتصال 2 كروماتيد فى الكروموسوم.

## ثانياً: العضيات الغشائية

## ١ - الشبكة الاندوبلازمية

**وصفها:** شبكة من الأنابيب الغشائية.

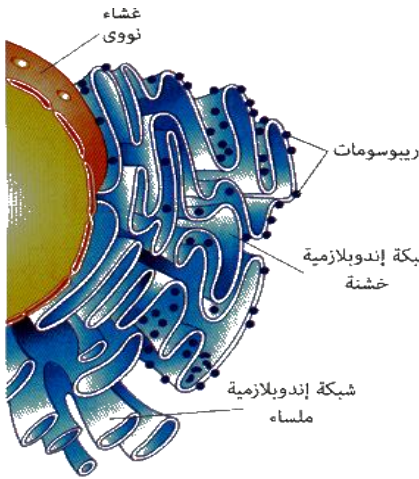
**الموقع:** تتخلل جميع أجزاء السيتوبلازم و تتصل بالغشاء النووي و غشاء الخلية.

**وظيفتها:** تكون نظام نقل داخلي يعمل على:

١ - نقل المواد من جزء الى اخر داخل الخلية.

٢ - نقل المواد بين النواة و السيتوبلازم .

**أنواعها:** شبكة اندوبلازمية خشنة و شبكة اندوبلازمية ملساء:



الشبكة الإندوبلازمية

وجه المقارنة	الشبكة الاندوبلازمية الخشنة	الشبكة الاندوبلازمية الملساء
الريبوسومات: الوظيفة:	توجد بأعداد كبيرة على سطحها. ١ - تخليق البروتين. ٢ - ادخال تعديلات على البروتين الذي تفرزه الريبوسومات. ٣ - تصنيع الأغشية الجديدة بالخلية. ٤ - خلايا بطانة المعدة و خلايا الغدد الصماء (علل) لأنها مسئولة عن إفراز الانزيمات و الهرمونات	- لا توجد. ١- تخليق الليبيدات. ٢- تحويل الجلوكوز الى جليكوجين. ٣ - تعديل طبيعة بعض المواد الكيميائية السامة للخلية لتصبح أقل سمية. ٤ - توجد في خلايا الكبد (علل) حيث يتم فيها: ١- تحويل الجلوكوز الى جليكوجين و تخزينه في الكبد. ٢- تحويل بعض المواد الكيميائية السامة الى مواد أقل سمية.
التواجد:		

## ٢- جسم جولجي

**وصفه:**

- مجموعة من الأكياس الغشائية المفلطحة مستديرة الأطراف.

- اكتشفها العالم الإيطالي كاميلو جولجي عام 1898 م .

**تسميته:**

- يسمى **جهاز جولجي** أو **معقد جولجي**.

- يعرف في النباتات و الطحالب باسم **(الديكتيوسومات)**.

**أعداده:**

تختلف أعداده في الخلية تبعاً لنشاط الخلية الإفرازي حيث تكثر في الخلايا الإفرازية.





**وظيفته:** يلعب دوراً في تكوين إفرازات الخلية حيث:

- 1- يستقبل الجزيئات التي تنتجها الشبكة الاندوبلازمية عبر مجموعة من الحويصلات الناقلة.
- 2- يقوم بتصنيف هذه المواد و ادخال بعض التعديلات عليها.
- 3- يقوم بتوزيع هذه المواد في الخلية إلى مواضع استخدامها في الخلية أو تعبئتها في حويصلات إفرازية تسمى **الليسوسومات** التي تنتجها غشاء الخلية حيث تطردها الخلية كمنتجات إفرازية.

### 3- الليسوسومات

**وصفها:** حويصلات غشائية مستديرة صغيرة الحجم

تتكون بواسطة أجسام جولجي

تحتوى على مجموعة من الانزيمات الهاضمة.

**وظيفتها:**

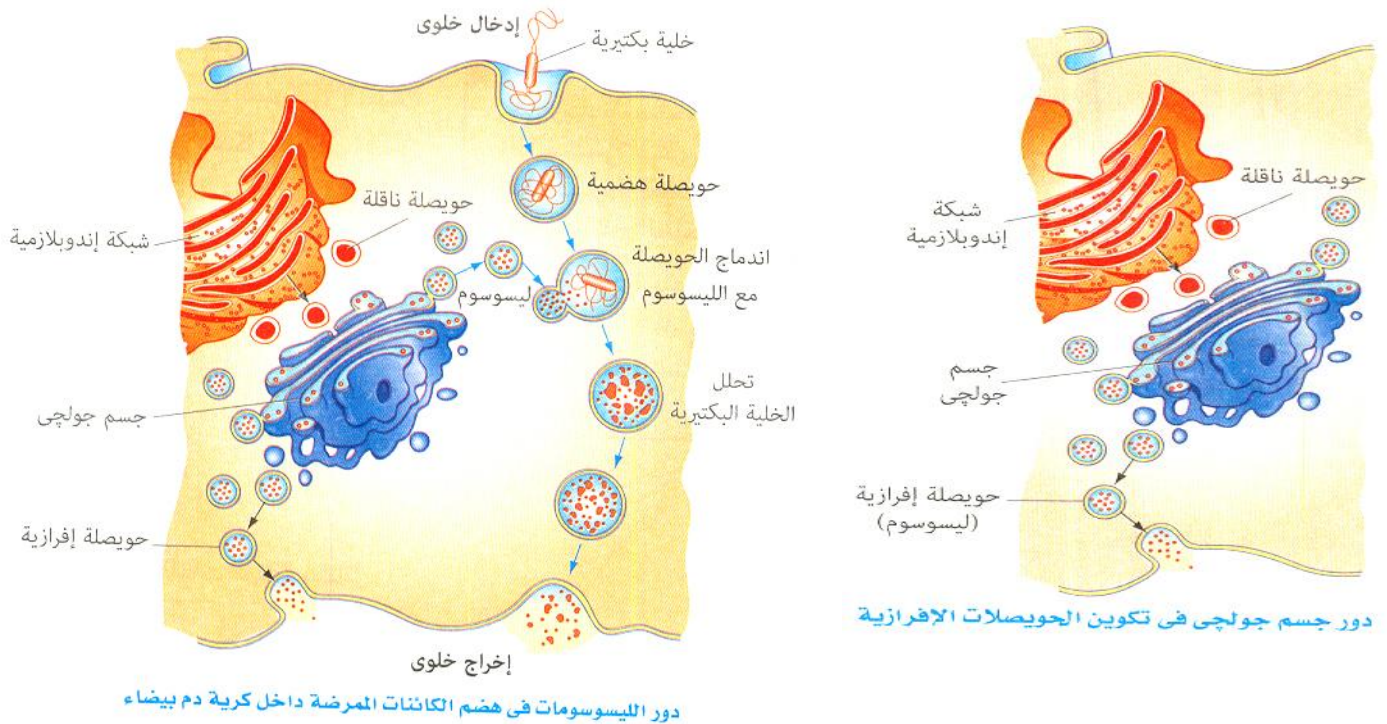
- 1- تتخلص من الخلايا و العضيات المسنة أو المتهالكة التي لم يعد لها فائدة.
- 2- تهضم المواد الغذائية التي يتم ابتلاعها بواسطة الخلية و تحولها الى مواد أبسط تركيباً يمكن للخلية ان تستفيد منها.

**مثال لأهمية الليسوسومات:**

تستخدم خلايا الدم البيضاء الانزيمات الموجودة في الليسوسومات لهضم و تدمير الميكروبات التي تغزو الخلية.

**ملاحظة:** لا تتأثر الخلية بالانزيمات الموجودة في الليسوسومات (علل):

لان الانزيمات تكون محاطة بغشاء يعزلها عن مكونات الخلية .



## 4- الميتوكوندريا

**وصفها:** عضيات كيسية الشكل.

**تركيبها:** يحيط بها غشائين (خارجي و داخلي).

- تمتد من الغشاء الداخلي ثنيات تسمى (الأعراف) الى داخل الحشوة الداخلية.

**وظيفة الأعراف:** تعمل على زيادة مساحة السطح الداخلي الذي تحدث عليه التفاعلات الكيميائية التي يتم من خلالها إنتاج الطاقة.

**وجودها:** توجد في جميع أنواع الخلايا و تكثر في خلايا العضلات (علل) لزيادة انتاج الطاقة التي تحتاجها العضلات.

**وظيفتها:**

1- تعتبر المستودع الرئيسى لانزيمات التنفس الخلوى .

2- تعمل كمستودع للمواد اللازمة لتخزين الطاقة الناتجة من عملية التنفس الخلوى نتيجة لأكسدة المواد الغذائية.

ينتج عن أكسدة المواد الغذائية و خصوصاً الجلوكوز تكوين مركبات ATP (أدينوسين ثلاثى الفوسفات) التى تخزن الطاقة و يمكن للخلية أن تستخلص الطاقة من جزيئات ATP مرة أخرى.

**ملاحظة:** تمثل الميتوكوندريا مراكز إنتاج الطاقة فى الخلية (بيت الطاقة فى الخلية)

## 5- الفجوات

**وصفها:** أكياس غشائية (تشبه فقاعات) ممتلئة بسائل.

**وجودها:** فى الخلايا الحيوانية و تكون صغيرة الحجم و كثيرة العدد.

فى الخلايا النباتية تتجمع فى فجوة واحدة كبيرة أو أكثر.

**وظيفتها:**

تخزين الماء و المواد الغذائية أو تخزين فضلات الخلية لحين التخلص منها.

## 6- البلاستيدات

**وصفها:** عضيات غشائية متنوعة الأشكال.

**وجودها:** توجد فى الخلايا النباتية فقط.

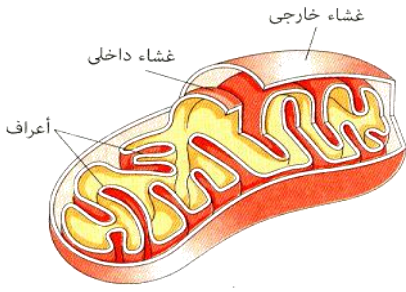
**تركيبها:** غلاف مزدوج . - **الستروما** (الحشوة): داخلية توجد داخل الغلاف و تحتوى على الجرانا.

**الجرانا:** مجموعة من طبقات غشائية داخلية مترابطة على هيئة صفائح.

تحتوى الجرانا على الأصباغ.

**أنواع البلاستيدات الخضراء:-**

يوجد ثلاثة أنواع من البلاستيدات: البلاستيدات البيضاء و البلاستيدات الملونة و البلاستيدات الخضراء.



الميتوكوندريا

وجه المقارنة	البلاستيدات البيضاء (الليكوبلاست)	البلاستيدات الملونة (الكروموبلاست)	البلاستيدات الخضراء (الكلوروبلاست)
نوع الأصباغ	-لا يوجد	-اصباغ الكاروتين (الوانها بين الأحمر و الاصفر و البرتقالى)	- صبغ الكلوروفيل أخضر اللون
تواجدها	-خلايا جذر البطاطا. خلايا درنة البطاطس. أوراق الكرنب الداخلية.	-بتلات الأزهار. -الثمار. -جذور بعض النباتات مثل اللفت.	- أوراق وسيقان النباتات الخضراء.
وظيفتها	-تعمل كمراكز لتخزين النشا	-تكسب الأجزاء التى تتواجد فيها لوناً خاص بها	- تتم فيها عملية البناء الضوئى

### الكلوروفيل:

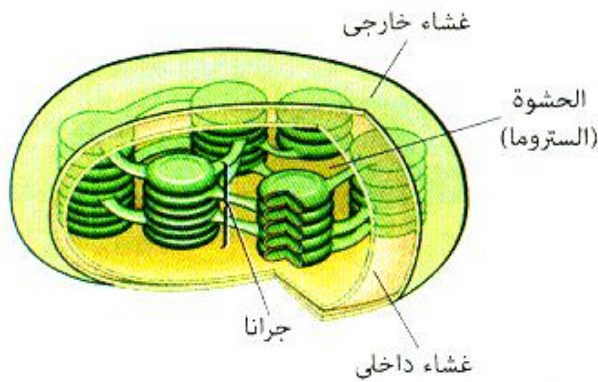
يقوم صبغ الكلوروفيل بتحويل الطاقة الضوئية للشمس الى طاقة كيميائية تخزن فى الروابط الكيميائية لجزيء سكر الجلوكوز.

### الكاروتين:

صبغات ملونة تتباين ألوانها بين الأحمر و الأصفر و البرتقالى و توجد فى البلاستيدات الملونة فى الخلايا النباتية.

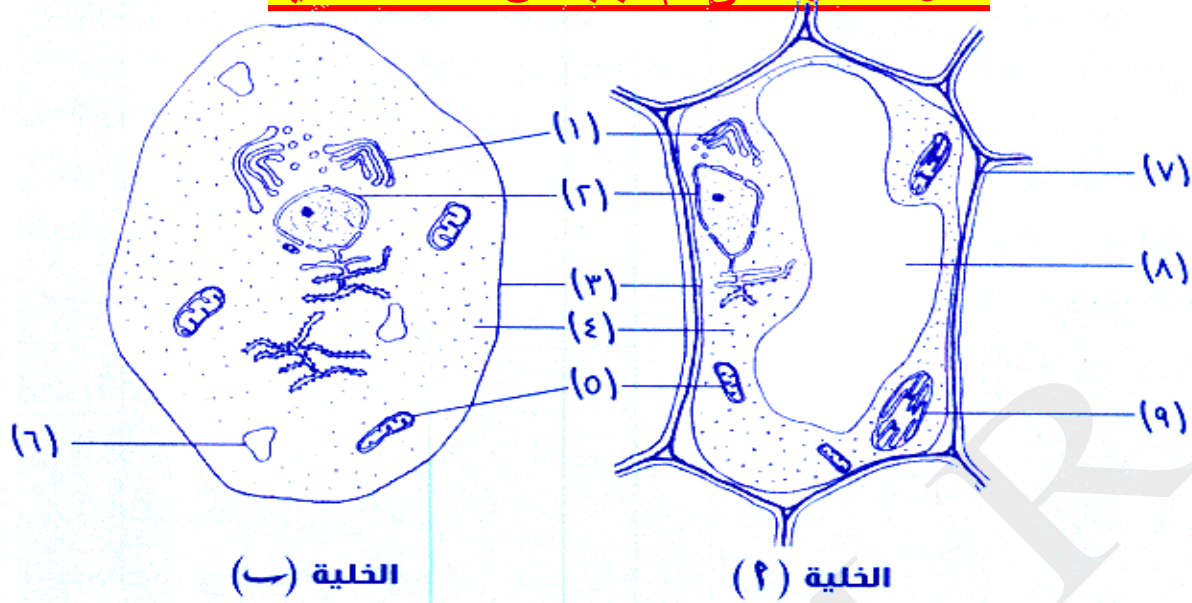
### الكروماتين:

خيوط دقيقة متشابكة و ملتفة حول بعضها و توجد فى نواة الخلية النباتية و الحيوانية.



البلاستيدة الخضراء

## تأمل الشكل الآتى ثم أجب عن الأسئلة الآتية



٣٢٢. الخلية (أ) تمثل خلية ..... (نباتية - حيوانية) (إختر)
٣٢٣. الخلية (ب) تمثل خلية ..... (نباتية - حيوانية) (إختر)

### أكتب اسم و رقم التركيب أو العضى الذى

٣٢٤. يوجد بعدد كبير و حجم صغير فى الخلية (ب). (.....)
٣٢٥. يوجد فى الخلية النباتية و خلايا الطحالب و الفطريات و بعض أنواع البكتيريا فقط. (.....)
٣٢٦. إذا غاب فقدت الخلية (أ) الدعامة و الشكل المميز. (.....)
٣٢٧. يتمثل بمجموعة من الأكياس الغشائية المفلطحة مستديرة الأطراف. (.....)
٣٢٨. أكتب رقم و اسم العضى الذى يتواجد على شكل عضيات غشائية كيسية الشكل. (.....)
٣٢٩. أكتب رقم و اسم العضى الذى تتم بداخله عملية بناء الأحماض النووية. (.....)
٣٣٠. ينظم حركة المرور من و إلى الخلية. (.....)
٣٣١. يسمح بحركة الماء و المواد من و إلى الخلية بسهولة. (.....)
٣٣٢. يوم بتخزين فضلات الخلية لحين التخلص منها فى الخلية (أ). (.....)
٣٣٣. تتم بداخله عملية بلمرة ينتج عنها تكوين النشا. (.....)
٣٣٤. يكثر فى الخلايا التى تفرز الهرمونات (الخلايا الغدية). (.....)
٣٣٥. يحتوى على بروتين مرتبط يتكون من أحماض أمينية و حمض نووى. (.....)
٣٣٦. تحدث فيه عملية هدم لسكر الجلوكوز. (.....)

### إختر الإجابة الصحيحة مما يأتى

٣٣٧. إذا كان العضى رقم 9 يحتوى على صبغ الكاروتين فإن الخلية (أ) يمكن أن توجد فى كل مما يأتى ماعدا ..... (جذور اللفت - زهرة الياسمين - ورقة النبات - ثمرة العنب) (إختر)

٣٣٨. إذا كانت الخلية (أ) توجد فى جذر البطاطا فإن العضى رقم 9 يحتوى على صبغ .....

- لا توجد إجابة صحيحة

- الكاروتين و الكلوروفيل

- الكلوروفيل

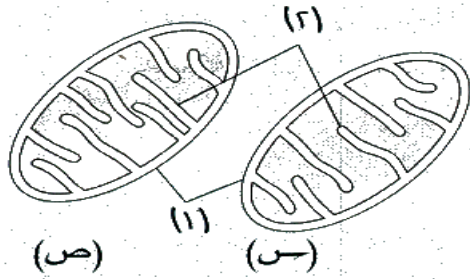
- الكاروتين



٣٣٩ - إذا احتوى العضى رقم 9 على صبغ الكلوروفيل فإن الخلية رقم يمكن أن تتواجد فى .....

- أوراق النبات فقط - سيقان النبات فقط - أوراق و سيقان النبات - لا توجد إجابة صحيحة

### تأمل الشكل الاتى ثم أجب عن الأسئلة الاتية



٣٤٠ - التركيب الذى أمامك يمثل (.....)

٣٤١ - إذا أمكن فرد الغشاءين الداخلى و الخارجى لهذا التركيب فأيهما يكون أكثر طولاً. (.....)

٣٤٢ - ما اسم الأجزاء رقم 2؟ (.....)

٣٤٣ - إذا كان أحد التركيبين فقط س و ص يوجد فى خلية فى جناح الطائر فما هو؟ (.....)

٣٤٤ - يختلف عدد الأجزاء رقم 2 فى س عن ص لأن (إختار)

٣٤٥ - يحدث داخل هذه التراكيب عملية (هدم / بناء) للمواد الغذائية خاصة الجلوكوز و ينتج عنها طاقة يتم تخزينها فى

مركبات (ADP / ATP) (إختار)

٣٤٦ - إذا تم أكسدة نفس الكمية من الأحماض الدهنية و الجلوكوز داخل هذه التراكيب، حدد أى من هذه العبارات صحيحة

و أيها خطأ بالنسبة ل س و ص؟

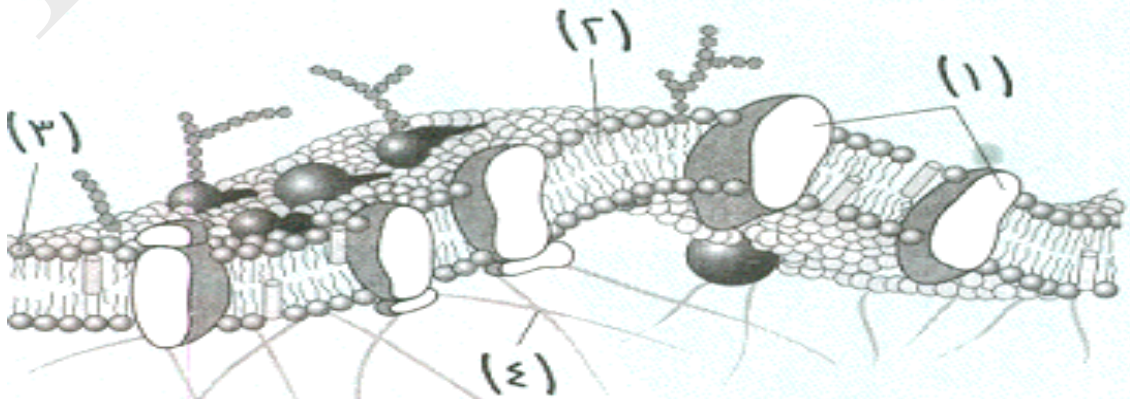
- سرعة أكسدة س للجلوكوز أكبر من سرعة أكسدة ص له. (.....)

- عند أكسدة الأحماض الدهنية فإن عدد جزيئات ATP التى تخرج من (س) يكون أقل من عدد جزيئات ATP التى تخرج من (ص). (.....)

- عدد جزيئات ATP الناتجة من أكسدة الأحماض الدهنية أكبر من عدد جزيئات ATP الناتجة من أكسدة الجلوكوز فى

كل من (س) و (ص). (.....)

### تأمل الشكل الاتى ثم أجب عن الأسئلة الاتية



٣٤٧ - رقم ..... يجعل الغشاء سليم و متماسك

(1- 2- 3- 4)

٣٤٨ - رقم ..... يجعل للغلاف طبيعة زيتية

(1- 2- 3- 4)

٣٤٩ - رقم ..... يجعل الخلية تتعرف على المواد الغذائية و الهرمونات

(1- 2- 3- 4)

٣٥٠ - رقم ..... ينتمى الى الليبيدات المشتقة

(1- 2- 3- 4)

٣٥١ - رقم ..... ينتمى الى الليبيدات المعقدة

(1- 2- 3- 4)

٣٥٢ - رقم ..... يتكون من مونيمرات تسمى الأحماض الأمينية

(1- 2- 3- 4)

٣٥٣ - رقم ..... يعمل كبوابات لدخول المواد من و إلى الخلية

(1- 2- 3- 4)

٣٥٤ - رقم 4 يمثل ..... (كوليسترول - بروتينات - جزء من هيكل الخلية - فوسفوليبيدات)

٣٥٥ - رقم ... يكسب الخلية دعامة تساعد فى الحفاظ على شكلها و قوامها و تعمل كمسارات للنقل فى الخلية (1- 2- 3- 4)

٣٥٦ - كل مما يأتى ينطبق على رقم 3 ما عدا أنها :

- توجد فى طبقتين - تتماسك بواسطة رقم 2 - جزؤها الخارجى كاره للماء - تجعل للغشاء طبيعة زيتية

٣٥٧ - كل مما يأتى ينطبق على رقم 2 ما عدا أنها :

- الليبيدات المشتقة - تجعل الغشاء يبدو سليم و متماسك - تربط بين رقم 3 - يدخل فى تركيبها فوسفور و نيتروجين.

٣٥٨ - كل مما يأتى من وظائف الغشاء البلازمى ماعدا .....

- يمنع انتشار البروتوبلازم خارج الخلية - ينظم مرور المواد من و إلى الخلية

- حماية الخلايا و اكسابها شكلاً مميزاً - يفصل محتويات الخلية عن الوسط المحيط بها

٣٥٩ - عند تحلل الغشاء البلازمى الى مكوناته الأولية فإن عنصر الفوسفور الناتج يكون مصدره .....

- البروتينات المطمورة - الدهون - الكوليسترول - الفوسفوليبيدات

٣٦٠ - تمر المواد عبر الغشاء البلازمى من خلال .....

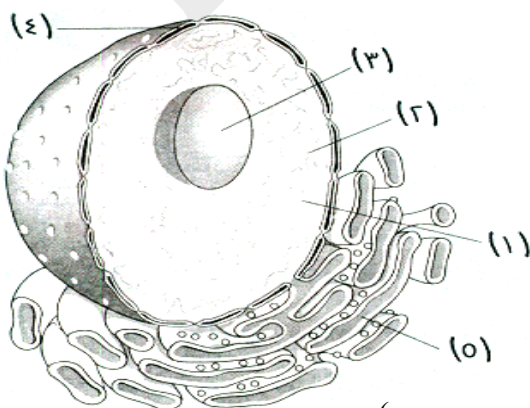
- طبقتى الفوسفوليبيدات - البروتينات المطمورة - جزيئات الكوليسترول - الثقوب الموجودة به.

٣٦١ - غياب الغشاء البلازمى عن الخلية النباتية يؤدى الى كل مما يأتى ماعدا .....

- انتشار البروتوبلازم خارج الخلية - عدم تحكم الخلية فى مرور المواد منها و إليها

- اختلاط محتويات الخلية بالوسط المحيط بها - لا يصبح للخلية شكل محدد

### تأمل الشكل الاتى ثم أجب عن الأسئلة الاتية



٣٦٢ ما البوليمرات التى يساهم الشكل رقم 3 فى تكوينها بشكل غير مباشر؟

(.....)

٣٦٣ ما العضيات التى يساهم التركيب رقم 3 فى تكوينها؟

(.....)

٣٦٤ ما الحمض النووى الذى يخرج من خلال التركيب رقم 4؟

(.....)

٣٦٥ ما العضى الذى يقوم بتصنيع التركيب رقم 4؟ (.....)

٣٦٦ يزداد عدد التركيب ..... فى خلايا الغدد التى تفرز الهرمونات و الانزيمات.

٣٦٧ يمثل التركيب رقم 1 .....

٣٦٨ يمثل التركيب رقم 2 .....

٣٦٩ يعتبر التركيب رقم 2 بروتين مرتبط بسبب ارتباط ..... بالأحماض الأمينية.

٣٧٠ الحمض النووى الذى يؤدى وظيفته داخل النواة قد يحتوى فى تركيبه على كل مما يأتى ماعدا: **(اختر)**

- سكر خماسى الكربون - القاعدة النيتروجينية ثايمين - مجموعة فوسفات - القاعدة النيتروجينية يوراسيل

٣٧١ أثناء انقسام الخلية يتحول التركيب رقم 2 إلى .....

٣٧٢ للتركيب رقم 5 نوعان كل نوع يقوم بتكوين أحد البوليمرات، ما النوعان و ما هى البوليمرات التى يكونها كل منهما.

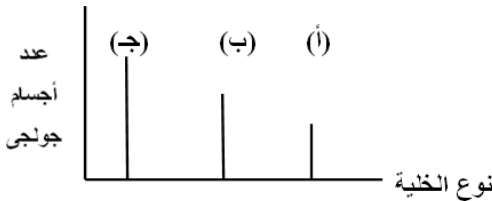
النوع الأول:

النوع الثانى:

### أجب عما يأتى

إذا كانت الغدد اللعابية تفرز اللعاب بشكل مستمر بينما لا تفرز خلايا المعدة الانزيمات إلا بعد تناول الطعام، بينما تتميز

الخلايا العصبية بإفراز محدود، لذلك فإن الخلايا الممثلة فى الشكل تكون:

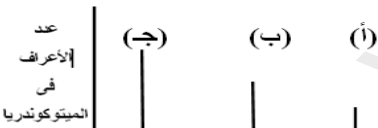


٣٧٣ - (.....) تمثل خلية المعدة.

٣٧٤ - (.....) تمثل خلية الغدة اللعابية.

٣٧٥ - (.....) يمثل الخلية العصبية.

٣٧٦ فى الشكل المقابل، أى الخلايا يمكن أن تمثل خلية عضلية



الاجابة (.....)

٣٧٧ - يوجد 3 أنواع من الحويصلات فى الخلية كل منها له اسم و وظيفة مختلفة عن الآخر ما اسم الحويصلات التى:

- تحمل الجزيئات التى تفرزها الشبكة الاندوبلازمية الى أجسام جولجي. (.....)

- تتكون بواسطة أجسام جولجي و تتجه إلى غشاء الخلية حيث تطردها الخلية كمنتجات إفرازية. (..... أو .....) (.....)

٣٧٨ - إذا علمت أن الكبد يقوم بالوظائف الآتية:

1- يحول المواد السامة إلى مواد أقل سمية

2- كما يخزن الجلوكوز على صورة جليكوجين

3- تتحلل فيه كرات الدم الحمراء الى مكوناتها الاولى.

أجب عن الأسئلة الآتية:

٣٧٩ - ما العضى الذى يساعد الكبد على أداء الوظائف 1 و 2.

٣٨٠ - ما العنصر الذى يتوافر فى الكبد نتيجة الوظيفة رقم 3.



### التعضى فى الكائنات الحية:

تتكون أجسام الكائنات الحية مثل جسم الانسان من:

العديد من الأجهزة التى تتكامل و تنتظم معاً مكونة الجسم.

مثال: الجهاز الدورى و الجهاز الهيكلى و الجهاز الهضمى و الجهاز العصبى و ..... و .....

**الجهاز:** يتكون من مجموعة من الأعضاء التى تعمل معاً لأداء وظيفة معينة.

مثال: الجهاز الدورى الذى يتكون من القلب و الأوعية الدموية و الدم .

**العضو:** عبارة عن مجموعة من الأنسجة التى تتضافر مع بعضها لتؤدى وظيفة معينة.

مثال: القلب الذى يتكون من نسيج عضلى و نسيج عصبى و نسيج ضام حيث تتعاون هذه الأنسجة ليؤدى القلب وظيفته فى ضخ الدم الى كافة أجزاء الجسم.

**النسيج:** هو مجموعة من الخلايا المتخصصة التى تنتظم مع بعضها لتؤدى وظيفة معينة.

مثال: الخلايا العضلية القلبية تنتظم مع بعضها لتكون النسيج العضلى لجدار القلب.

### أنواع الأنسجة:

١ - الأنسجة البسيطة :- هى الأنسجة التى تتكون من نوع واحد من الخلايا المتماثلة فى الشكل و التركيب و الوظيفة.

٢ - الأنسجة المركبة :- هى الأنسجة التى تتكون من أكثر من نوع من الخلايا.

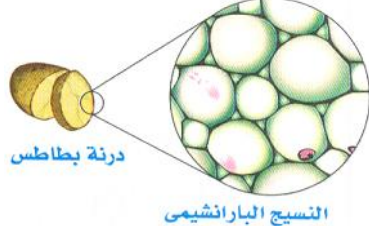
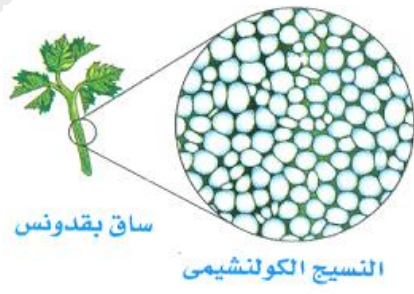
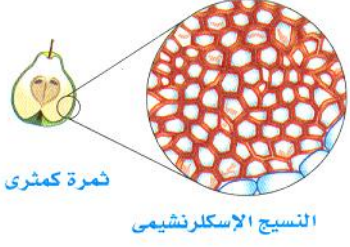
- سيتم خلال هذا الفصل دراسة الأنسجة النباتية و الأنسجة الحيوانية:

### أولاً: الأنسجة النباتية

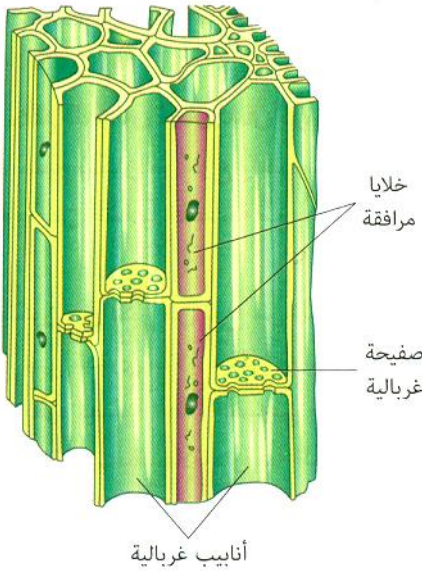
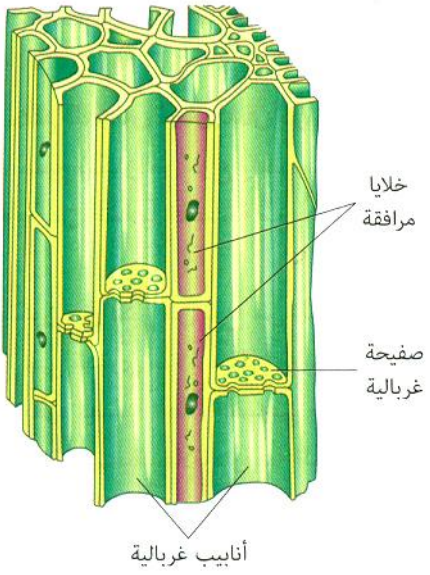
#### تنقسم الى:

1- الأنسجة البسيطة (النسيج البرانشيى و النسيج الكولنشيمى و النسيج الاسكلرنشيمى )

2- الأنسجة المركبة مثل الأنسجة الوعائية التى تنقسم الى الخشب و اللحاء.

نوع النسيج	التركيب	الوظيفة
النسيج البارانشيمي	<p>نسيج حي، تتميز خلاياه بما يأتي:</p> <ul style="list-style-type: none"> <li>-بيضاوية أو مستديرة ذات جدران رقيقة و مرنة.</li> <li>-بينها فراغات للتهوية (مسافات بينية).</li> <li>-تحتوى على بلاستيدات خضراء أو ملونة أو عديمة اللون.</li> <li>-تحتوى على فجوة عسارية واحدة كبيرة أو أكثر ممتلئة بالماء و الأملاح المعدنية.</li> </ul> 	<ul style="list-style-type: none"> <li>-القيام بعملية البناء الضوئي (لاحتوائه على البلاستيدات الخضراء) .</li> <li>-التهوية (لوجود الفراغات بين الخلايا).</li> <li>-اختزان المواد الغذائية (مثل النشا) .</li> </ul>
النسيج الكولنشيمي (النسيج اللين)	<ul style="list-style-type: none"> <li>• نسيج حي تتميز خلاياه بما يأتي:</li> <li>- مستطيلة الشكل بعض الشيء .</li> <li>- جدرانها مغلظة بمادة السليلوز تغليظاً غير منتظم.</li> <li>• أماكن تواجده: كما في ساق البقدونس</li> <li>• يسمى النسيج اللين.</li> </ul> 	<ul style="list-style-type: none"> <li>- يدعم النبات .</li> <li>- يكسب النبات الليونة المناسبة .</li> </ul> 
النسيج الاسكلرنشيمي (النسيج الصلب)	<ul style="list-style-type: none"> <li>• نسيج غير حي تتميز خلاياه بأنها:</li> <li>- مغلظة الجدر بمادة اللجنين بالإضافة الى مادة السليلوز.</li> <li>• أماكن تواجده: كما في ثمرة الكمثرى</li> </ul>	<ul style="list-style-type: none"> <li>- يقوى النبات و يدعمه .</li> <li>- يكسب النبات الصلابة و المرونة .</li> </ul>

## ثانياً : الأنسجة المركبة

نسيج الخشب	نسيج اللحاء
<p><b>تركيبه:</b> يتركب من أوعية و قصيبات و برانشيم الخشب.</p> <p><b>الأوعية:</b> أنابيب مجوفة يتكون كل منها من صف رأسى من الخلايا المتصلة التى تلاشى منها البروتوبلازم ثم الجدر العرضية ثم ترسبت مادة اللجنين على جدرانها من الداخل لتصبح أوعية واسعة طويلة.</p> <p>- يتراوح طولها بين سنتيمترات الى عدة أمتار .</p> <p><b>القصيبات:</b> يتكون كل منها من خلية واحدة تلاشى منها البروتوبلازم و تغلظت جدرانها بمادة اللجنين.</p> <p><b>وظيفته:</b> - تدعيم النبات .</p> <p>- نقل الماء و الأملاح من الجذر الى الساق و الأوراق.</p>	<p><b>تركيبه:</b> يتركب من أنابيب غربالية و خلايا مرافقة .</p> <p><b>الأنابيب الغربالية:</b> تنشأ من خلايا متراسة رأسياً فوق بعضها تلاشت منها الأنوية و تفصلها عن بعضها جدر مثقبة تسمى <b>الصفائح الغربالية</b> التى يمر من خلالها خيوط سيتوبلازمية.</p> <p><b>الخلايا المرافقة:</b> هى خلايا حية توجد بجوار الأنابيب الغربالية و لتزودها بالطاقة اللازمة للقيام بوظائفها.</p> <p><b>وظيفته:</b> نقل نواتج عملية البناء الضوئى من الأوراق الى أجزاء النبات الأخرى .</p>
 <p>خلايا بارانشيمية قصيبات أوعية</p>	 <p>خلايا مرافقة صفحة غربالية أنابيب غربالية</p>

## ثانياً: الأنسجة الحيوانية

تنقسم إلى:

- ١ - الأنسجة الطلانية.
- ٢ - الأنسجة الضامة.
- ٣ - الأنسجة العضلية.
- ٤ - الأنسجة العصبية.

## أولاً : الأنسجة الطلائية:

### الوصف:-

يتكون النسيج الطلائي من خلايا متلاصقة تماماً يربط بينها مادة خلالية قليلة .

### أماكن تواجده:

تغطي سطح الجسم من الخارج أو تبطن تجاويفه من الداخل .

**وظائف النسيج الطلائي:** يقوم بوظائف مختلفة تبعاً لمكان تواجده في الجسم.

- ١ - امتصاص الماء و الأملاح و الغذاء المهضوم (كما في بطانة القناة الهضمية)
- ٢ - وقاية الخلايا التي تكسوها من الأذى و الجفاف و الميكروبات (كما في بشرة الجلد)
- ٣ - إفراز المخاط لحفظ التجاويف التي يبطنها رطبة ملساء (كما في القناة الهضمية و القصبة الهوائية)

### أنواعها (من حيث الشكل و البنية):

- ١ **نسيج طلائي بسيط** تنتظم خلاياه في طبقة واحدة (حرشفي بسيط – مكعبى بسيط – عمادى بسيط)
- ٢ **نسيج طلائي مركب** تنتظم خلاياه في عدة طبقات (حرشفي مصفف)

### أمثلة للأنسجة الطلائية البسيطة :

طلائى عمادى بسيط	طلائى مكعبى بسيط	طلائى حرشفى بسيط
طبقة واحدة من خلايا عمادية . مثال :- بطانة المعدة و الأمعاء .	- طبقة واحدة من خلايا مكعبة . مثال :- بطانة أنيبويات الكلية .	- طبقة واحدة من خلايا مفلطحة . مثال :- بطانة الشعيرات الدموية . - جدار الحويصلات الهوائية فى الرئتين .
		
النسيج العمادى البسيط	النسيج المكعبى البسيط	النسيج الحرشفى البسيط

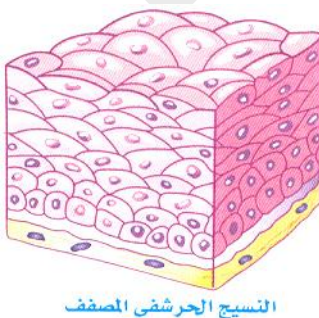
### أمثلة للأنسجة الطلائية المركبة

### - النسيج الحرشفى المصفف:-

يتكون من عدة طبقات من الخلايا المتراسة فوق بعضها البعض.

الطبقة السطحية من هذه الخلايا تكون حرشفية .

- مثال : النسيج الطلائي الذى يغطي بشرة الجلد .



## ثانياً: الأنسجة الضامة:

### الوصف:

- يتكون من خلايا متباعدة نوعاً ما و مغموسة في مادة بينية أو خلوية، قد تكون هذه المادة سائلة أو صلبة أو شبه صلبة .

### أنواعها:

تقسم الأنسجة الضامة تبعاً لنوع المادة الموجودة بين الخلايا الى ثلاثة أنواع هي (النسيج الضام الأصيل - النسيج الضام الهيكلى - النسيج الضام الوعائى)

النسيج الضام الوعائى	النسيج الضام الهيكلى	النسيج الضام الأصيل
<p>- المادة الموجودة بين الخلايا تكون سائلة .</p> <p><b>* وظيفته:</b></p> <p>نقل الغذاء المهضوم و الغازات و المواد الإخراجية .</p> <p><b>أمثلة:</b> الدم و - الليمف .</p>	<p>- المادة الموجودة بين الخلايا تكون صلبة و يترسب فيها الكالسيوم كما فى حالة العظام .</p> <p><b>* وظيفته:</b></p> <p>تدعيم الجسم .</p> <p><b>أمثلة:</b> العظام و الغضاريف .</p>	<p>- أكثر الأنسجة الضامة انتشاراً .</p> <p>- يجمع بين درجة متوسطة من الصلابة و درجة كبيرة من المرونة .</p> <p><b>* وظيفته:</b></p> <p>يربط أنسجة و أعضاء الجسم المختلفة مع بعضها .</p> <p><b>أمثلة:</b> - أدمة الجلد توجد تحت بشرة الجلد .</p> <p>- المسار بقاءه، الجهاز الهضمي .</p>
 <p>النسيج الضام الوعائى (الدم)</p>	 <p>النسيج الضام الهيكلى (العظم)</p> <p>النسيج الضام الهيكلى (الغضروف)</p>	 <p>النسيج الضام الأصيل (أدمة الجلد)</p>

## ثالثاً: الأنسجة العضلية:

### الوصف:

- تعرف خلاياه بالخلايا أو الألياف العضلية .

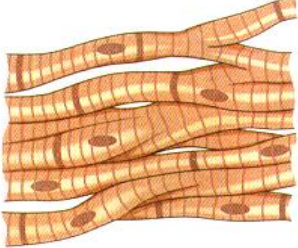
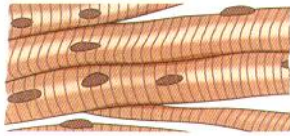
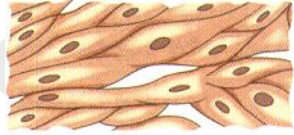
- تتميز خلاياه بقدرتها على الانقباض و الانبساط مما يمكن الكائن الحي من الحركة .

### أنواعها:

توجد ثلاثة أنواع من الأنسجة العضلية:

- العضلات الملساء .
- العضلات القلبية .
- العضلات الهيكلية .



العضلات القلبية	العضلات الهيكلية	العضلات الملساء
<p>- أليافها لا إرادية - مخططة .</p> <p>* توجد بجدار القلب فقط .</p> <p>- تحتوى العضلات القلبية على <b>الأقراص البينية</b> التى تربط بين الألياف العضلية و تجعل القلب ينبض بصورة متزنة كوحدة وظيفية واحدة .</p>	<p>- أليافها إرادية - مخططة .</p> <p>* توجد متصلة بالهيكل العظمى</p> <p>مثال : عضلات اليدين و الرجلين و الجذع .</p>	<p>- أليافها لا إرادية - غير مخططة</p> <p>* توجد فى : جدار القناة الهضمية - المثانة البولية - الأوعية الدموية .</p>
 <p>الألياف العضلية القلبية</p>	 <p>الألياف العضلية الهيكلية</p>	 <p>الألياف العضلية الملساء</p>

#### رابعاً: الأنسجة العصبية:

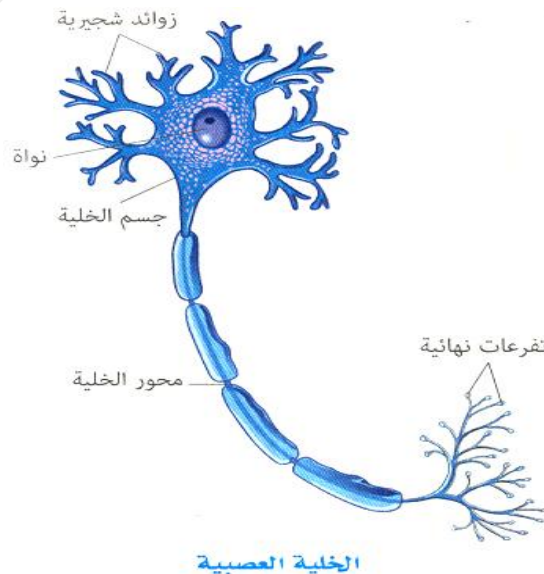
##### الوصف:

تتكون الأنسجة العصبية من خلايا عصبية و تعتبر هذه الخلايا هى وحدة التركيب و الوظيفة للجهاز العصبى .

##### الوظيفة:

تعتبر الأنسجة العصبية مسئولة عن تنظيم الأنشطة المختلفة لأعضاء الجسم (علل) و ذلك لأنها متخصصة فى :-

- 1 - استقبال المؤثرات الحسية (الداخلية كالجوع و العطش) و الخارجية (كالحساسات الجلدية العامة) و توصيلها الى المخ و الحبل الشوكى .
- 2 - نقل الأوامر الحركية من المخ أو الحبل الشوكى الى أعضاء الاستجابة (العضلات و الغدد) .



## أجب عن الأسئلة الآتية

### اختر الإجابة الصحيحة

- ٣٨١ - غشاء مزدوج يقوم بفصل النواة عن السيتوبلازم .....  
الغشاء البلازمي - الجدار الخلوي - الغشاء النووي - غشاء المساريقا
- ٣٨٢ - غياب عنصر الفوسفات عن الشبكة الاندوبلازمية الملاء يؤدي الى عدم قدرتها على صنع .....  
الزيوت - الدهون - الكوليسترول - الفوسفوليبيدات
- ٣٨٣ - كل مما يأتي ينتقل من الشبكة الاندوبلازمية الملاء الى الشبكة الاندوبلازمية الخشنة لتقوم بصنع الأغشية الجديدة .....  
الكوليسترول فقط - البروتينات فقط - الفوسفوليبيدات و الكوليسترول - جميع ما سبق
- ٣٨٤ - ..... لا يتم صنعها في الريبوسومات.  
هرمونات الاسترويدات - هرمونات الغدة الدرقية - انزيمات الليسوسومات - انزيمات الهضم.
- ٣٨٥ - خطوات تكوين الانزيمات التي توجد داخل الليسوسومات:  
الشبكة الاندوبلازمية الخشنة - الريبوسومات - أجسام جولجي - الليسوسوم.  
الريبوسومات - الشبكة الاندوبلازمية الخشنة - أجسام جولجي - الليسوسوم.  
الشبكة الاندوبلازمية الملاء - الريبوسومات - أجسام جولجي - الليسوسوم.  
الشبكة الاندوبلازمية الملاء - أجسام جولجي - الريبوسومات - الليسوسوم.
- ٣٨٦ - البلاستيدات التي توجد في بتلات الأزهار و الثمار تحتوى على . . (كاروتين - كروماتين - كلوروفيل - زانثوفيل)
- ٣٨٧ - البلاستيدات التي توجد في أوراق الكرنب الداخلية تحتوى على .....  
(كروماتين - كاروتين - كلوروفيل - لا توجد اجابة صحيحة)
- ٣٨٨ - البلاستيدات التي لا تقوم بعملية البناء الضوئي هي .....  
(الليكو بلاست و الكلوروبلاست و الكروموبلاست - الكروموبلاست و الليكو بلاست - جميع ما سبق)
- ٣٨٩ يتكون الغشاء البلازمي من .....  
(طبقتين من السليلوز - طبقتين من الفوسفوليبيدات - طبقة واحدة من الفوسفوليبيدات)
- ٣٩٠ أوضح عضيات الخلية تميزاً تحت المجهر هي .....  
(الليسوسوم - الجسم المركزي - النواة - جهاز جولجي)
- ٣٩١ -... هو التركيب الخلوي المسئول عن تصنيع البروتين في الخلية.  
(الميتوكوندريا - الجسم المركزي - الريبوسومات - الشبكة الاندوبلازمية)
- ٣٩٢ تختص البلاستيدات الخضراء في الخلية النباتية ب .....  
(القيام بعملية البناء الضوئي - انتاج الطاقة - افراز البروتين)
- ٣٩٣ - ..... عضيات غير غشائية لا توجد في الخلايا الحيوانية. (البلاستيدات - الجسم المركزي - الميتوكوندريا - جهاز جولجي)
- ٣٩٤ يوجد الجسم المركزي في الخلايا الحيوانية ماعدا الخلايا .....  
(العضلية - العصبية - الطلائية - العظمية)
- ٣٩٥ تشترك الخلية النباتية و الخلية الحيوانية في وجود .....  
(البلاستيدات الخضراء - السنتروسوم - الجدار الخلوي - النواة)
- ٣٩٦ يمكن تكبير الخلية مليون مرة ضعف حجمها الأصلي باستخدام ..  
(الميكروسكوب الضوئي - الميكروسكوب الإلكتروني - العدسات)
- ٣٩٧ جميع الوظائف الآتية تشارك فيها الشبكة الاندوبلازمية ماعدا .....  
(الميكروسكوب الضوئي - الميكروسكوب الإلكتروني - العدسات)



(بناء البروتين- تكوين إفرازات الخلية - إنتاج الطاقة - التوصيل بين أجزاء الخلية)

٣٩٨ كل مما يأتي يوجد فى الخلية النباتية ماعدا ..... (الميتوكوندريا - الجسم المركزى - الليسوسومات - الشبكة الإندوبلازمية)

٣٩٩ كل مما يأتي يوجد فى الخلية الحيوانية ماعدا ..... .

(الشبكة الإندوبلازمية - الميتوكوندريا - الليسوسومات - البلاستيدات الخضراء)

٤٠٠ النسيج المسئول عن التهوية فى النبات هو النسيج ..... . (الكولنشيمى - البارانشيمى - الإسكلرنشيمى - الخشب)

٤٠١ ..... مسئول عن تكوين خيوط المغزل أثناء انقسام الخلية فى النبات.

(السيوبلازم - السنتريولان - السنتروسوم - الريبوسومات)

٤٠٢ عالم اخترع الميكروسكوب البسيط ويرجع له الفضل فى اكتشاف الخلية ..... .

(فان ليفينهوك - روبرت هوك - شلايدن - تيودور شوان)

٤٠٣ العضيات المسئولة عن تصنيع البروتين فى الخلية هى ..... . (الليسوسومات - الريبوسومات - السنتروسوم - النواة)

٤٠٤ يدخل ..... فى تكوين الأهداب و الأسواط فى بعض الخلايا. (الليسوسوم - الجسم المركزى - الغشاء الخلوى - جهاز جولجى)

٤٠٥ يزداد عدد الليسوسومات فى ..... . (خلايا الدم البيضاء - خلايا الجلد - العضلات - الخلايا العصبية)

٤٠٦ الخلية ..... تحتوى على نواة. (المرافقة - الغربالية - الخشب)

٤٠٧ النسيج المسئول عن توصيل الماء و الأملاح فى النبات هو نسيج ..... . (اللحاء - البارانشيم - الخشب)

٤٠٨ يوجد النسيج الحرشفى المصفف فى ..... . (بشرة الجلد - بطانة المعدة - بطانة الشريان - بطانة أنيببيات الكلية)

٤٠٩ حبيبات صغيرة يكثر وجودها على السطح الخارجى للشبكة الاندوبلازمية الخشنة ... .

(الريبوسومات - السنتروسوم - حبيبات النشا)


٤١٠ النسيج الإسكلرنشيمى مغلف بمادة ..... . (السليولوز - اللجنين - السيوبرين - الكيوتين)

٤١١ تعمل ..... على خفض طاقة التنشيط للتفاعل الكيميائى. (الانزيمات - الاحماض النووية - الدهون - الهرمونات)

٤١٢ تتكون العضلات ..... من ألياف عضلية لإرادية غير مخططة (القلبية - الهيكلية - الملساء - الإرادية)

## الأنبوبة التى أمامك تحتوى على عينة من الدم، إذا علمت أن المادة بين الخلوية فى

### الدم هى البلازما التى أجب عن الأسئلة



٤١٣ ما نوع النسيج الذى ينتمى إليه الدم؟ (.....)

٤١٤ ما طبيعة المادة بين الخلوية فى هذا الدم؟ (.....)

٤١٥ إذا كانت المادة بين الخلوية فى النسيج صلبة فانه يسمى (.....)

٤١٦ إذا كانت المادة بين الخلوية فى النسيج شبه صلبة فانه يسمى (.....)

٤١٧ يوجد فى الجسم نسيج آخر ينتمى لنفس نوع نسيج الدم فما هو؟ (.....)

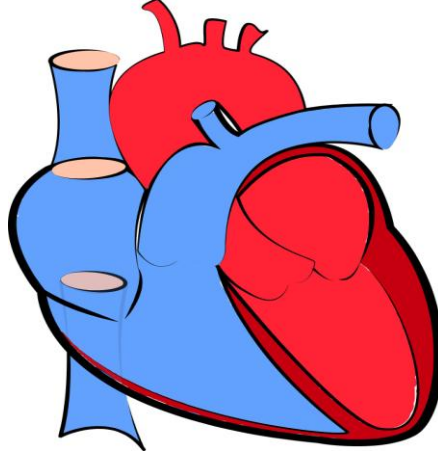
٤١٨ تحتوى البلازما على أنواع عديدة من البروتينات، ما البروتين الذى إذا تحلل يعطى أحماض أمينية فقط؟ (.....)

٤١٩ إذا وضعت مادة تعمل على تحلل أغشية خلايا الدم و تحرير مكوناتها الى البلازما فإن:

- عنصر الحديد يتحرر من ..... . (مكونات البلازما - كرات الدم الحمراء - كرات الدم البيضاء)

- انزيمات هاضمة للبكتريا ..... . (مكونات البلازما - كرات الدم الحمراء - كرات الدم البيضاء)

## الشكل الذى أمامك يمثل القلب، أجب عن الأسئلة الآتية



### إستخدم الكلمات الآتية لمأ الفراغات مكان النقط

الأقراص البينية - الانقباض - الانبساط - الليسوسومات - الهيكلية - هيموجلوبين - لإرادية - الوعائى - العضلية - الألبومين - الهيكلى - الملساء - العضلية - الانزيمات - الحمراء - البيضاء - مخططة - إرادية - السنتروسوم - الدورى - الضام - البيضاء - الميتوكوندريا - العضلى.

٤٢٠ - يدخل فى تركيب القلب ثلاثة أنسجة هى النسيج ..... و ..... و .....

٤٢١ - ينتمى القلب الى الجهاز .....

٤٢٢ - النسيج الضام الذى يمر داخل القلب من النوع .....

٤٢٣ - تتميز الألياف العضلية المكونة له عن غيرها من الألياف باحتوائها على .....

٤٢٤ - تتميز العضلات القلبية بأنها ..... و .....

٤٢٥ - البروتين الذى يوجد فى البلازما هو ..... بينما البروتين الذى يوجد فى كرات الدم الحمراء هو .....

٤٢٦ - الخلايا العصبية فى النسيج العصبى بالقلب لا تنقسم لعدم احتوائها على .....

٤٢٧ - تتميز خلايا الدم البيضاء باحتوائها على عدد كبير من ..... مما يساعدها فى مقاومة الامراض.

٤٢٨ - الخلايا التى تحتوى على أكبر قدر من الميتوكوندريا فى القلب هى الخلايا .....

٤٢٩ - ترجع قدرة القلب على الانقباض و الانبساط لوجود النسيج .....

٤٣٠ - ينقبض القلب كوحدة واحدة بسبب احتواء ألياف العضلات المكونة له على .....

٤٣١ - يوجد نوعان من العضلات غير العضلات القلبية و هى العضلات ..... التى يتكون منها جدر

الأوعية الدموية و العضلات ..... التى تتصل بالعظام.

ما الذى يحدث فى الحالات الآتية:

٤٣٢ - غياب الأقراص البينية من العضلات القلبية:

.....  
.....

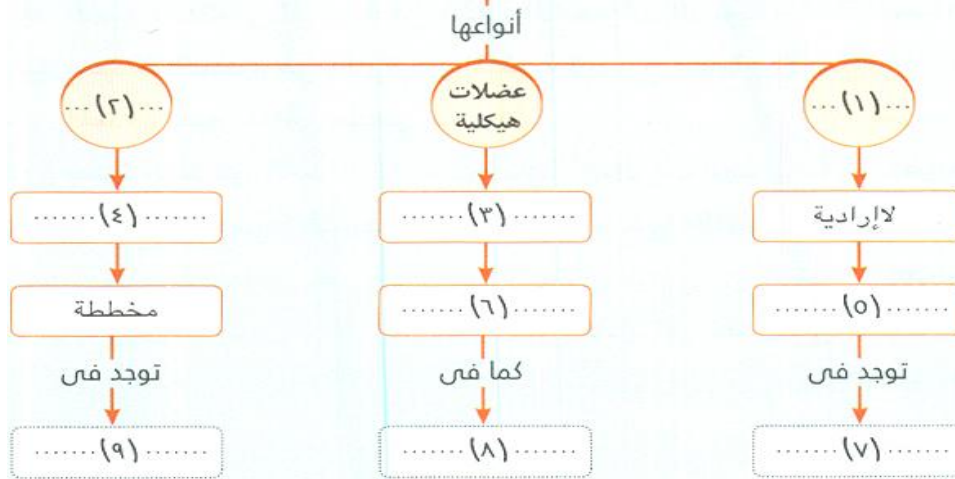
## ضع مكان النقط البيانات المناسبة في كل شكل مما يأتي

### الأنسجة الضامة



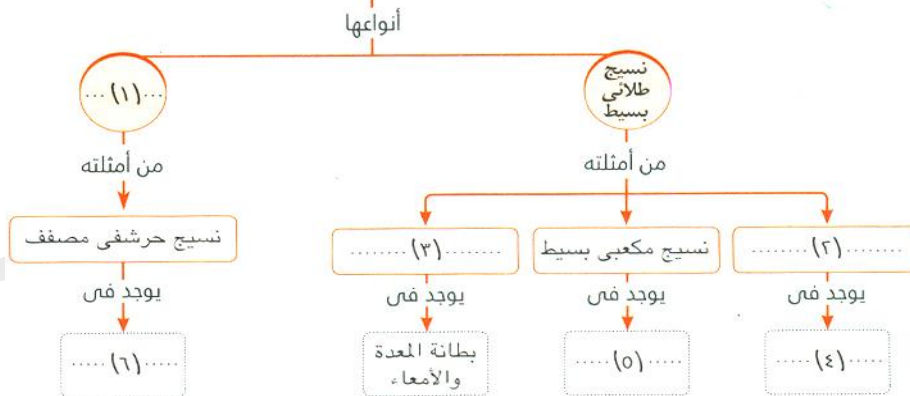
٤٣٣ الشكل الأول

### الأنسجة العضلية



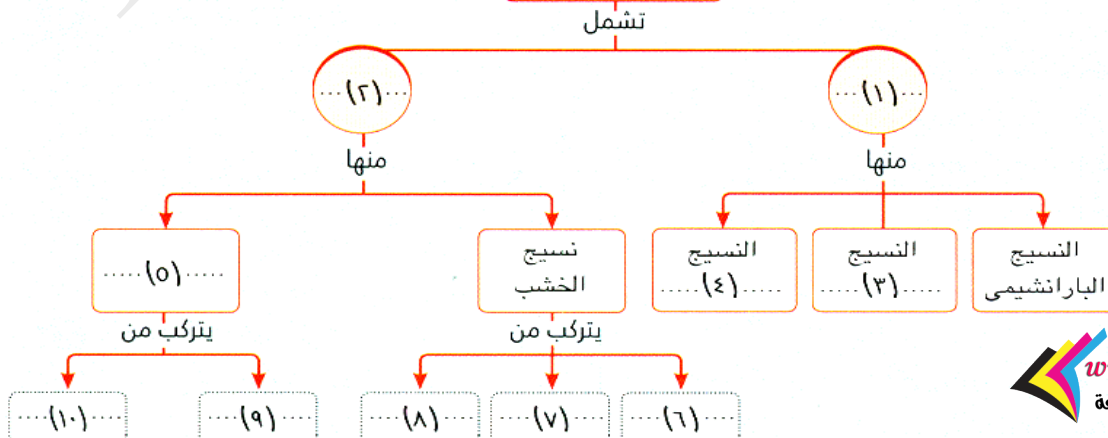
٤٣٤ الشكل الثاني

### الأنسجة الطلائية

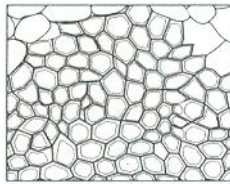


٤٣٥ الشكل الثالث


### الأنسجة النباتية



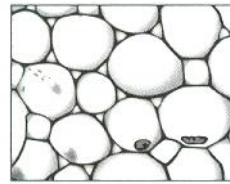
٤٣٦ الشكل الرابع



(٣)



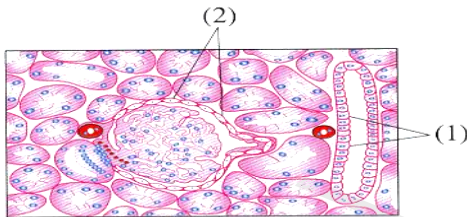
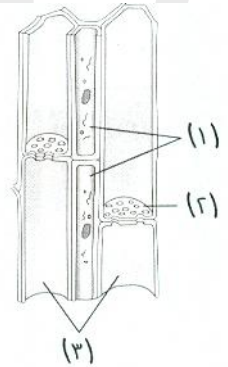
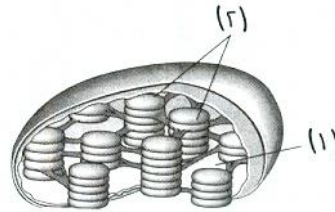
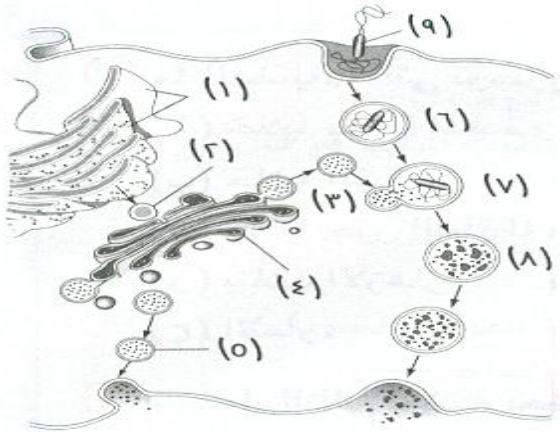
(٢)



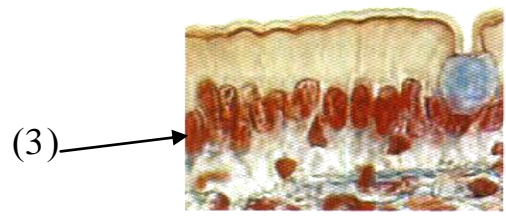
(١)

أكتب اسم كل نسيج و وظيفته بالنسبة للنبات

٤٣٨ أكمل البيانات على الأشكال الآتية



(A)



(B)

إذا كان الشكل A قطاع فى الكلية و الشكل B قطاع فى جدار الأمعاء:

٤٣٩ - ما النسيج الذى تمثله الخلايا 1:

٤٤٠ - ما النسيج الذى تمثله الخلايا 2:

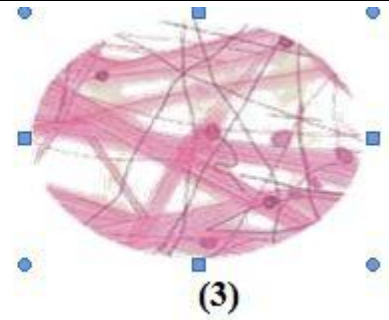
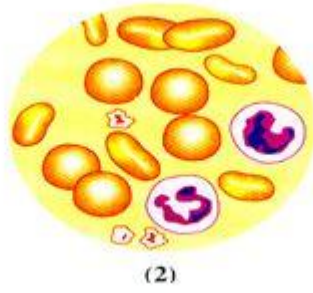
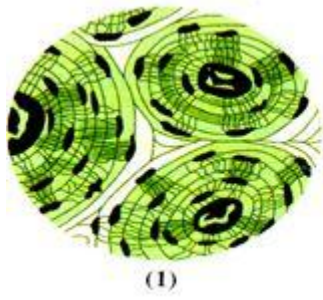
٤٤١ - ما النسيج الذى تمثله الخلايا 3:

٤٤٢ - تشترك الأنسجة الثلاثة فى صفة واحدة و هى أنها تتكون من .....

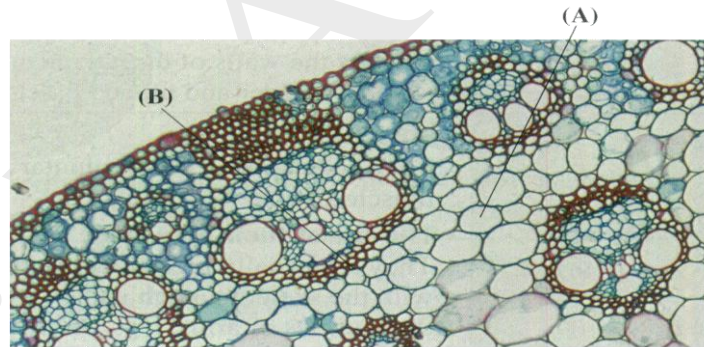
٤٤٣ - يوجد نوع من الأنسجة يتفق مع هذه الأنسجة الثلاث فى نوعها و يختلف عنها فى عدد صفوف الخلايا: .....

٤٤٤ - ما هى الوظائف الأساسية التى يقوم بها النسيج العام الذى يضم هذه الأنواع الأربعة:





- ٤٤٥ - النسيج رقم 1 هو ..... و المادة الخلالية فيه مادة .....
- ٤٤٦ - النسيج رقم 2 هو ..... و المادة الخلالية فيه مادة .....
- ٤٤٧ - النسيج رقم 3 هو ..... و المادة الخلالية فيه مادة .....
- ٤٤٨ - يقع النسيج رقم 3 فى ..... و يوجد أسفل النسيج .....
- ٤٤٩ - النسيج رقم 1 يضم ..... الذى يترسب فيه الكالسيوم كما يضم ..... أيضاً.
- ٤٥٠ - يضم نوع الأنسجة رقم 2 نسيج آخر يقوم بعملية النقل هو .....
- ٤٥١ - تحتوى المادة الخلالية فى النسيج رقم 2 على بروتين بسيط هو ..... كما تحتوى بعض خلاياه على بروتين مرتبط يحتوى على عنصر الحديد هو .....



Slide (2)

- ٤٥٢ - ما نوع الخلايا A و الخلايا B
- ٤٥٣ - أى النسيجين خلاياه ميتة.
- ٤٥٤ - أى النسيجين يمكن أن يحتوى على بلاستيدات خضراء.