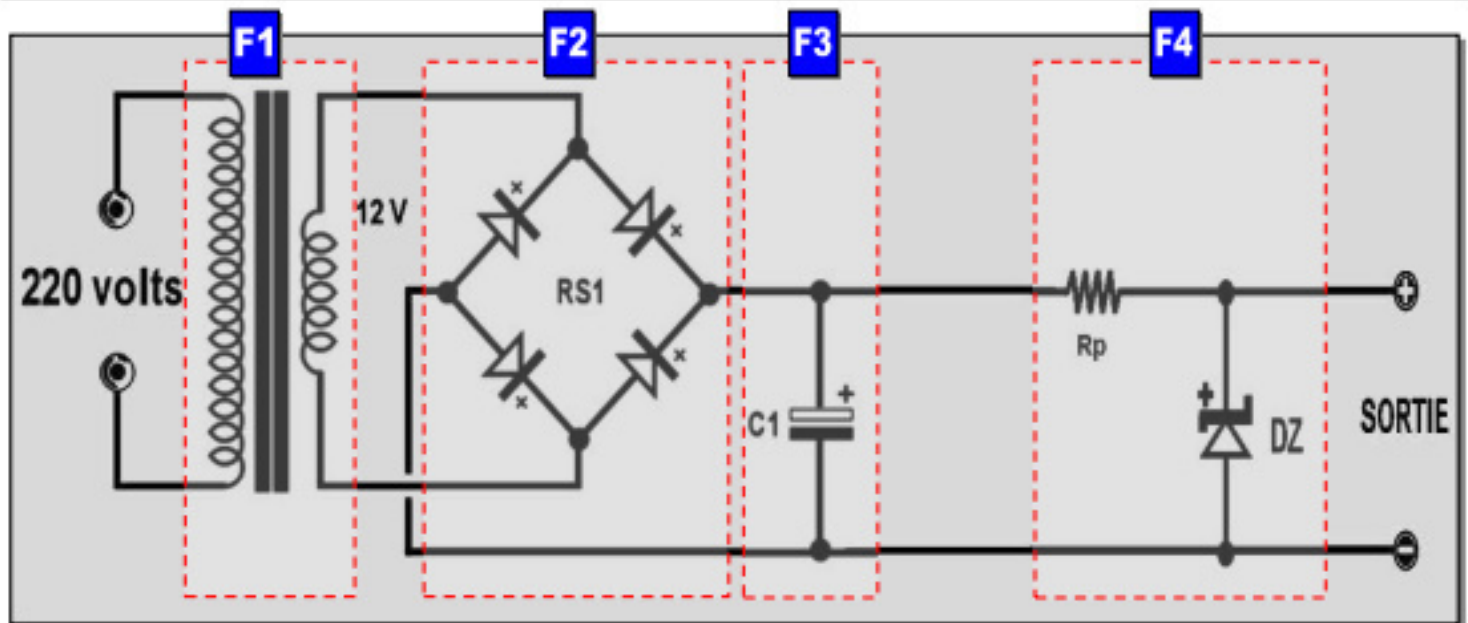


Système : Alimentation stabilisée

Mise en situation :

On donne le schéma du montage d'une alimentation stabilisée ayant les caractéristiques suivantes : 220V(AC)-50Hz/12V(DC)



I- FONCTIONS ELECTRONIQUES

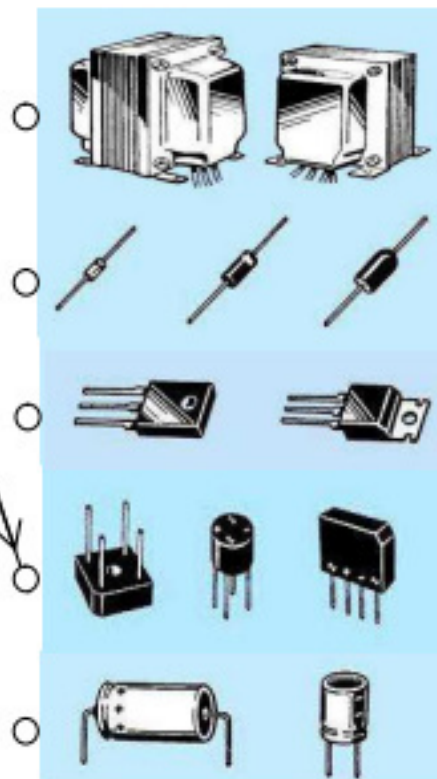
Travail demander :

1- Donner le nom et le rôle de chaque composant et chercher sa photo

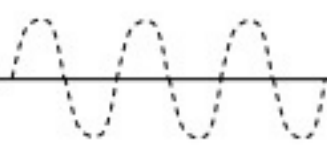

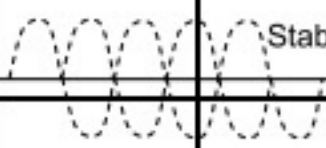

Barème

2pts

Nom	Symbole
Pont de diodes (GRAETZ)	



2- Donner le nom de chaque fonction puis tracer sa courbe de sortie

F1	F2	F3	F4
Fonction :	Fonction :	Fonction :	Fonction :
Signal de sortie : 	Signal de sortie : 	Signal de sortie : 	Signal de sortie : 

2pts

3- FONCTION

REDRESSEMENT

On donne le schéma du redressement suivant :

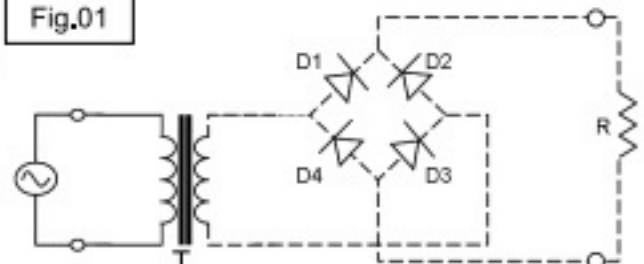
a- C'est un redressement :

(Mettre une croix)

Simple alternance

Double alternance

Fig.01



0.5pt

0.5pt

b- Tracer (sur la fig. 01) le passage du courant pendant l'alternance (+) (seulement)

c- compléter la phrase suivante :

➡ Pendant l'alternance (+): Les diodes :, conduisent. Et les diodes :bloquées.

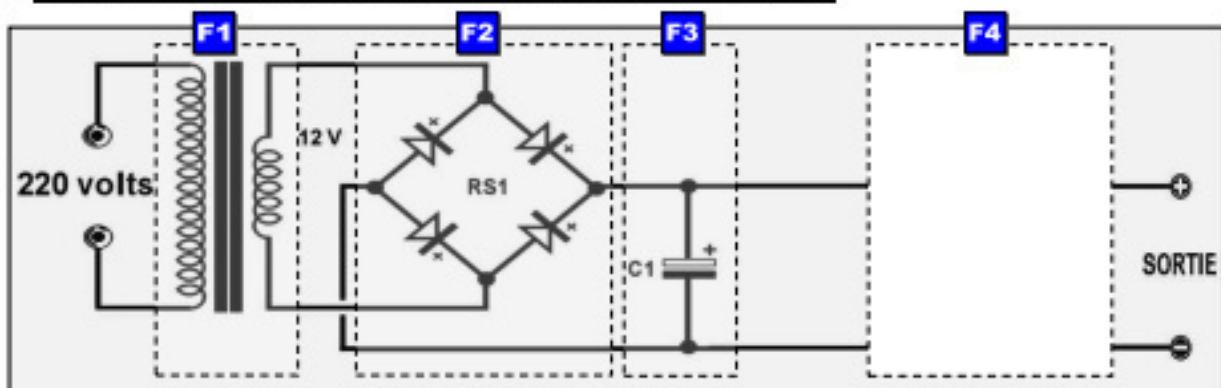
0.5pt

4- FONCTION STABILISATION

a- Donner le nom d'un autre composant qui peut réaliser la même fonction F4 :

.....

b- Compléter le schéma ci-dessous avec ce composant :



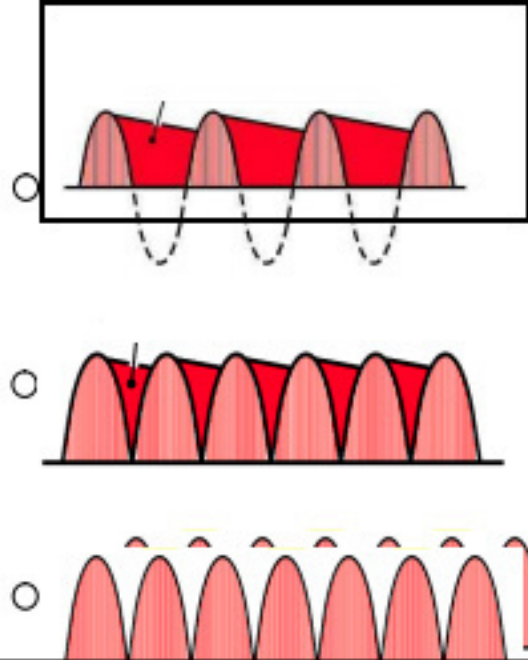
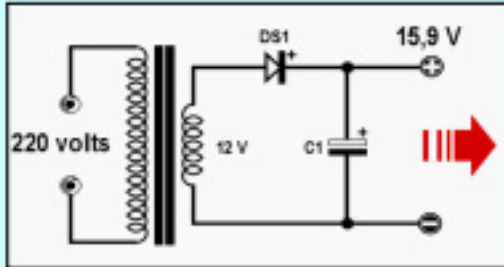
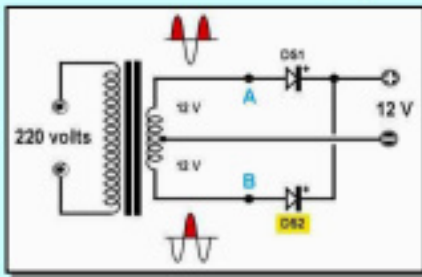
1pt

5- Relier par une flèche chaque montage par son signal de sortie

1pt

Signal

Schéma du montage



Nom :

Prénom :

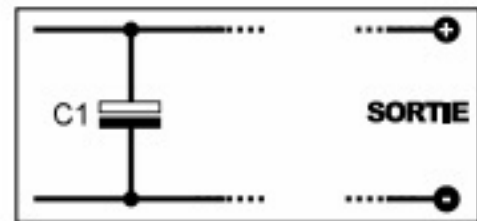
II- CONTRÔLE DES GRANDEURS ÉLECTRIQUES

On veut vérifier la tension (12V) à la sortie :

a- Notre appareil de mesure est un :

Ampèremètre (analogique)	
Voltmètre (analogique)	
Ampèremètre (numérique)	
Voltmètre (numérique)	

(Mettre une croix)



b- Choisir le calibre adéquat. (encercler sur l'appareil)

c- Pour mesurer la tension aux bornes de R
On branche l'appareil : (Mettre une croix)

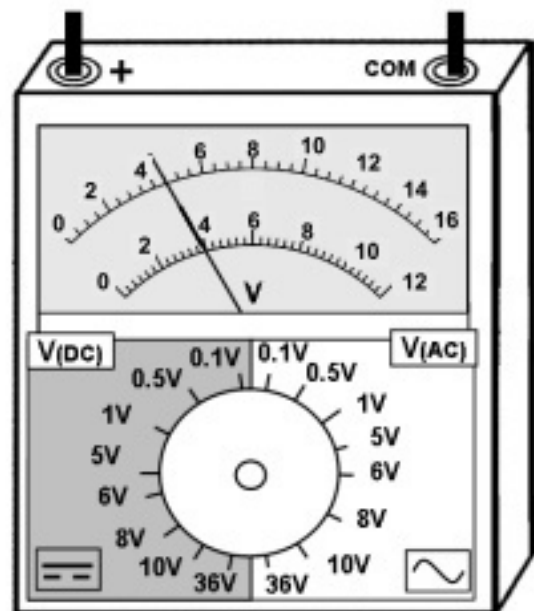
En série ☐

En parallèle ☐

d- Brancher l'appareil avec la fig. ci-dessus.
(Relier par des traits)

e- Écrire la formule puis calculer la
valeur de cette tension :

Valeur = =

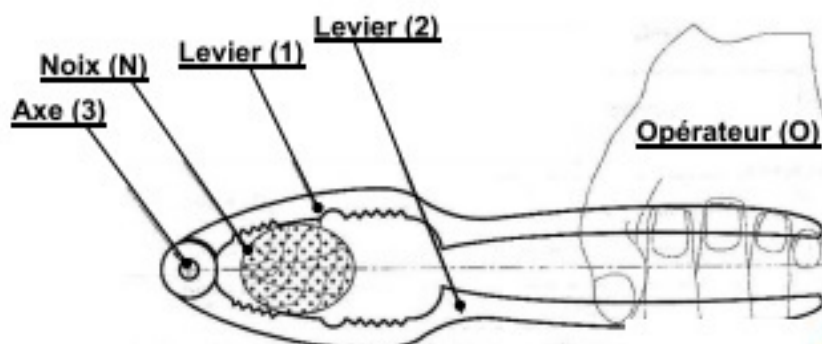


III- SOLLICITATION :

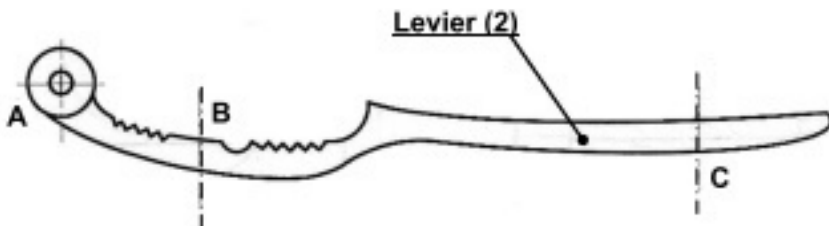
Système : CASSE NOIX :

Mise en situation :

Le système casse-noix permet de briser la coque des noix, noisette.... manuellement.



1- Compléter le tableau ci-dessous

Forces extérieures		Bilan des forces				
		Forces	•	/	↑	\vec{F}
		\vec{F}	•	/	↑	\vec{F}
		\vec{F}	•	/	↑	\vec{F}

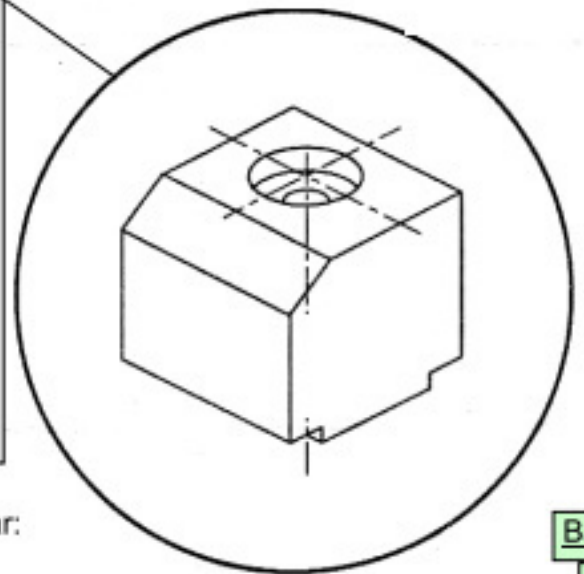
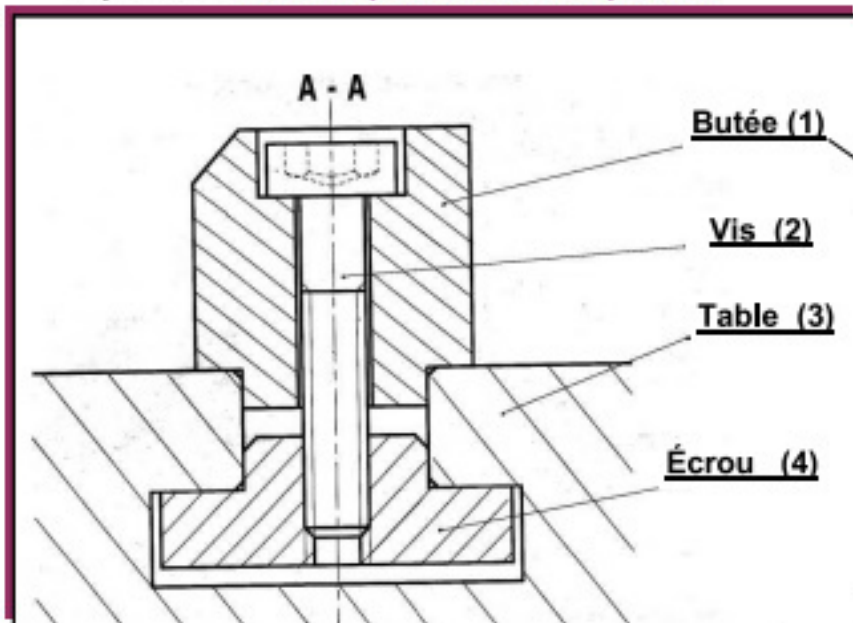
2- Compléter la phrase suivante :

Le levier (2) est soumise à une sollicitation de donc il subit une déformation :

IV- COUPE SIMPLE

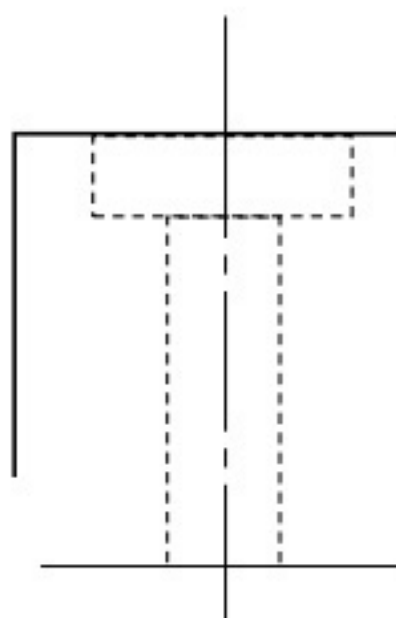
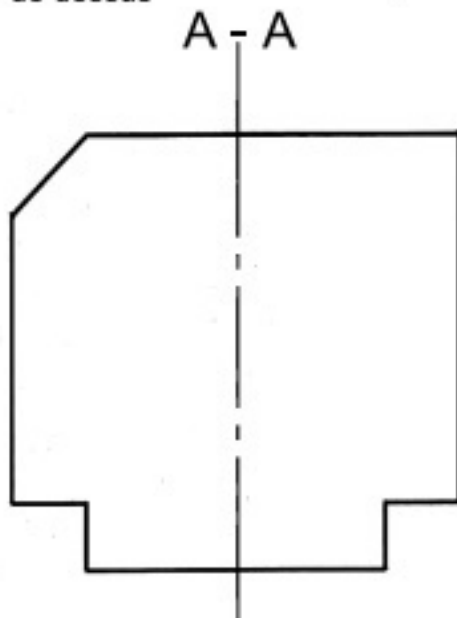
Système : Butée pour table de presse

Prepared by:
موقع علمني
www.3alemni.tn



Travail demandé : compléter le dessin du butée (1) par:

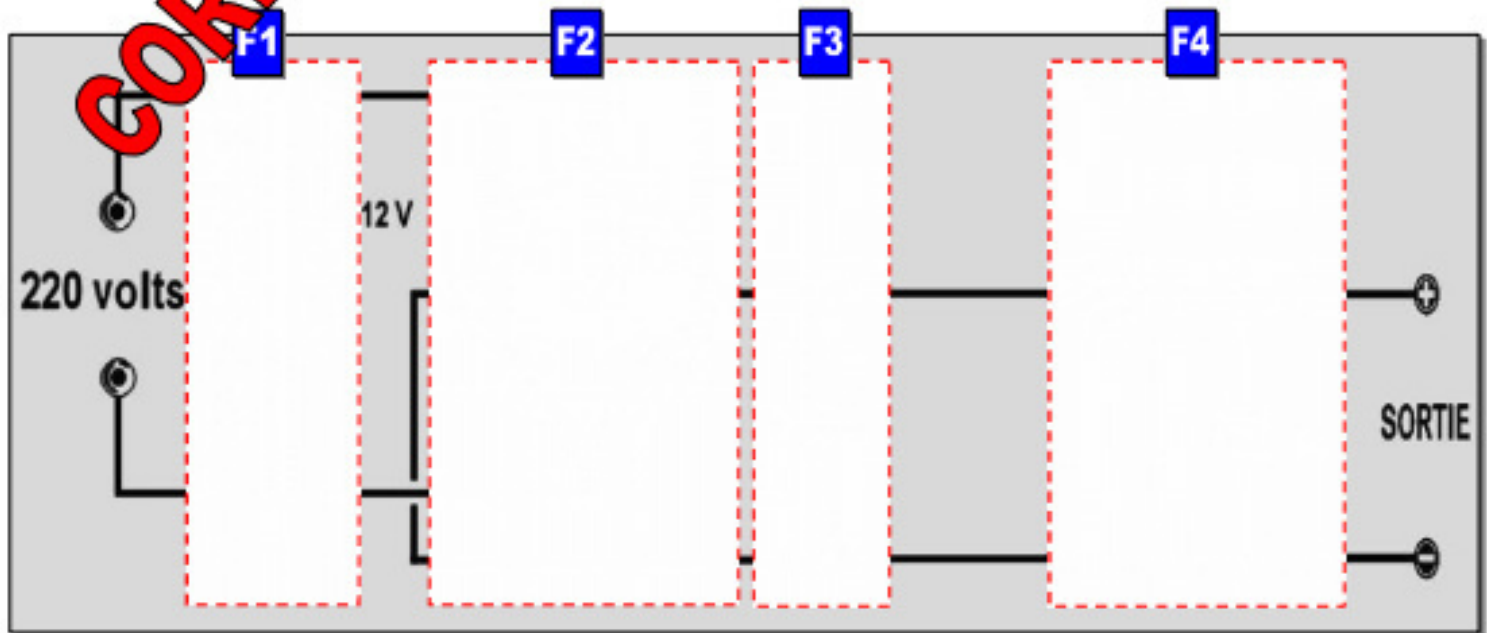
- La vue de face en coupe A - A
- La vue de gauche
- La vue de dessus



Barème

5
pts

Système : Alimentation stabilisée
Mise en situation

 On donne le schéma du montage d'une alimentation stabilisée ayant les caractéristiques suivantes :
 220V(AC) / 12V(DC)


Prepared by:

موقع علمني

www.3alemni.tn

I- FONCTIONS ELECTRONIQUES
Travail demander :
1- Donner le nom et le rôle de chaque composant et chercher sa photo

Barème

Nom	Symbole	photos	Rôle
Pont de diodes (GRAETZ)			Abaissier la tension alternative (220v/12v)
Condensateur polarisé			Laisser passer le courant dans un seul sens de l'anode (A) vers la cathode (K)
Transformateur			Stabiliser la tension filtrée
Diode à jonction			Redresser la tension abaissée
Régulateur (Stabilisateur)			Filtrer la tension redresser

2pts

2- Donner le nom de chaque fonction puis tracer sa courbe de sortie

F1	F2	F3	F4	2pts
<u>Fonction :</u> <u>Adaptation</u>	<u>Fonction :</u> <u>Redressement</u>	<u>Fonction :</u> <u>Filtrage</u>	<u>Fonction :</u> <u>Régulation</u>	
<u>Signal de sortie :</u>	<u>Signal de sortie :</u>	<u>Signal de sortie :</u>	<u>Signal de sortie :</u>	

3- FONCTION REDRESSEMENT

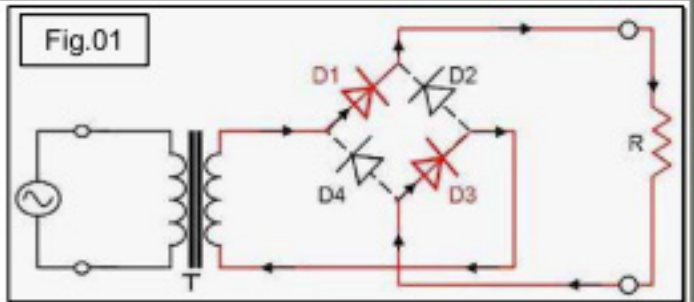
On donne le schéma du redressement suivant :

a- C'est un redressement : (Mettre une croix)

Simple alternance	
Double alternance	X

b- Tracer (sur la fig. 01) le passage du courant pendant l'alternance (+) (seulement)

c- compléter la phrase suivante :



➡ Pendant l'alternance (+): Les diodes : **D1 et D3**, conduisent. Et les diodes : **D2 et D4** bloquées.

4- FONCTION STABILISATION

a- Donner le nom d'un autre composant qui peut réaliser la même fonction F4 :

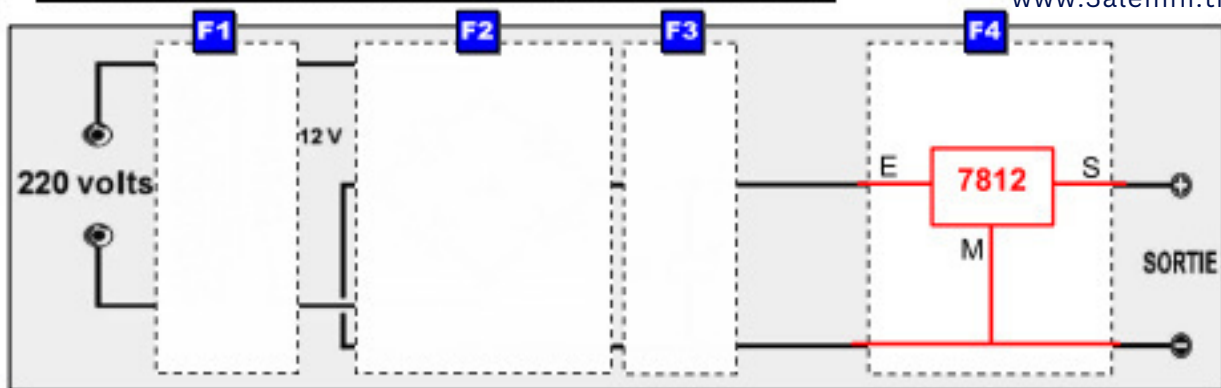
Régulateur (7812)

Prepared by:

موقع علمي

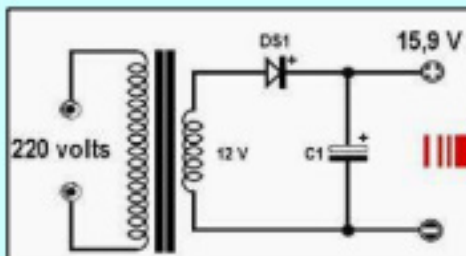
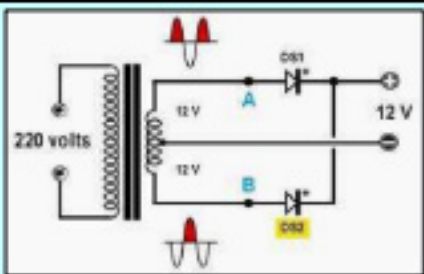
www.3alemni.tn

b- Compléter le schéma ci-dessous avec ce composant :

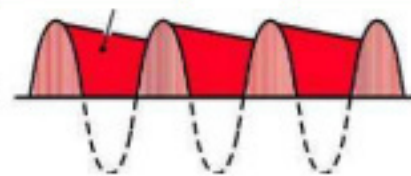


5- Relier par une flèche chaque montage par son signal de sortie

Schéma du montage



Signal



1pt

II- CONTRÔLE DES GRANDEURS ÉLECTRIQUES

On veut vérifier la tension (12V) à la sortie :

a- Notre appareil de mesure est un :

Ampèremètre (analogique)	
Voltmètre (analogique)	X
Ampèremètre (numérique)	
Voltmètre (numérique)	

(Mettre une croix)

Prepared by:
موقع علمي
www.3alemni.tn

b- Choisir le calibre adéquat. (encercler sur l'appareil)

c- Pour mesurer la tension aux bornes de R

On branche l'appareil :

(Mettre une croix)

En série

En parallèle

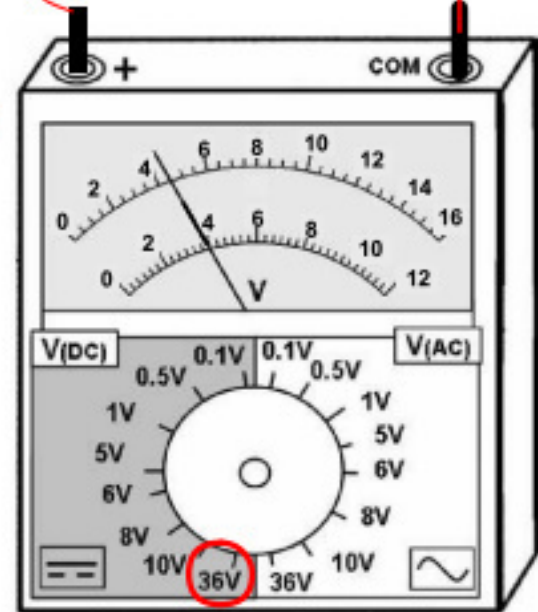
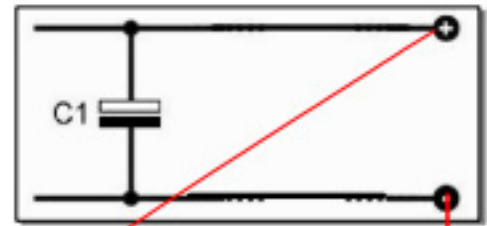
X

d- Brancher l'appareil avec la fig. ci-dessus.

(Relier par des traits)

e- Écrire la formule puis calculer la valeur de cette tension :

$$\text{Valeur} = \frac{\text{Calibre} \times \text{Lecture}}{\text{Échelle}} = \frac{36 \times 4}{12} = 12\text{V}$$

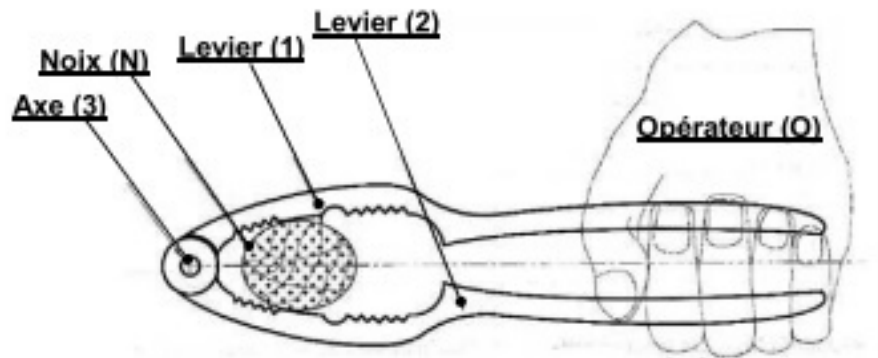


III- SOLLICITATION :

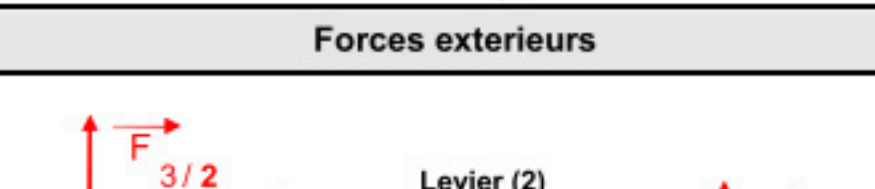
Système : CASSE NOIX :

Mise en situation :

Le système casse-noix permet de briser la coque des noix, noisette.... manuellement.



1- Compléter le tableau ci-dessous

Forces exterieurs		Bilan des forces				
						
Forces	•	/	↑	\vec{F}		
$\vec{F}_{3/2}$	A	V	↑	$\vec{F}_{3/2}$		
$\vec{F}_{N/2}$	B	V	↓	$\vec{F}_{N/2}$		
$\vec{F}_{O/2}$	C	V	↑	$\vec{F}_{O/2}$		

2- Compléter la phrase suivante :

Le levier (2) est soumise à une sollicitation de **Flexion** donc il subit une déformation :
...**Flèche** (ou Fléchissement).....

0.5pt

1pt

0.5pt

1pt

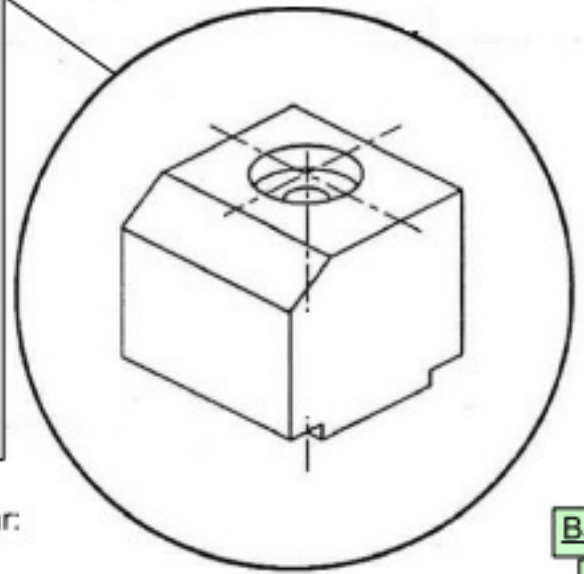
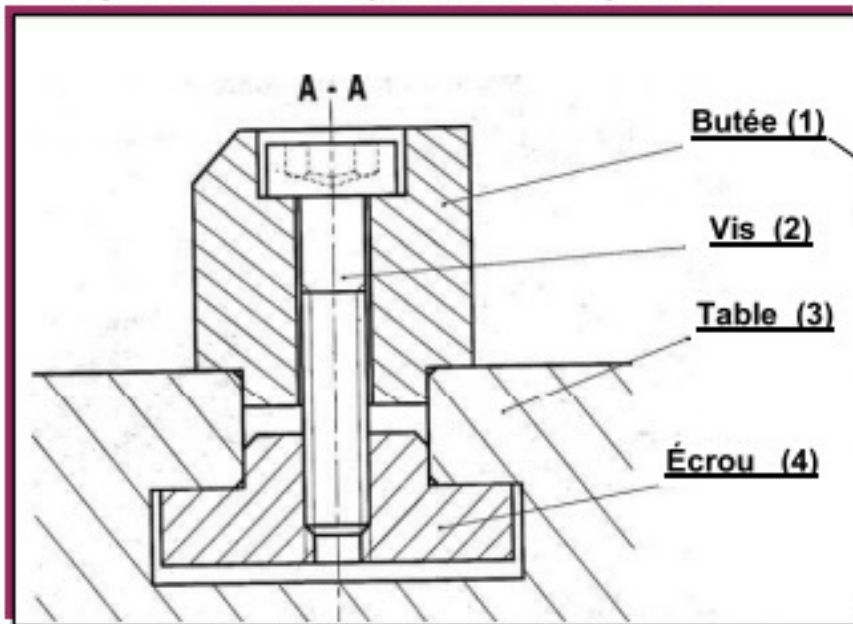
1pt

3pt

IV- COUPE SIMPLE

Système : Butée pour table de presse

Prepared by:
موقع علمني
www.3alemni.tn



Travail demandé : compléter le dessin du butée (1) par:

- La vue de face en coupe A - A
- La vue de gauche
- La vue de dessus

Barème

5
pts

